




# 第三单元 单元测试




1. 看图算一算。

(1)   
 $4+1=\square$




(2)   
 $3+2=\square$

2. 小明看一本 ，第一天看了3页，第二天看了2页，两天一共看了多少页？

$\square \bigcirc \square = \square$  (页)

3. 乐乐有3颗 ，妈妈又给了她2颗 ，乐乐现在一共有多少颗 ？

$\square \bigcirc \square = \square$  (颗)

4. 慧慧有4个 ，方方比她多1个 ，方方有多少个 ？

$\square \bigcirc \square = \square$  (个)

5. 小明计划要看5本故事书，已经看了2本，还剩几本没看？

$\square \bigcirc \square = \square$  (本)

6. 妈妈今天一共浇了几盆花?


我上午浇了4盆花。  
下午浇了1盆花。

$$\square \bigcirc \square = \square \text{ (盆)}$$



7. 状状有3支铅笔, 毛毛比他多2支, 毛毛有几支铅笔?

$$\square \bigcirc \square = \square \text{ (支)}$$

8. 河里还剩几只 ?



游走了1只。



$$\square \bigcirc \square = \square \text{ (只)}$$

9. 一共有5盆花。






我已经浇了4盆。

小丽

还剩几盆没浇?

$$\square \bigcirc \square = \square \text{ (盆)}$$

10. 童童养了4只 , 慧慧养了2只 , 童童比慧慧多养几只 ?

$$\square \bigcirc \square = \square \text{ (只)}$$

### 第三单元 单元测试

1. (1) 5    (2) 5    2.  $3+2=5$   
3.  $3+2=5$     4.  $4+1=5$     5.  $5-2=3$     6.  $4+1=5$   
7.  $3+2=5$     8.  $4-1=3$     9.  $5-4=1$     10.  $4-2=2$