






整理和复习





同学们,学习完本单元,你有哪些收获呢? 让我们梳理一下吧!

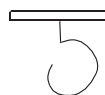
1.  像鸡蛋圆又圆

 像铅笔细又长

 像天鹅水上游

 像耳朵听声音

 像彩旗迎风飘

 像秤钩弯又弯

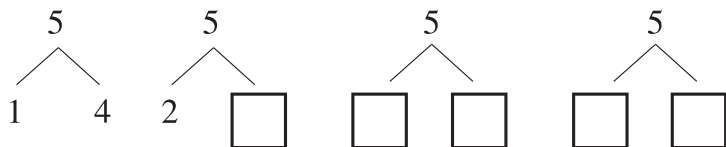
把上面的数按从大到小的顺序排一排: _____

2.



 有()只,从左往右数, 排在第()。 前面有()只,后面有()只。

3.



想一想 2~4 的数的组成是什么呢?



4. 在数学上,一个都没有用()表示。

5. 把下面卡片上的加减法算式补充完整。

	0 + 1				
	1 + 1	0 + 2			
	2 + 1	1 + 2	0 + 3		
	3 + 1	2 + 2	1 + 3	0 + 4	
	4 + 1	3 + 2	2 + 3	1 + 4	0 + 5

0 - 0					
1 - 0	1 - 1				
2 - 0	2 - 1				
3 - 0	3 - 1				
4 - 0	4 - 1				
5 - 0	5 - 1	5 - 2	5 - 3	5 - 4	5 - 5

你能任意指一个算式并写出得数吗?

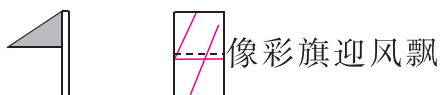
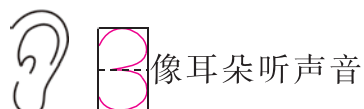
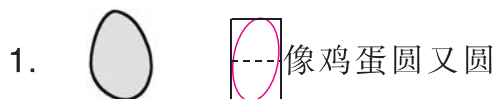




整理和复习



同学们,学习完本单元,你有哪些收获呢? 让我们梳理一下吧!



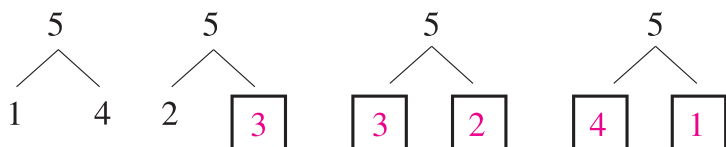
把上面的数按从大到小的顺序排一排: $5 > 4 > 3 > 2 > 1 > 0$

2.



 有 (4) 只,从左往右数,  排在第 (2)。  前面有 (1) 只,后面有 (3) 只。

3.



想一想 2~4 的数的组成是什么呢?



4. 在数学上,一个都没有用 (0) 表示。

5. 把下面卡片上的加减法算式补充完整。

0 + 0					
1 + 0	0 + 1				
2 + 0	1 + 1	0 + 2			
3 + 0	2 + 1	1 + 2	0 + 3		
4 + 0	3 + 1	2 + 2	1 + 3	0 + 4	
5 + 0	4 + 1	3 + 2	2 + 3	1 + 4	0 + 5

0 - 0					
1 - 0	1 - 1				
2 - 0	2 - 1	2 - 2			
3 - 0	3 - 1	3 - 2	3 - 3		
4 - 0	4 - 1	4 - 2	4 - 3	4 - 4	
5 - 0	5 - 1	5 - 2	5 - 3	5 - 4	5 - 5

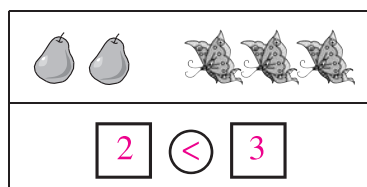
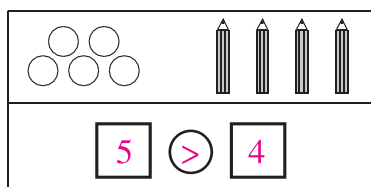
你能任意指一个算式并写出得数吗?





同学们，梳理结束了，你掌握多少呢？让我们检验一下吧！

shǔ yì shǔ tián yì tián bǐ yì bǐ
一、数一数，填一填，比一比。



二、

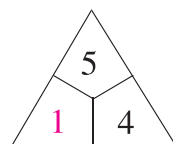
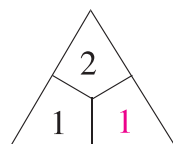
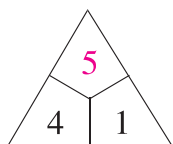
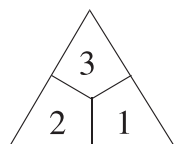


1. 共有(5)只兔子。

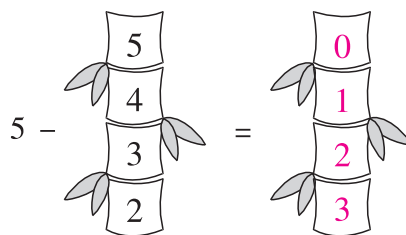
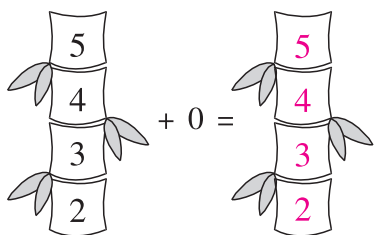
2. 从左数， 排在第(4)；从右数， 排在第(2)。

3. 把右边 3 只兔子圈起来。

zhào yàng zì tián yì tián
三、照样子，填一填。



suàn yì suàn tián yì tián
四、算一算，填一填。



māo zhuō lǎo shǔ
五、猫捉老鼠。

