



# 重难点练习一

(匹配教科书第 14~23 页内容)

zhè gè shù shì jǐ ne

## 一、这个数是几呢？

1.



这个数的前面是2,后面是4。



2.



这个数在1和3之间。



tián yì tián

## 二、填一填。



1. 一共有( )个图形。

2. □的左边有( )个图形,右边有( )个图形。

3. 从右边数,第( )个和第( )个是☆。

tú yì tú bǐ yì bǐ

## 三、涂一涂,比一比。



●和☆同样多



$$4 = 4$$

■比☆少



▲比☆多



kàn tú tián shù

## 四、看图填数。



1. 一共有( )盆花。

2. 从左往右数,第3盆有( )朵花,第5盆有( )朵花。

3. 从右往左数,第2盆有( )朵花,第4盆有( )朵花。

4. 从左往右数,第( )盆和第( )盆合起来是5朵花;第( )盆和第( )盆合起来也是5朵花。



## 重难点练习二

(匹配教科书第 24~29 页内容)

suàn yì suàn

### 一、算一算。

$4 - 1 = \square$

$2 + 3 = \square$

$4 - 2 = \square$

$3 - 2 = \square$

$2 - 1 = \square$

$1 + 4 = \square$

$1 + 3 = \square$

$5 - 4 = \square$

xiǎo mì fēng cǎi huā mì

### 二、小蜜蜂采花蜜。



$3 + 1$



$3 - 2$



$3 - 1$



$5 - 2$



$4 - 3$



$5 - 3$



$2 + 2$



$4 - 1$

kàn tú xiě suàn shì

### 三、看图写算式。

1.



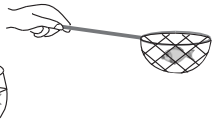
$\square + \square = \square$

2.



$\square - \square = \square$

3.



$\square - \square = \square$

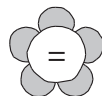
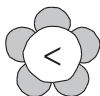
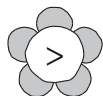
4.



$\square + \square = \square$

huā luò shuí jiā

### 四、花落谁家。



$5 - 2 \begin{array}{c} \square \\ \hline \end{array} 4$

$2 + 2 \begin{array}{c} \square \\ \hline \end{array} 4$

$1 + 3 \begin{array}{c} \square \\ \hline \end{array} 5$

$4 + 1 \begin{array}{c} \square \\ \hline \end{array} 4$

$3 - 1 \begin{array}{c} \square \\ \hline \end{array} 4$

$4 - 2 \begin{array}{c} \square \\ \hline \end{array} 5 - 2$



## 重难点练习一

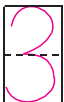
(匹配教科书第 14~23 页内容)

zhè gè shù shì jǐ ne  
一、这个数是几呢？

1.



这个数的前面是2,后面是4。



2.



这个数在1和3之间。




tián yì tián  
二、填一填。



- 一共有( 5 )个图形。
- 的左边有( 3 )个图形,右边有( 1 )个图形。
- 从右边数,第( 1 )个和第( 3 )个是☆。


tú yì tú bǐ yì bǐ  
三、涂一涂,比一比。

●和★同样多



$$4 = 4$$

■比★少



$$\boxed{3} < \boxed{4} \text{ (答案不唯一)}$$

▲比★多



$$\boxed{5} > \boxed{4}$$

kàn tú tián shù  
四、看图填数。



- 一共有( 5 )盆花。
- 从左往右数,第3盆有( 4 )朵花,第5盆有( 3 )朵花。
- 从右往左数,第2盆有( 2 )朵花,第4盆有( 1 )朵花。
- 从左往右数,第( 2 )盆和第( 3 )盆合起来是5朵花;第( 4 )盆和第( 5 )盆合起来也是5朵花。



## 重难点练习二

(匹配教科书第 24~29 页内容)

suàn yì suàn

### 一、算一算。

$4 - 1 = \boxed{3}$

$2 + 3 = \boxed{5}$

$4 - 2 = \boxed{2}$

$3 - 2 = \boxed{1}$

$2 - 1 = \boxed{1}$

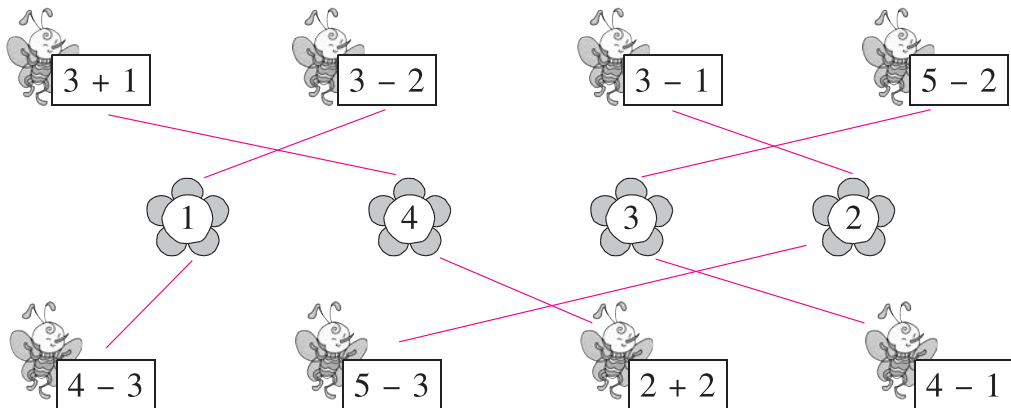
$1 + 4 = \boxed{5}$

$1 + 3 = \boxed{4}$

$5 - 4 = \boxed{1}$


xiǎo mì fēng cǎi huā mì

### 二、小蜜蜂采花蜜。



kàn tú xiě suàn shì

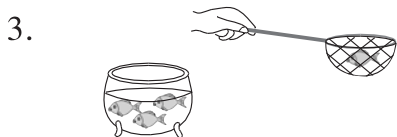
### 三、看图写算式。



$\boxed{2} + \boxed{3} = \boxed{5}$



$\boxed{4} - \boxed{2} = \boxed{2}$



$\boxed{4} - \boxed{1} = \boxed{3}$



$\boxed{2} + \boxed{1} = \boxed{3}$

huā luò shuí jiā

### 四、花落谁家。

