

第四单元 认识图形（一）

认识图形（一）（一）

1. 找朋友，连一连。

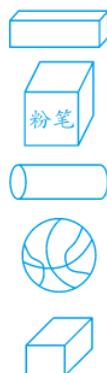


长方体

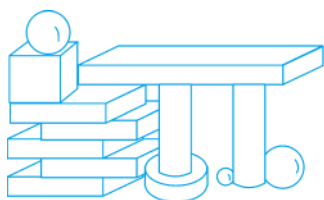
正方体





圆柱

球



















2. 数图形。



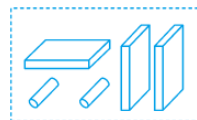
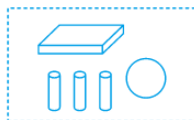
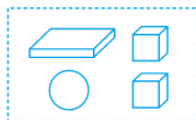
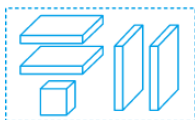
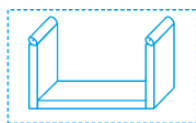
 () 个
 () 个
 () 个
 () 个

3. 利用下表中右边的物体可以画出左边的图形吗？可以画出的用笔圈出来。

认识图形（一）（二）

1. 上面的物体是用下面哪种拼搭成的？（连一连）



2. 接着摆什么？圈出合适的图形。

(1)



(2)



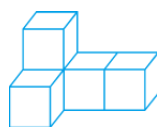
3. 数方块。



() 个



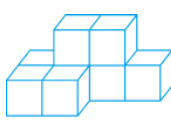
() 个



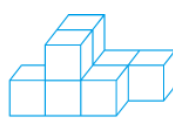
() 个



() 个



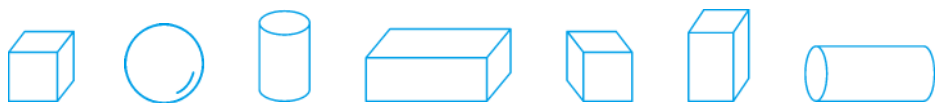
() 个






() 个

第四单元 单元测试

1. 填一填。



从左数,第()个是○。有()个,有()个,
有()个.

2. 看图填空。

(1) 数一数,填一填。

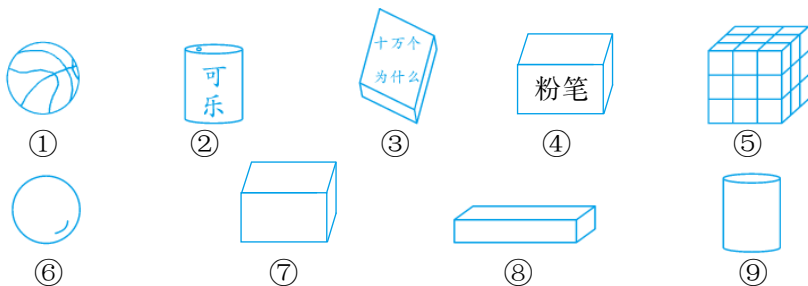
长方体有()个,正方体有
()个,圆柱有()个,球有()个。



(2) 圈一圈,比一比。

圆柱比正方体(多,少)。球比正方体(多,少)。

3. 选择合适的序号填入相应圆圈内。







正方体

长方体

圆柱

球



认识图形（一）（一）

1. 略 2. 6 1 3 3 3. 略

认识图形（一）（二）

1.



2. (1)  (2) 

3. 4 5 5 7 8 8

第四单元 单元测试

1. 2 2 2 2 2. (1) 3 4 3 2

(2) 少 少 3. ⑤ ③④⑦⑧ ②⑨ ①⑥