

第四单元综合检测卷

时间:60 分钟 满分:100 分

题号	一	二	三	四	五	六	七	总分
得分								

rènshíwù tǐ

一、认识物体。(16 分)

1. 在正方体下面的()里画“√”。



()



()



()



()

2. 在球下面的()里画“√”。



()



()



()



()


3. 在圆柱下面的()里画“√”。



()



()



()

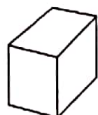


()

4. 在长方体下面的()里画“√”。



()



()



()



()

tiánkòng

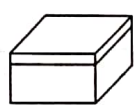
二、填 空。(8 分)

1. 长方体有()个面。

2. 正方体有()个面。
3. 长方体相对的面是完全()的。
4. 正方体的()个面是完全相同的。
5. 排球、足球都是()体。
6. 易拉罐形状是()体。
7. 魔方是()体。
8. ()最容易滚动。

tián xù hào

三、填序号。(12分)



①



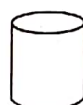
②



③



④




⑤



⑥



⑦



⑧



⑨




⑩

1. _____是长方体。
2. _____是正方体。
3. _____是圆柱体。
4. _____是球体。

shǔ yì shǔ tián yì tián


四、数一数，填一填。(20分)

1. (8分)



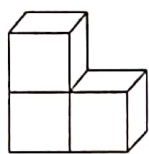
	()个
	()个
	()个
	()个

2. (6分)




有()个 有()个 有()个

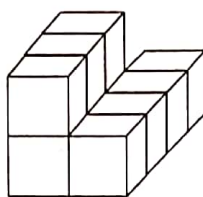
3. 填一填,每个图中有几个小正方体?(6分)



()个



()个


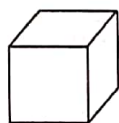


()个

ànyāoqiúzuò tí

五、按要求做题。(22分)

1. 连线。(16分)



正方体

长方体

球

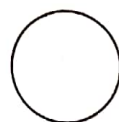


圆柱

正方形

长方形

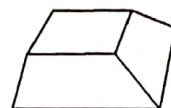
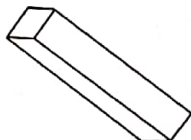

圆

三角形

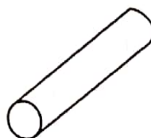


2. 每组中都有一个不同的形状,把它圈出来。(6分)

(1)



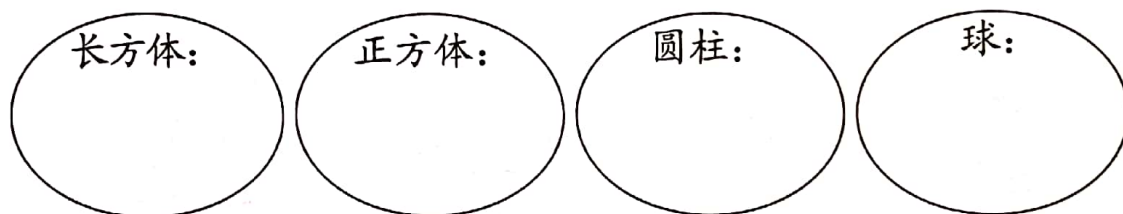
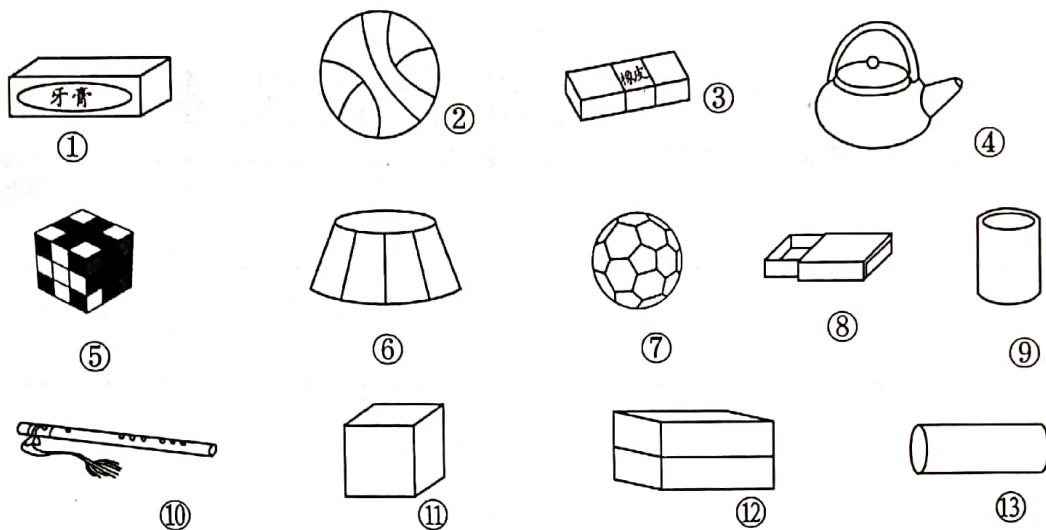
(2)



(3)

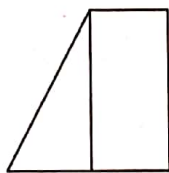
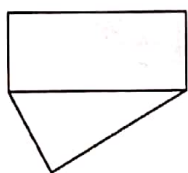


fēn yī fēn bǎ xíng zhuàng xiāng tóng de wù tǐ fàng zài yì qǐ
六、分一分，把形状相同的物体放在一起。(13分)

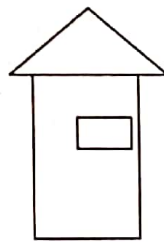
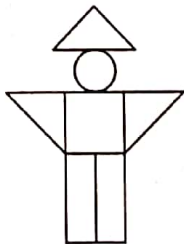
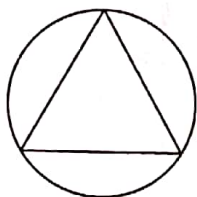


tú yì tú
七、涂一涂。(9分)

1. 把长方形涂上颜色。



2. 把三角形涂上颜色。



3. 把圆涂上颜色。

