

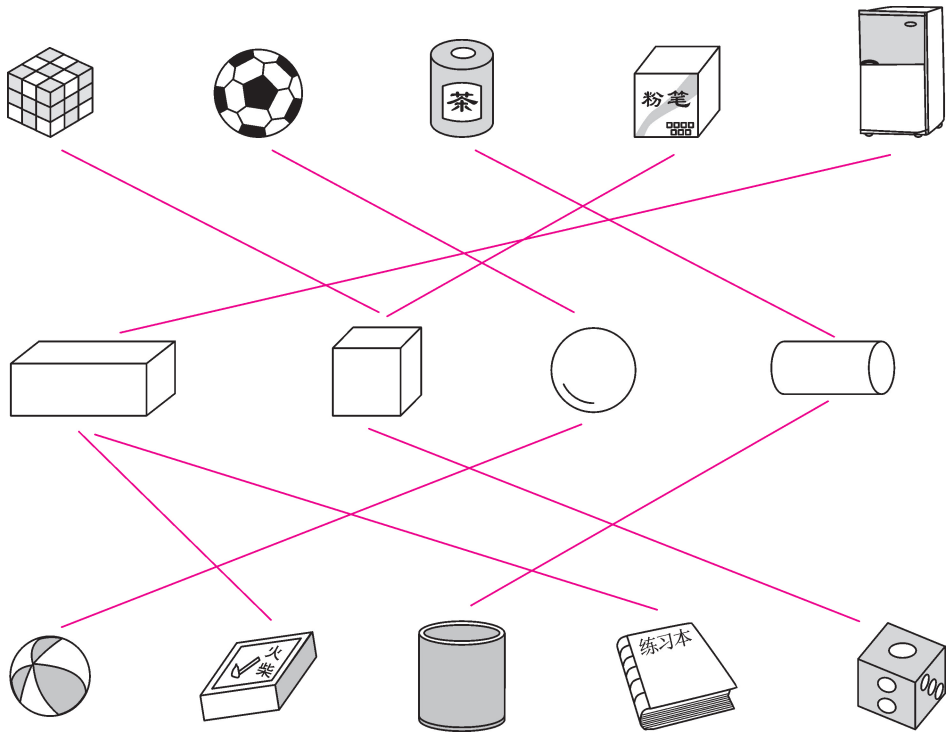
第四单元综合测试卷

——认识图形(一)

(时间:60 分钟 满分:100 分+10 分)




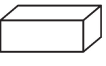
题号	一	二	三	四	五	六	七	八	九	十	总分	附加题
得分												

一 连一连。(10 分)







二 猜猜我是谁?(在正确答案下画“√”)(12 分)




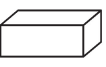
我有正正方方六个面，而且每一个面大小都一样。




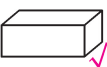
我能站住，还能向前滚动。

我滑溜溜的，没有棱角，很多小朋友都喜欢我。

我有长长方方六个面，每相对的两个面的大小都一样。


① 考生要写清校名、姓名和班级
② 不在试卷上做任何标识
③ 字迹要清楚，卷面要整洁

姓 名

班 级


学 校

考 号

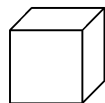


三 选一选。(15 分)

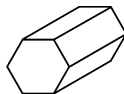
1. 在长方体下面画“√”。




(☒)



()




()



()

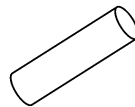
2. 在圆柱下面画“√”。



(☒)



()

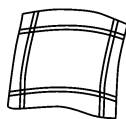


(☒)

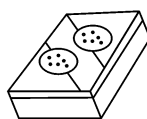


()

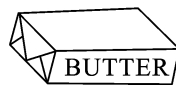
3. 在正方体下面画“√”。



()



()



()



(☒)

4. 在球下面画“√”。



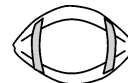
()



()

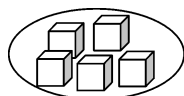


(☒)

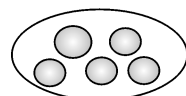


()

5. 把它们分别堆起来,谁最难堆? 在下面画“√”。



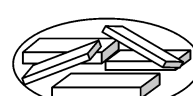
()



(☒)

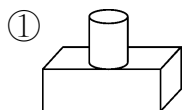


()

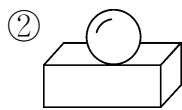


()

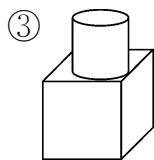
四 谁摆得对? 在()里画“√”。(5 分)



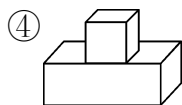
()



()



(☒)

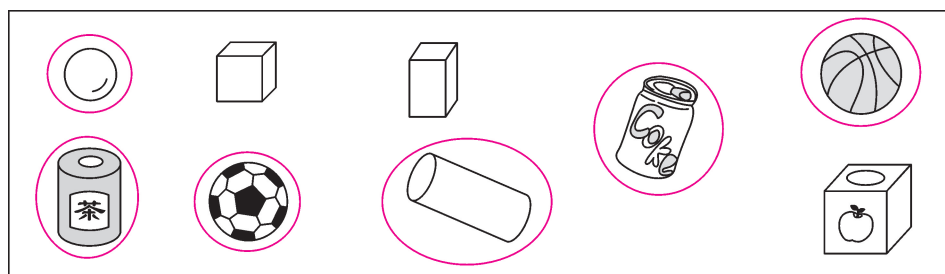


()

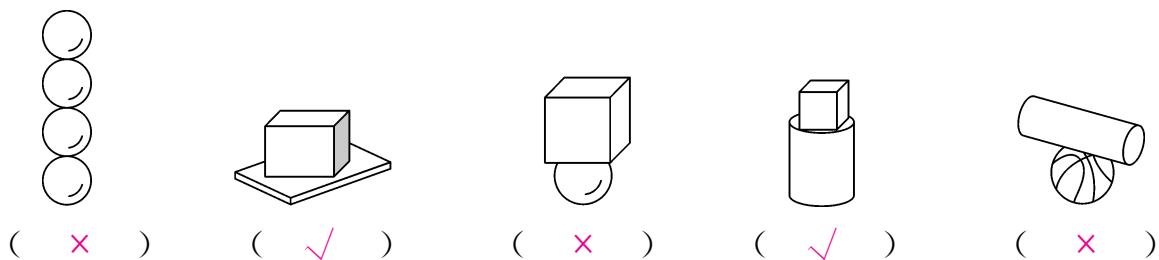
在正方体的上面
放一个圆柱。



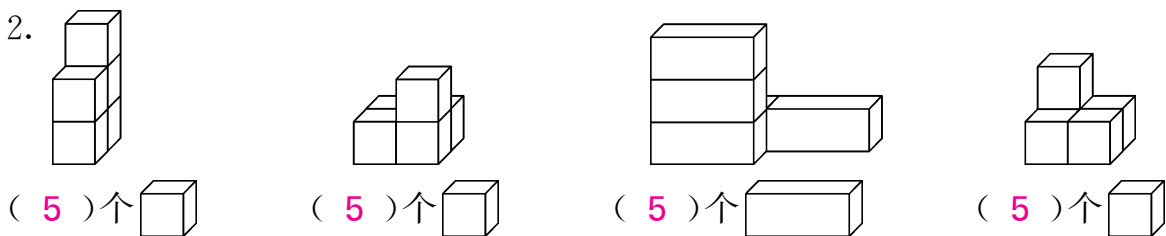
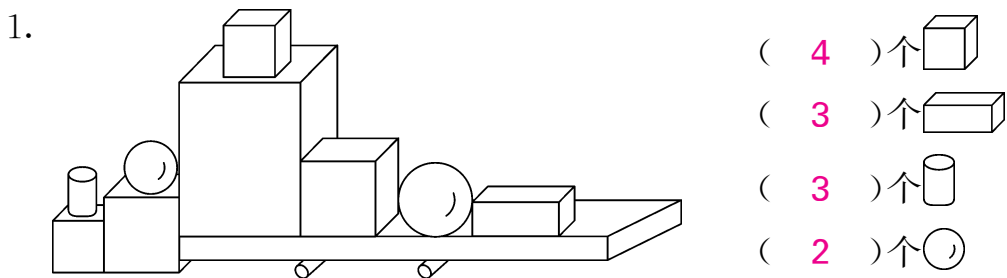
五 把可以滚动的物体圈起来。(6 分)



六 哪组能站稳? 在()里画“√”。哪组站不稳,在()里画“×”(10 分)

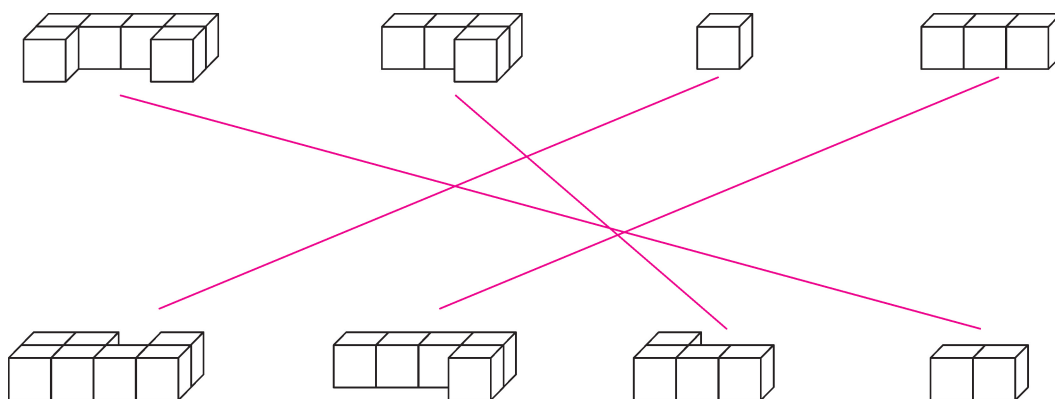


七 数一数,填一填。(16 分)



八 用哪个物体可以画出左边的图形? 把它圈出来。(12 分)

九 哪两个图形可以拼成 ? 请你用线连一连。(8 分)



十 接着摆什么? 圈出正确的答案。(6 分)



智力冲浪(附加题)

如果要使下面的图形成为一个大正方体,至少要添加几个同样的小正方体?(10 分)

4 个

