



## 第四单元检测

kǒu suàn xià miàn gè tí  
一、口算下面各题。

$3 \times 4 =$

$1 \times 6 =$

$6 \times 4 =$

$4 \times 3 =$

$2 \times 6 =$

$5 \times 6 =$

$3 \times 2 =$

$5 \times 5 =$

wǒ huì tián yì tián  
二、我会填一填。

1. 把口诀补充完整。

三四( )

四( )二十

( )四十六

二六( )

一四( )

二( )一十

2. 根据口诀“五六三十”可以写出的乘法算式有( )和( )。

3. (2018 郑州)把  $5 + 5 + 5 + 5 = 20$  改写成乘法算式:( )  $\times$  ( ) = ( ), 读作:( ), 其中( )和( )是乘数,( )是积。

4. 把  $4 \times 6$  改写成加法算式是( )或( )。

5. 一个乘数是 2, 另一个乘数是 4, 积是( )。

6. (2018 新乡)

☆☆	☆☆	☆☆	乘法算式: _____
☆☆	☆☆	☆☆	
( ) 个 ( )			口诀: _____

7. 下面的( )里最大能填几?

$( ) \times 6 < 27$

$4 \times ( ) < 13$

$( ) < 3 \times 5$

xiǎn yì xuǎn jiāng zhèng què dá àn de xù hào tián zài kuò hào lǐ  
三、选一选。(将正确答案的序号填在括号里)

1. (2018 深圳)3 个 5 的和是多少? 用算式表示是( )。

①  $3 \times 5$

②  $3 + 5$

③  $5 - 3$

2. 下面算式中, 能改写成乘法算式的是( )。

①  $1 + 3 + 3$

②  $4 + 4 + 5$

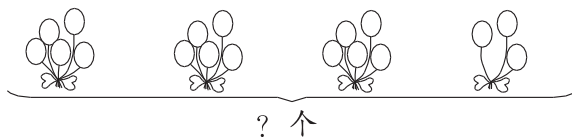
③  $6 + 6 + 6$

3. (2017 襄阳)如右图, 一共有多少个气球? 列式错误的是( )。

①  $3 \times 5 + 3$

②  $4 \times 5 - 3$

③  $4 \times 5 - 2$

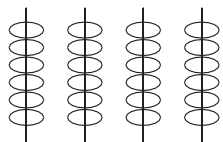




kàn tú liè shì jì suàn


#### 四、看图列式计算。

1.



$$\square \bigcirc \square \square$$

2.



$$\square \bigcirc \square \bigcirc \square = \square$$

$$\square \bigcirc \square \bigcirc \square = \square$$

jiě jué wèn tí

#### 五、解决问题。

1. 公园的走道左边有 6 个长椅,每个长椅上坐了 4 个人,右边有 2 个长椅,一个坐了 6 个人,另一个坐了 4 个人。

(1)左边长椅上一共坐了多少个人?

(2)右边长椅上一共坐了多少个人?

2. (2018 三门峡)一个书包 65 元,一支圆珠笔 6 元。

(1)小明要买一个书包和 3 支圆珠笔,一共要准备多少钱?

(2)你还能提出其他数学问题并解答吗?

3. (2018 郑州)求这首诗一共有多少个字。



我用加法算: $5 + 5 + 5 + 5 + 3 = 23$ (个)

亮晶晶

我用乘法算: $5 \times 4 + 3 = 23$ (个)

大嘴巴



静夜思

床前明月光,

疑是地上霜。

举头望明月,

低头思故乡。

(1)( )的列式比较简便。

①亮晶晶

②大嘴巴

(2)你还会用其他方法计算吗?请写一写。



## 第四单元检测

kǒu suàn xià miàn gè tí  
一、口算下面各题。

$3 \times 4 = 12$

$1 \times 6 = 6$

$6 \times 4 = 24$

$4 \times 3 = 12$

$2 \times 6 = 12$

$5 \times 6 = 30$

$3 \times 2 = 6$

$5 \times 5 = 25$

wǒ huì tián yì tián  
二、我会填一填。

1. 把口诀补充完整。

三四( 十二 )

四( 五 )二十

( 四 )四十六

二六( 十二 )

一四( 得四 )

二( 五 )一十

2. 根据口诀“五六三十”可以写出的乘法算式有(  $5 \times 6 = 30$  )和(  $6 \times 5 = 30$  )。

3. (2018 郑州)把  $5 + 5 + 5 + 5 = 20$  改写成乘法算式:(  $5$  )  $\times$  (  $4$  ) = (  $20$  ),读作:(  $5$  乘  $4$  等于  $20$  ),其中(  $5$  )和(  $4$  )是乘数,(  $20$  )是积。

4. 把  $4 \times 6$  改写成加法算式是(  $6 + 6 + 6 + 6$  )或(  $4 + 4 + 4 + 4 + 4 + 4$  )。

5. 一个乘数是2,另一个乘数是4,积是(  $8$  )。

6. (2018 新乡)

☆☆ ☆☆ ☆☆  
☆☆ ☆☆ ☆☆  
(  $3$  )个(  $4$  )

乘法算式:  $3 \times 4 = 12$

或  $4 \times 3 = 12$

口诀:  $三四十二$

7. 下面的( )里最大能填几?

$( 4 ) \times 6 < 27$

$4 \times ( 3 ) < 13$

$( 14 ) < 3 \times 5$

xuǎn yì xuǎn jiāng zhèng què dá àn de xù hào tián zài kuò hào lǐ  
三、选一选。(将正确答案的序号填在括号里)

1. (2018 深圳)3个5的和是多少?用算式表示是( ① )。

①  $3 \times 5$

②  $3 + 5$

③  $5 - 3$

2. 下面算式中,能改写成乘法算式的是( ③ )。

①  $1 + 3 + 3$

②  $4 + 4 + 5$

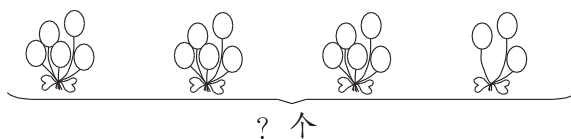
③  $6 + 6 + 6$

3. (2017 襄阳)如右图,一共有多少个气球?列式错误的是( ② )。

①  $3 \times 5 + 3$

②  $4 \times 5 - 3$

③  $4 \times 5 - 2$

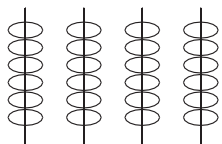




kàn tú liè shì jì suàn


## 四、看图列式计算。

1.



$$\boxed{4} \times \boxed{6} = \boxed{24}$$

2.



$$\boxed{3} \times \boxed{5} + \boxed{2} = \boxed{17}$$

$$\boxed{4} \times \boxed{5} - \boxed{3} = \boxed{17}$$

jiě jué wèn tí

## 五、解决问题。

1. 公园的走道左边有 6 个长椅,每个长椅上坐了 4 个人,右边有 2 个长椅,一个坐了 6 个人,另一个坐了 4 个人。

(1) 左边长椅上一共坐了多少个人?

$$4 \times 6 = 24(\text{个})$$

答:左边长椅上一共坐了 24 个人。

(2) 右边长椅上一共坐了多少个人?

$$6 + 4 = 10(\text{个})$$

答:右边长椅上一共坐了 10 个人。

2. (2018 三门峡) 一个书包 65 元,一支圆珠笔 6 元。

(1) 小明要买一个书包和 3 支圆珠笔,一共要准备多少钱?

$$65 + 3 \times 6 = 83(\text{元})$$

答:一共要准备 83 元。

(2) 你还能提出其他数学问题并解答吗?

买 5 支圆珠笔一共需要多少元?

$$6 \times 5 = 30(\text{元})$$

答:买 5 支圆珠笔一共需要 30 元。(答案不唯一)

3. (2018 郑州) 求这首诗一共有多少个字。



我用加法算: $5 + 5 + 5 + 5 + 3 = 23(\text{个})$

亮晶晶

静夜思

床前明月光,  
疑是地上霜。  
举头望明月,  
低头思故乡。

我用乘法算: $5 \times 4 + 3 = 23(\text{个})$

大嘴巴

(1) ( ② ) 的列式比较简便。

①亮晶晶

②大嘴巴

(2) 你还会用其他方法计算吗? 请写一写。

$$5 \times 5 - 2 = 23(\text{个})$$

答:这首诗一共有 23 个字。