

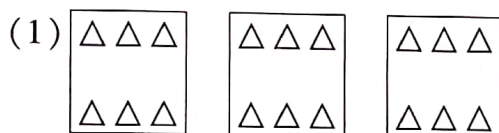
第四单元综合检测卷

时间:70 分钟 满分:110 分

题号	一	二	三	四	五	六	七	八	附加题	总分
得分										


一、快乐填一填。(每空 1 分,共 26 分)

1. 看图写算式。



加法算式_____

乘法算式_____



加法算式_____

乘法算式_____

2. 求几个相同的()和的简便运算叫乘法。

3. $5 \times 4 = 20$ 读作(), 5 和 4 都是(), 20 是()。

4. 计算 3×4 和 4×3 的口诀是()。

5. 根据“五六三十”写出两个乘法算式是()和()。

6. 把乘法口诀补充完整。



一()得二 二()一十 二六()

四()十六 三()十五 ()二得四


()五二十五 ()六二十四 ()十二

7. 5 和 6 的和是(), 5 和 6 的积是()。

8. 4 和 6 相乘是(), 再加上()是 40。

9. 每只猴子摘 5 个 , 7 只猴子摘()个 .

10. 每上一层楼要用 3 分钟, 小明从 1 层到 6 层要用()分钟。

二、在  里填上“>”“<”或“=”。(9 分)

$2 \times 2 \quad \text{cloud} \quad 5$

$4 + 5 \quad \text{cloud} \quad 4 \times 5$

$2 \times 5 \quad \text{cloud} \quad 10$

$5 \times 5 \quad \text{cloud} \quad 20$


$3 \times 6 \quad \text{cloud} \quad 3 + 6$

$3 \times 2 \quad \text{cloud} \quad 5$

$2 + 2 \quad \text{cloud} \quad 2 \times 2$

$1 \times 6 \quad \text{cloud} \quad 1 + 6$

$4 \times 6 \quad \text{cloud} \quad 40 + 60$

三、在  里填上“+”“-”或“ \times ”。(6 分)

$4 \quad \text{sun} \quad 2 = 8$

$6 \quad \text{sun} \quad 2 = 4$

$4 \quad \text{sun} \quad 4 = 16$

$4 \quad \text{sun} \quad 5 = 9$

$5 \quad \text{sun} \quad 4 = 20$

$3 \quad \text{sun} \quad 6 = 18$

四、在 \square 里填上恰当的数。(6 分)

$$\begin{array}{c} \boxed{6} \times \boxed{4} \\ \diagdown \quad \diagup \\ \boxed{} + \boxed{21} \\ \diagup \quad \diagdown \\ \boxed{} \end{array}$$

$$\begin{array}{c} \boxed{5} \times \boxed{2} \\ \diagdown \quad \diagup \\ \boxed{40} - \boxed{} \\ \diagup \quad \diagdown \\ \boxed{} \end{array}$$

$$\begin{array}{c} \boxed{28} - \boxed{23} \\ \diagdown \quad \diagup \\ \boxed{} \times \boxed{5} \\ \diagup \quad \diagdown \\ \boxed{} \end{array}$$

五、快乐连一连。(8 分)

6×6

$6 \times 4 - 4$

$6 \times 2 + 9$

$3 \times 6 + 18$

5×6

$36 + 12 - 23$

$6 \times 3 + 8$

$29 + 24 - 22$

5×5

$5 \times 5 + 11$

$6 \times 4 + 7$

$3 \times 5 + 11$

5×4

$25 + 5$

$6 \times 5 + 6$

$5 \times 5 + 1$

六、看图列式计算。(12分)

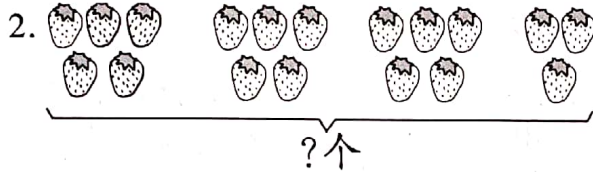
1.



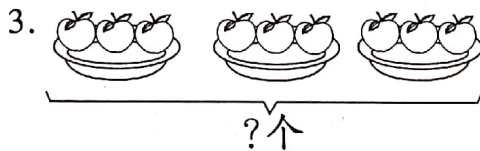
这些羊一共有()条腿。(1分)

加法算式: _____ (2分)

乘法算式: _____ (2分)



列式(不能列加法算式): _____ 或 _____ (3分)



列式: $\square \times \square = \square$ (2分)

乘法口诀: _____ (2分)

七、列式计算。(8分)

1. 一个因数是7,另一个因数是6,积是多少?

2. 5个4相加再减去9得多少?

八、生活中的数学应用。(25分)


1. 仔细观察图中的灯柱。(5分)



2. 22 名同学去公园, 3 辆图中那样的小汽车能一次把他们带去吗? 还需要几辆这样的小汽车呢? (5 分)



3. (5 分)



4. 汉字“石”的笔画有 5 画。(10 分)

(1) 汉字“磊”的笔画有几画?

(2) “石磊”这个名字的笔画一共有几画?

附加题 (共10分)

把 2、3、6 三个数填在合适的位置, 使算式成立。

<p>(1)</p> <p>15</p> <p>___ × ___ + ___ = 15</p>	<p>(2)</p> <p>12</p> <p>___ × ___ + ___ = 12</p>	<p>(3)</p> <p>0</p> <p>___ × ___ - ___ = 0</p>
<p>(4)</p> <p>20</p> <p>___ × ___ + ___ = 20</p>	<p>(5)</p> <p>9</p> <p>___ × ___ - ___ = 9</p>	<p>(6)</p> <p>16</p> <p>___ × ___ - ___ = 16</p>

第四单元综合检测卷

一、1. (1) $6+6+6=18$ $6\times 3=18$

(2) $4+4+4=12$ $4\times 3=12$

2. 数相加的

3. 5 乘 4 等于 20 因数 积

4. 三四十二

5. $5\times 6=30$ $6\times 5=30$

6. 二 五 十二 四 五 二 五 四 三四(或二六)

7. 11 30

8. 24 16

9. 35

10. 15

二、< < = > > > = < <

三、 \times - \times + \times \times

四、24 45 10 30 5 25

五、略

六、1. 12 $4+4+4=12$

$4\times 3=12$ 或 $3\times 4=12$ (条)

2. $5\times 3+3=18$ $5\times 4-2=18$

3. $3\times 3=9$ 口诀:三三得九

七、1. $7\times 6=42$ 2. $5\times 4-9=11$

八、1. $3\times 4=12$ (只) 够

2. $6\times 3=18$ (人) 18 人 < 22 人

不能一次把他们带走,还需 1 辆。

3. 小芳家: $6+4=10$ (棵)

小兰家: $6\times 2=12$ (棵)

10 棵 < 12 棵 $12-10=2$ (棵)

小兰家种的桃树多,多 2 棵。

4. 略

附加题:(1)2 6 3

(2)2 3 6

(3)2 3 6

(4)3 6 2

(5)6 2 3

(6)3 6 2

解析 解决这类问题,需要根据每道算式的得数,把6、3、2三个数进行组合,运用加、减、乘三种运算进行尝试推算。