

第四单元测试卷

时间:90 分钟 满分:100 分

题号	一	二	三	四	五	六	总分
得分							

一、填一填。(每空 1 分,共 31 分)

1. 口算 400×3 时,想:()个百乘 3 得()个百,就是()。

2. 口算 21×4 时,可以这样想:

\times	20	1
4		

$$\square + \square = \square$$

3. 口算 $210 \div 7$ 时,先算() $\div 7 =$ (),再在商的末尾添上()个 0,商就是()。

4. 口算 $42 \div 2$ 时,先用() $\div 2 =$ (),再用() $\div 2 =$ (),最后把()和()加起来,结果是()。

5. \square 里应填几。

$$\square \div 3 = 60$$

$$\square \times 3 = 180$$

$$60 \div \square = 30$$

6. 5×400 的积的末尾有()个 0, $400 \div 8$ 的商的末尾有()个 0。

7. 在 \bigcirc 里填上“>”“<”或“=”。

$$90 \times 2 \bigcirc 30 \times 6$$

$$13 \times 6 \bigcirc 450 \div 9$$

$$350 \div 7 \bigcirc 210 \div 3$$

$$36 \div 3 \bigcirc 40 \div 4$$

$$630 \div 7 \bigcirc 720 \div 8$$

$$13 \times 5 \bigcirc 15 \times 3$$

8. 小欣带 38 元钱去买练习本,每本练习本 2 元,他能买()本练习本。

二、判断。(对的画“√”,错的画“×”)(5分)

1. 15 的 3 倍是 45。 ()
2. 计算 $(450 + 50) \div 5$ 时,要先算除法。 ()
3. 32×8 既表示 32 的 8 倍,又表示 8 个 32 的和。 ()
4. $48 \div 3$ 的商是一位数。 ()
5. 一个三位数乘 8 的积一定是三位数。 ()

三、选择。(将正确答案的序号填在括号里)(10分)

1. 一个乘数是 30,另一个乘数是 7,它们的积是()。
A. 21 B. 210 C. 2100
2. 18 个百除以 2 个百等于()。
A. 9 B. 90 C. 900
3. 动物园儿童票每张 8 元,12 个学生去动物园要准备()元钱。
A. 70 B. 96 C. 91
4. 右面框中的计算过程是在计算算式()。
A. 12×4 B. 14×2 C. 16×3
5. 小马虎把 $(5 + 0) \times 24$ 错写成了 $5 + 0 \times 24$,他计算出的结果与正确结果相差()。
A. 120 B. 115 C. 110

$10 \times 4 = 40$
$2 \times 4 = 8$
$40 + 8 = 48$

四、计算。(22分)

1. 直接写出得数。(4分)

$34 \times 2 =$	$6 \times 50 =$	$700 \times 4 =$	$3 \times 800 =$
$160 \div 4 =$	$15 \times 4 =$	$63 \div 7 =$	$48 \div 4 =$

2. 脱式计算。(12分)

$75 + 3 \times 40$	$270 \div 3 + 48$	$76 \times (80 - 75)$
--------------------	-------------------	-----------------------

$(26 + 58) \div 4$

$100 - 29 \times 3$

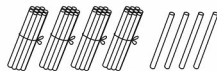
$(42 + 38) \div 4$

3. 圈一圈,填一填,算一算。(6分)

(1) $15 \times 4 =$

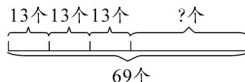


(2) $44 \div 4 =$

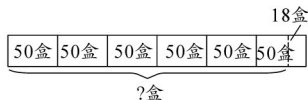


五、看图列式计算。(8分)

1.



2.



六、解决问题。(24分)

1. 三年级2名老师带领90名学生参加社会实践活动。(7分)

(1) 租2辆车能坐下吗?(3分)



(2) 每辆车的租金是250元,每人交5元钱,够吗?(4分)

2. 快餐店。(8分)



8元/杯



2个16元



12元/盒

(1) 买1杯可乐和4个汉堡,一共需要多少钱?(4分)

(2) 王雪买了3盒鸡米花,付了50元,应找回多少钱?(4分)

3. 购物。(9分)



10元



3元



63元

(1) 一个书包的价钱是一个文具盒的几倍?(3分)

(2) 一个书包比一个文具盒贵多少元?(3分)

(3) 楠楠带了80元,他想买一个书包和一盒油画棒,够吗?(3分)

第四单元测试卷

- 一、1. 4 12 1200 2. $80 \div 4 = 84$
3. 21 3 1 30 4. 40 20 2 1 20 1 21
5. 180 60 2 6. 3 1

7. $= > < > = >$ 8. 19

- 二、1. \checkmark 2. \times 3. \checkmark 4. \times 5. \times

- 三、1. B 2. A 3. B 4. A 5. B

- 四、1. 68 300 2800 2400 40 60 9 12
2. 195 138 380 21 13 20
3. (图略)(1)60 (2)11

五、1. $69 - 13 \times 3 = 30$ (个) 2. $50 \times 6 - 18 = 282$ (盒)

六、1. (1) $48 \times 2 = 96$ (人) $90 + 2 = 92$ (人)

$96 > 92$, 能坐下

(2) $92 \times 5 = 460$ (元), $250 + 250 = 500$ (元)

$460 < 500$, 不够

2. (1) $8 + 16 \times 2 = 40$ (元) (2) $50 - 12 \times 3 = 14$ (元)

3. (1) $63 \div 3 = 21$ (2) $63 - 3 = 60$ (元)

(3) $63 + 10 = 73$ (元) $73 < 80$, 够