



## 重难点练习三

(匹配教科书第 41~42 页内容)

### 一、列竖式计算。(带※的要验算)

$$765 - 542 =$$

$$375 - 154 =$$

$$※607 - 188 =$$

$$630 - 465 =$$

$$356 - 187 =$$

$$※1000 - 399 =$$

### 二、数学医院。(对的画“√”,错的画“×”,并改正)

$$\begin{array}{r} 826 \\ - 189 \\ \hline 747 \end{array}$$

改正:





$$\begin{array}{r} 304 \\ - 271 \\ \hline 173 \end{array}$$

改正:

( )

( )

### 三、填表。

				
原有	252 块	362 支	108 把	426 本
卖出	145 块	( ) 支	( ) 把	240 本
还剩	( ) 块	97 支	29 把	( ) 本

四、小红和妹妹一起参加 800 米赛跑,2 分钟后妹妹跑了 295 米,小红跑了 366 米,此时小红比妹妹多跑了多少米? 她俩各自还剩多少米没跑?



## 第4课时 解决问题

### 基础过关

一、列竖式计算。

$$172 + 578 + 231 =$$

$$169 + 263 + 336 =$$

$$538 + 214 + 162 =$$

二、爸爸带了900元去超市购物,他先在服装区给明明买了一件运动衣花了199元,接下来他还想买几台小家电,价格如下:



电风扇 235 元



豆浆机 178 元



电饭煲 269 元

1. 买完运动衣后,爸爸还剩多少钱?

2. 三种小家电如果各买一台,钱够用吗? 如果够用,最后还能余多少钱?

三、学校要为每个学生建立一份电子档案。

1. 老师要给每个学生发一份信息表,估一估,给这三个年级准备800份信息表够吗?

年级	四年级	五年级	六年级
人数/人	236	269	248

2. 这三个年级一共要建多少份电子档案?

### 能力提升

四、瑶瑶和婷婷比赛跳绳。婷婷三次共跳了490下,瑶瑶前两次各跳了158下,她第三次至少跳多少下才能超过婷婷?



## 重难点练习三

(匹配教科书第 41~42 页内容)

### 一、列竖式计算。(带※的要验算)

$$765 - 542 = 223$$

$$\begin{array}{r} 765 \\ - 542 \\ \hline 223 \end{array}$$

$$375 - 154 = 221$$

$$\begin{array}{r} 375 \\ - 154 \\ \hline 221 \end{array}$$

$$※607 - 188 = 419$$

$$\begin{array}{r} \overset{\cdot}{6}\overset{\cdot}{0}\overset{\cdot}{7} \\ - 188 \\ \hline 419 \end{array} \quad \text{验算:} \quad \begin{array}{r} 188 \\ + 419 \\ \hline 607 \end{array}$$

$$630 - 465 = 165$$

$$\begin{array}{r} \overset{\cdot}{6}\overset{\cdot}{3}\overset{\cdot}{0} \\ - 465 \\ \hline 165 \end{array}$$

$$356 - 187 = 169$$

$$\begin{array}{r} \overset{\cdot}{3}\overset{\cdot}{5}\overset{\cdot}{6} \\ - 187 \\ \hline 169 \end{array}$$

$$※1000 - 399 = 601$$

$$\begin{array}{r} \overset{\cdot}{1}\overset{\cdot}{0}\overset{\cdot}{0}\overset{\cdot}{0} \\ - 399 \\ \hline 601 \end{array} \quad \text{验算:} \quad \begin{array}{r} 601 \\ + 399 \\ \hline 1000 \end{array}$$

### 二、数学医院。(对的画“√”,错的画“×”,并改正)

1.  $826$

$$\begin{array}{r} 826 \\ - 189 \\ \hline 747 \end{array}$$

( × )

改正:

$$\begin{array}{r} \overset{\cdot}{8}\overset{\cdot}{2}\overset{\cdot}{6} \\ - 189 \\ \hline 637 \end{array}$$

2.  $304$





$$\begin{array}{r} 304 \\ - 271 \\ \hline 173 \end{array}$$

( × )

改正:

$$\begin{array}{r} \overset{\cdot}{3}\overset{\cdot}{0}\overset{\cdot}{4} \\ - 271 \\ \hline 33 \end{array}$$

### 三、填表。

				
原有	252 块	362 支	108 把	426 本
卖出	145 块	( 265 ) 支	( 79 ) 把	240 本
还剩	( 107 ) 块	97 支	29 把	( 186 ) 本

四、小红和妹妹一起参加 800 米赛跑,2 分钟后妹妹跑了 295 米,小红跑了 366 米,此时小红比妹妹多跑了多少米? 她俩各自还剩多少米没跑?

小红比妹妹多跑:  $366 - 295 = 71$  (米)

小红还剩:  $800 - 366 = 434$  (米)

妹妹还剩:  $800 - 295 = 505$  (米)

答:此时小红比妹妹多跑了 71 米。小红还剩 434 米没跑。妹妹还剩 505 米没跑。



## 第4课时 解决问题

### 基础过关

#### 一、列竖式计算。

$$172 + 578 + 231 = 981$$

$$\begin{array}{r} 172 \\ 578 \\ + 231 \\ \hline 981 \end{array}$$

$$169 + 263 + 336 = 768$$

$$\begin{array}{r} 169 \\ 263 \\ + 336 \\ \hline 768 \end{array}$$

$$538 + 214 + 162 = 914$$

$$\begin{array}{r} 538 \\ 214 \\ + 162 \\ \hline 914 \end{array}$$

二、爸爸带了900元去超市购物,他先在服装区给明明买了一件运动衣花了199元,接下来他还想买几台小家电,价格如下:



电风扇 235 元



豆浆机 178 元



电饭煲 269 元

1. 买完运动衣后,爸爸还剩多少钱?

$$900 - 199 = 701(\text{元})$$

答:爸爸还剩 701 元钱。

2. 三种小家电如果各买一台,钱够用吗? 如果够用,最后还能余多少钱?

$$235 + 178 + 269 = 682(\text{元}) \quad 682 < 701 \quad \text{余 } 701 - 682 = 19(\text{元})$$

答:够用。最后还能余 19 元钱。

三、学校要为每个学生建立一份电子档案。

1. 老师要给每个学生发一份信息表,估一估,给这三个年级准备 800 份信息表够吗?

$$240 + 270 + 250 = 760(\text{份}) \quad 760 < 800$$

答:给这三个年级准备 800 份信息表够。

2. 这三个年级一共要建多少份电子档案?

$$236 + 269 + 248 = 753(\text{份})$$

答:这三个年级一共要建 753 份电子档案。

年级	四年级	五年级	六年级
人数/人	236	269	248

### 能力提升

四、瑶瑶和婷婷比赛跳绳。婷婷三次共跳了 490 下,瑶瑶前两次各跳了 158 下,她第三次至少跳多少下才能超过婷婷?

$$490 - 158 - 158 = 174(\text{下}) \quad 174 + 1 = 175(\text{下})$$

答:她第三次至少跳 175 下才能超过婷婷。