




10 以内减法应用题（五）

1. 王明从家中拿了 8 元钱，买  用去 5 元，还剩几元？




2. 小李买了 10 本课外 ，看了的正好比买来的少 5 本，还剩几本没有看？

3. 小明和小聪栽树，小明栽了 8 棵树，小聪栽的比小明栽的少 3 棵，小聪栽了多少棵？

4. 王师傅买来 10 棵 ，买来的  比买来的  多 4 棵，买来的  有几棵？

5. 小立爸爸买来 10 个 ，买来的  比买来的  多 3 个，买了几个 ？

10 以内减法应用题（六）

1. 小刚在 20 秒内原地跳了 8 下，小强在 20 秒内比小刚少跳 2 下，小强跳了多少下？
2. 在相同的时间内，小美写了 8 个字，小丽比小美少写 1 个，小丽写了几个字？
3. 小红和小丽比赛跳 ，小红跳了 10 下，小丽比小红少跳 2 下，小丽跳了几下？
4. 小海摘了 10 串 ，送给同学 4 串，小海还剩下几串 ？

10 以内减法应用题（五）

1. $8-5=3$ （元） 2. $10-5=5$ （本） 3. $8-3=5$ （棵）
4. $10-4=6$ （棵） 5. $10-3=7$ （个）

10 以内减法应用题（六）

1. $8-2=6$ （下） 2. $8-1=7$ （个） 3. $10-2=8$ （下）
4. $10-4=6$ （串）