







### 10 以内减法应用题（七）

1. 芳芳有 5 个 ，小丽有 10 个 ，小丽比芳芳多多少个 ？



2. 李华买来 10 本 ，李华比王军多买了 3 本，王军买了几本 ？


3. 小亮有 8 个 ，吃了 2 个，还剩几个 ？

4. 妈妈给小亮买来 10 串 ，妈妈和小亮共吃了 5 串，还剩几串 ？

5. 商店一共有 10 个 ，卖出了 3 个 ，还剩多少个？





### 10 以内减法应用题（八）

1. 小明买了 5 支 ，同学借走了 3 支 ，还剩多少支？

2. 学校体育馆买来 10 个 ，借出去 4 个，体育馆还剩几个？

3. 笼子里一共有 10 只 ，飞走了 8 只，还剩几只 ？

4. 学校一共养了 10 只白兔和黑兔，白兔有 7 只，黑兔有多少只？

5. 一本  6 元，一本  1 元，一本  比一本  贵多少元？

**10 以内减法应用题（七）**

1.  $10-5=5$ （个）
2.  $10-3=7$ （本）
3.  $8-2=6$ （个）
4.  $10-5=5$ （串）
5.  $10-3=7$ （个）

**10 以内减法应用题（八）**

1.  $5-3=2$ （支）
2.  $10-4=6$ （个）
3.  $10-8=2$ （只）
4.  $10-7=3$ （只）
5.  $6-1=5$ （元）