

10 以内加、减混合应用题 (三)



1. 一共有 9 个草莓。

我吃了 6 个。



还剩几个?

$$\square \bigcirc \square = \square \text{ (个)}$$

2. 方方家养了 6 只 , 养了 3 只 , 一共养了多少只小动物?

$$\square \bigcirc \square = \square \text{ (只)}$$

3. 张洋在超市买了 10 斤水果。其中桃子有 3 斤, 其余的是火龙果, 火龙果有几斤?

$$\square \bigcirc \square = \square \text{ (斤)}$$

4. 看图回答问题。




(1) 图中一共有多少只小鸡?

(2) 根据算式 $3+4=7$ 提出问题。

10 以内加、减混合应用题（四）

1. 看图填空并列式计算。




河里有（ ）只鸭，岸上有（ ）只小鸡，要解决的问题是“上图中一共有几只动物”，用（ ）法计算。

$$\square \bigcirc \square = \square \text{ (只)}$$

2. 列式并计算。

（1）兔妈妈拔了3根 ，兔爸爸拔了6根 。兔爸爸比兔妈妈多拔了（ ）根 .

列式：_____

兔妈妈和兔爸爸共拔了（ ）根 .

列式：_____

（2）阳阳种了4棵树，冬冬种了5棵树。请你提出两个问题，并列式解答。

问题1：_____

解答：_____

问题2：_____

解答：_____

10 以内加、减混合应用题（三）

1. $9-6=3$ 2. $6+3=9$ 3. $10-3=7$
4. (1) 7 (2) 小鸭子和小鸟一共有多少只？

10 以内加、减混合应用题（四）

1. 5 4 加 $5+4=9$
2. (1) 3 $6-3=3$ （根） 9 $6+3=9$ （根）
 (2) 阳阳和冬冬一共种了多少棵树。
 $4+5=9$ （棵） 冬冬比阳阳多种几棵树。
 $5-4=1$ （棵）