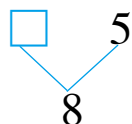
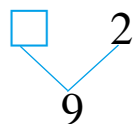
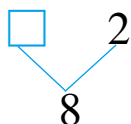
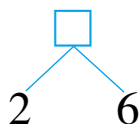
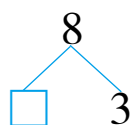
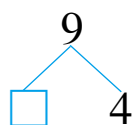
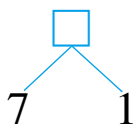
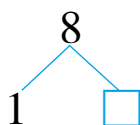


6~10的认识(三)

1. 填一填。



2. 数一数, 填一填。



(1) 一共有 () 盘。

(2) 第一盘有 8 个, 第 () 盘和第 () 盘合起来有 8 个, 第 () 盘和第 () 盘合起来有 9 个。

3. 数一数, 比一比。



○	() 个
●	() 个



6~10的认识(四)

1. 想一想, 填一填。



(1) 比8大的数有()。

(2) 7和9中间的数是()。

(3) 9前面的第4个数是()。

(4) 9后面的数是(), 10是5后面的第()个数。

2. 哪两个星星上的数合起来是10?(连一连)



3. 填一填, 比一比。



(1) 上面一共有()个数, 最小的数是(), 最大的数是()。

(2) 把它们从大到小排列是: _____。

6 ~ 10 的认识 (三)

1. 7 8 5 5 8 6 7 3
2. (1) 8 (2) 2 8 3 6 (答案不唯一)
3. 9 10 9 < 10

6 ~ 10 的认识 (四)

1. 4 5 7 10 (1) 9 10 (2) 8
(3) 5 (4) 10 5 2. 略
3. (1) 5 1 10 (2) 10 9 7 2 1