
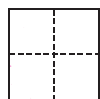




第五单元检测

kuài lè tián yì tián
一、快乐填一填。

1. 数一数，填一填。



2. 按顺序填一填。

(1)

		7		9	
--	--	---	--	---	--

(2)

		6			3
--	--	---	--	--	---

3. 玩卡片。





7	5	3	1	4	10	8	6
---	---	---	---	---	----	---	---

(1) 从左数，第6张卡片上的数是()；从右数，第()张卡片上的数是6。

(2) 从右数，第()张卡片上的数最大，是()；从左数，第()张卡片上的数最小，是()。

(3) 从左数，第()张卡片和第()张卡片上的数合起来是10，第()张和第()张卡片上的数合起来是9。

4. (2017 南阳)照样子，填一填。



5. 在○里填上“>”“<”或“=”。

$7 \bigcirc 3$

$6 \bigcirc 8$

$9 \bigcirc 10$

$8 \bigcirc 4$

$5 + 3 \bigcirc 6$

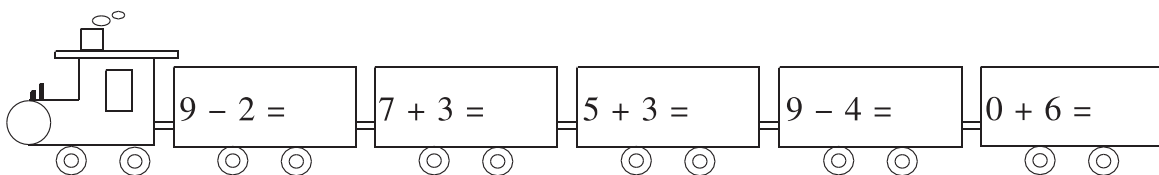
$3 + 7 \bigcirc 8$


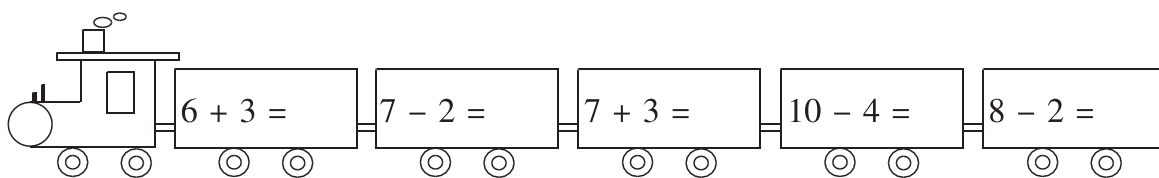
$10 - 3 \bigcirc 6$

$9 - 1 \bigcirc 6 + 2$

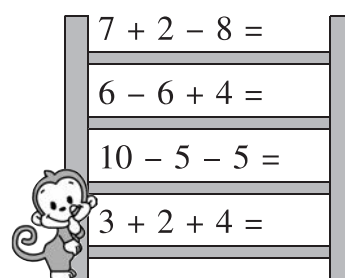


$4 - 4 \bigcirc 4 + 4$

$5 + 2 - 2 \bigcirc 7$

kāi huǒ chē
二、开火车。



xiǎo hóu zi pá tī zi
三、小猴子爬梯子。



àn yāo qiú zuò yì zuò
四、按要求做一做。

1. 在□里填上合适的数。

$6 + \square = 8$

$7 + \square = 9$

$3 + \square = 8$

$\square + 5 = 9$

$\square + 2 = 10$



$4 + \square = 6$

$\square + 2 = 7$

$5 + \square = 10$

$8 + \square = 9$

2. 小鱼儿会游向哪片荷叶？



$8 \text{ 片 } 5 = 3$

$10 \text{ 片 } 4 = 6$

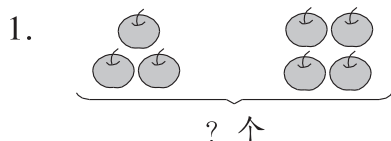
$9 \text{ 片 } 2 \text{ 片 } 4 = 3$

$4 \text{ 片 } 5 = 9$

$8 \text{ 片 } 2 = 6$

$7 \text{ 片 } 2 \text{ 片 } 3 = 8$

kàn tú liè shì jì suàn
五、看图列式计算。



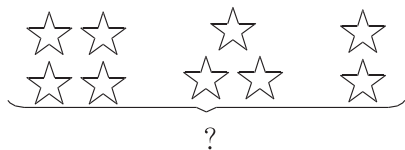
$\square \bigcirc \square = \square \text{ (个)}$



$\square \bigcirc \square = \square \text{ (本)}$

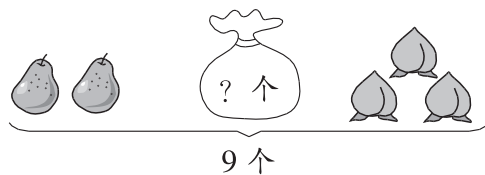


3.



$$\square \bigcirc \square \bigcirc \square = \square$$

4.






$$\square \bigcirc \square \bigcirc \square = \square \text{ (个)}$$

jiě jué wèn tí
六、解决问题。


1.



筐子外面有 \square 棵 , 筐子里面有 \square 棵 , 一共有多少棵 ?

$$\square \bigcirc \square = \square \text{ (棵)}$$

2. 一共有 10 个西瓜。还剩多少个西瓜?



$$\square \bigcirc \square = \square \text{ (个)}$$

3. (2018 武汉) 一共有多少个蘑菇?



$$\square \bigcirc \square = \square \text{ (个)}$$

4. (2017 济宁) 乐乐要做 9 道数学题。



乐乐

我做完 4 道题了。

还有几道题没有做?




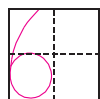
$$\square \bigcirc \square = \square \text{ (道)}$$



第五单元检测

kuài lè tián yì tián
一、快乐填一填。

1. 数一数，填一填。



2. 按顺序填一填。

(1)

5	6	7	8	9	10
---	---	---	---	---	----

(2)

8	7	6	5	4	3
---	---	---	---	---	---

3. 玩卡片。





7	5	3	1	4	10	8	6
---	---	---	---	---	----	---	---

(1) 从左数，第 6 张卡片上的数是(10)；从右数，第(1)张卡片上的数是 6。

(2) 从右数，第(3)张卡片上的数最大，是(10)；从左数，第(4)张卡片上的数最小，是(1)。

(3) 从左数，第(1)张卡片和第(3)张卡片上的数合起来是 10，第(2)张和第(5)张卡片上的数合起来是 9。(答案不唯一)

4. (2017 南阳)照样子，填一填。



5. 在○里填上“>”“<”或“=”。

(最后两空答案不唯一)

$7 \bigcirc 3$

$6 \bigcirc 8$

$9 \bigcirc 10$

$8 \bigcirc 4$

$5 + 3 \bigcirc 6$

$3 + 7 \bigcirc 8$


$10 - 3 \bigcirc 6$

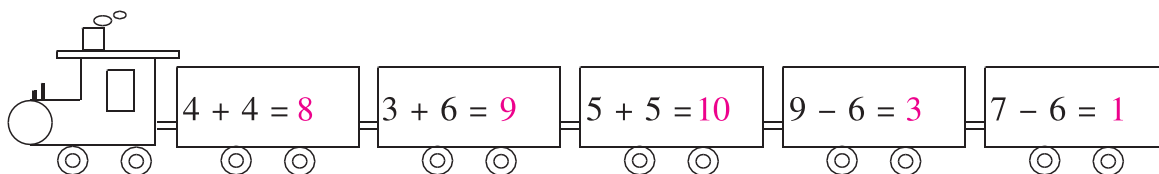

$9 - 1 \bigcirc 6 + 2$

$4 - 4 \bigcirc 4 + 4$

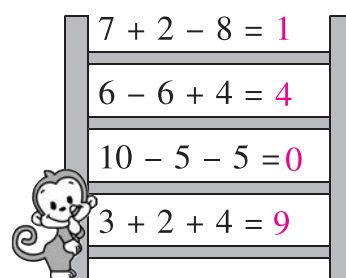
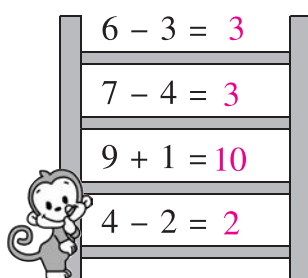
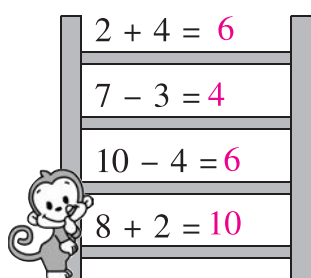
$5 + 2 - 2 \bigcirc 7$

kāi huǒ chē
二、开火车。





xiǎo hóu zi pá tī zi
三、小猴子爬梯子。



àn yāo qiú zuò yì zuò
四、按要求做一做。

1. 在□里填上合适的数。

$$6 + \boxed{2} = 8$$

$$7 + \boxed{2} = 9$$

$$3 + \boxed{5} = 8$$

$$\boxed{4} + 5 = 9$$

$$\boxed{8} + 2 = 10$$



$$4 + \boxed{2} = 6$$

$$\boxed{5} + 2 = 7$$

$$5 + \boxed{5} = 10$$

$$8 + \boxed{1} = 9$$

2. 小鱼儿会游向哪片荷叶？



$$8 \text{ (lotus leaf)} - 5 = 3$$

$$10 \text{ (lotus leaf)} - 4 = 6$$

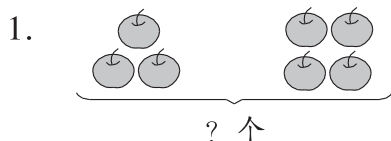
$$9 \text{ (lotus leaf)} - 2 \text{ (lotus leaf)} - 4 = 3$$

$$4 \text{ (lotus leaf)} + 5 = 9$$

$$8 \text{ (lotus leaf)} - 2 = 6$$

$$7 \text{ (lotus leaf)} - 2 \text{ (lotus leaf)} + 3 = 8$$

kàn tú liè shì jì suàn
五、看图列式计算。



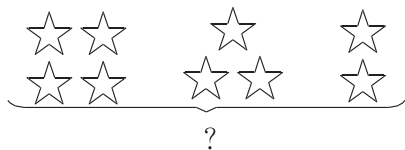
$$\boxed{3} + \boxed{4} = \boxed{7} \text{ (个)}$$



$$\boxed{10} - \boxed{2} = \boxed{8} \text{ (本)}$$

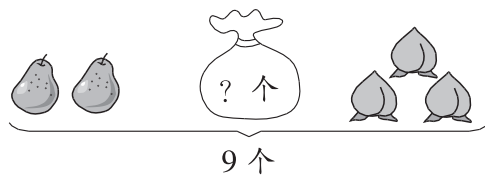


3.



$$\boxed{4} + \boxed{3} + \boxed{2} = \boxed{9}$$

4.



$$\boxed{9} - \boxed{2} - \boxed{3} = \boxed{4} \text{ (个)}$$

jiě jué wèn tí
六、解决问题。


1.



筐子外面有 $\boxed{5}$ 棵 , 筐子里面有 $\boxed{5}$ 棵 , 一共有多少棵 ?


$$\boxed{5} + \boxed{5} = \boxed{10} \text{ (棵)}$$

2. 一共有 10 个西瓜。还剩多少个西瓜?



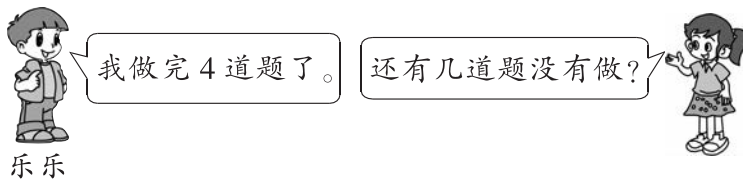
$$\boxed{10} - \boxed{4} = \boxed{6} \text{ (个)}$$

3. (2018 武汉)一共有多少个蘑菇?



$$\boxed{6} + \boxed{2} = \boxed{8} \text{ (个)}$$

4. (2017 济宁)乐乐要做 9 道数学题。



$$\boxed{9} - \boxed{4} = \boxed{5} \text{ (道)}$$