

第五单元达标测试卷

(B 卷)

时间：60分钟
满分：100分

日积月累：哀兵必胜 哀鸿遍野 感同身受 感激涕零 感恩戴德

题号	一	二	三	四	总分	智慧角
得分						

lián yi lián


一、连一连。(10 分)



我看到的杨桃有些长。

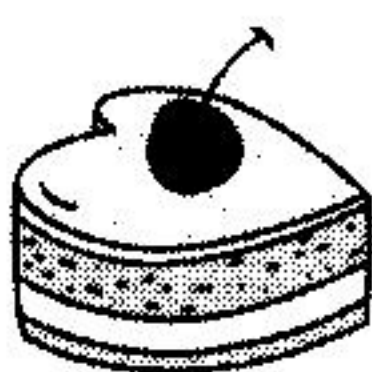
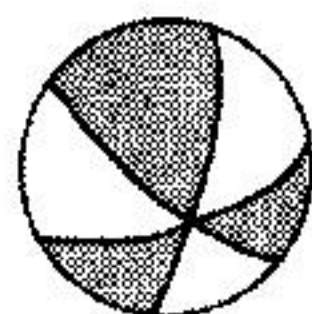



杨桃的形状是星星。



gēn jù wèn tí tián xù hào

二、根据问题填序号。(30 分)



①

②

③

④

⑤

⑥

⑦

⑧


⑨

⑩

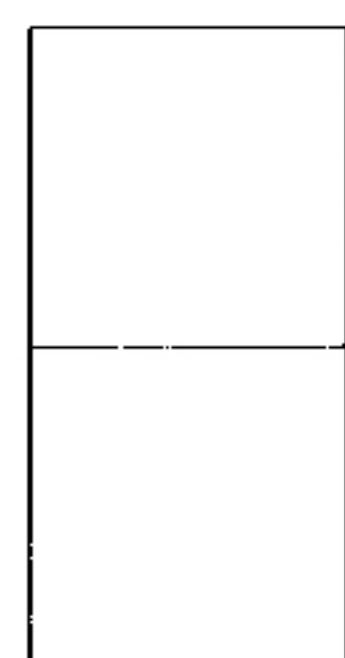
- 1.从上面看是圆形的物品：()。
- 2.从上面看是长方形的物品：()。
- 3.从侧面看是长方形的物品：()。
- 4.全部表面都是正方形的物品：()。
- 5.没有一个面是长方形的物品：()。

àn yāo qiú xiě yì xiě
三、按要求写一写。(40 分)

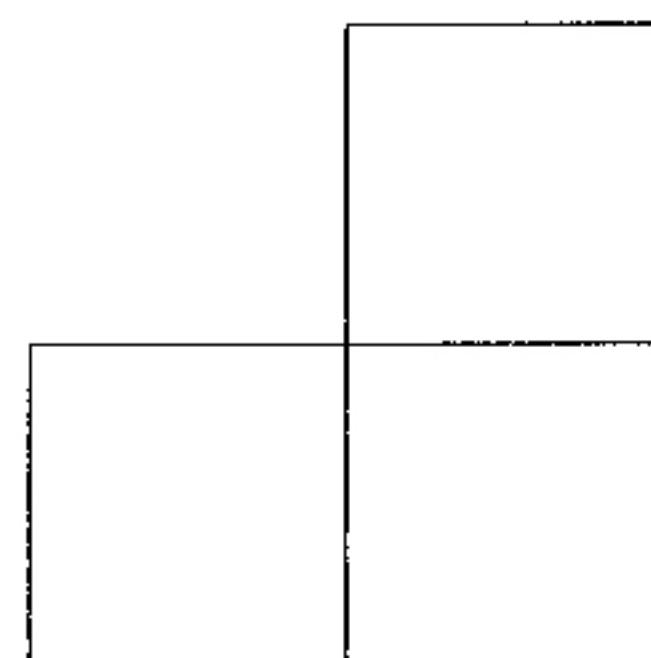
1. 从什么方向看,能得到右边的 3 个图形?(15 分)



()




()

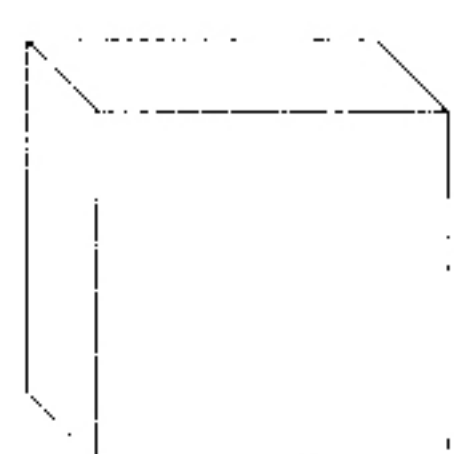


()

2. 下面的立体图形从上面看是什么形状的?(25 分)




()



()



()



()



()

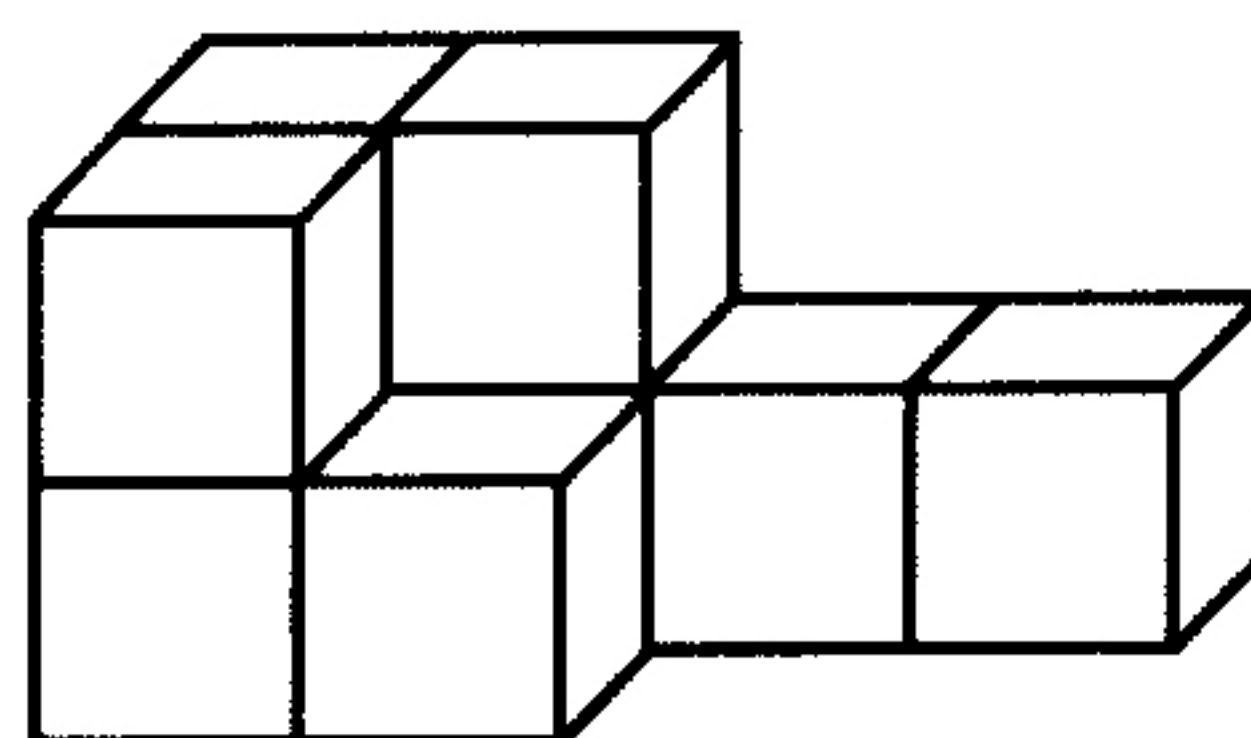
shǔ yì shǔ tián yì tián
四、数一数,填一填。(20 分)

1. 从正面能看到()个正方形。

2. 从上面能看到()个正方形。

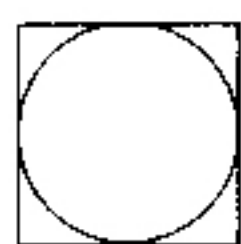
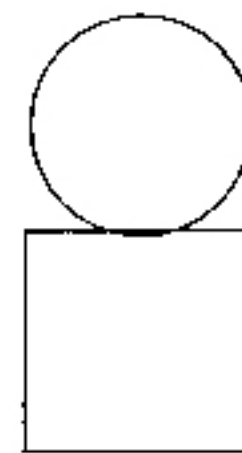
3. 从左面能看到()个正方形。

4. 一共有()个小正方体。



智慧角

xiǎng yi xiǎng dá yi dá
想一想,答一答。(10 分)

把两个立体图形上下放置,从上面看是 , 从侧面看是 。小朋友,你知道这两个立体图形是什么吗?