

# 第五单元检测题

时间:60 分钟

书写等级:\_\_\_\_\_

质量等级:\_\_\_\_\_

| 题 号 | 一 | 二 | 三 | 四 | 五 | 六 | 总 分 |
|-----|---|---|---|---|---|---|-----|
| 分 数 |   |   |   |   |   |   |     |

## 一、先圈一圈,再填空。(每空 2 分,共 30 分)

1. ○○○

△△△△△△△△△△△△△

○有( )个,△是○的( )倍,列算式为( )。





2. 



有( )个,有( )个,的个数是的( )倍,列算式为( )。

3. 







有( )个,有( )个,是的( )倍,列算式为( )。

4. 





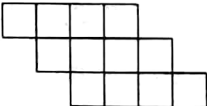
的片数是的( )倍,列式为( );

 的片数是  的 ( ) 倍, 列式为 ( )。

## 二、填一填。(每题 2 分, 共 18 分)

- (1) 求 3 的 7 倍是多少, 列式为 ( )。  
(2) 求 8 的 5 倍是多少, 列式为 ( )。
- (1) 35 是 5 的几倍? 列式为 ( )。  
(2) 54 是 9 的几倍? 列式为 ( )。
- 24 里面有 ( ) 个 3, 36 是 6 的 ( ) 倍, 6 的 5 倍是 ( )。
- 一个羽毛球的价钱是 2 元, 一个羽毛球拍的价钱是一个羽毛球的 9 倍, 一个羽毛球拍的价钱是 ( ) 元。
- 小军集了 40 张邮票, 送给小明 ( ) 张后, 剩下的是 7 的 5 倍。

## 三、选一选。(共 12 分)

- 15 是 3 的几倍? 用算式表示为 ( )。  
A.  $15 \div 5 = 3$                       B.  $15 \div 3 = 5$                       C.  $5 \times 3 = 15$
- 求 5 个 6 是多少? 用算式表示为 ( )。  
A.  $5 + 6 = 11$                       B.  $6 \times 5 = 30$                       C.  $30 \div 6 = 5$
- $\square$  有 8 个,  $\triangle$  的个数是  $\square$  的 7 倍,  $\triangle$  有 ( ) 个。  
A. 15                                  B. 1                                  C. 56
-  中小正方形的个数是  $\square\square\square$  的 ( ) 倍。  
A. 3                                  B. 4                                  C. 5
- $12 \div 2 = 6$  表示 ( ), 还表示 ( )。  
A. 12 是 2 的多少倍  
B. 2 除以 12  
C. 12 里面有几个 2

## 四、画一画, 再填空。(共 18 分)

- 画  $\bigcirc$  的个数是  $\square$  的 3 倍。

$\square\square\square$

---

○有( )个,列式为( )。

2. 画○,☆的个数是○的5倍。

☆☆☆☆☆☆☆☆☆☆☆☆☆☆☆☆

○有( )个,列式为( )。

### 五、看图列式计算。(共20分)

1. ☆☆☆☆☆☆☆☆☆☆☆☆☆☆☆


○○○


□□□□□□

(1) ☆的个数是○的几倍?

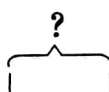
(2) ☆的个数是□的几倍?


2.

黄花: 

红花: 

3.

甲数: 

乙数: 

### 六、解决问题。(共26分)

1.



王大伯家种了40棵苹果树,  
5棵梨树。

(14分)

(1) 苹果树的棵数是梨树的几倍?

想:要求苹果树的棵数是梨树的几倍,也就是求( )里面有几个( )。

解答：

(2)桃树的棵数是梨树的4倍,桃树种了多少棵?

想:求桃树种了多少棵,也就是求( )个( )是多少。

解答：

2. 三年级二班图书角有故事书30本,有科幻书6本,故事书的本数是科幻书的几倍?(6分)

3. 停车场停有8辆卡车,停的小汽车的数量是卡车的3倍,停车场有小汽车多少辆?(6分)

## 第五单元检测题

一、1. 3 4  $12 \div 3 = 4$  2. 10 2 5

$10 \div 2 = 5$  3. 2 8 4  $8 \div 2 = 4$

4. 2  $4 \div 2 = 2$  3  $12 \div 4 = 3$

二、1. (1)  $3 \times 7 = 21$  (2)  $8 \times 5 = 40$

2. (1)  $35 \div 5 = 7$  (2)  $54 \div 9 = 6$

3. 8 6 30

4. 18 5. 5

三、1. B 2. B 3. C 4. B 5. A C

(或 C A)

四、1. 画一画略 9  $3 \times 3 = 9$

2. 画一画略 3  $15 \div 5 = 3$

五、1. (1)  $12 \div 3 = 4$  (2)  $12 \div 6 = 2$

2.  $7 \times 4 = 28$ (朵)

3.  $45 \div 5 = 9$

六、1. (1) 40 5  $40 \div 5 = 8$

(2) 4 5  $5 \times 4 = 20$ (棵)

2.  $30 \div 6 = 5$

3.  $8 \times 3 = 24$ (辆)