

第五单元(月考二)达标测试卷

(时间:90 分钟 满分:100 分)

题号	一	二	三	四	五	六	总分
得分							

一、认真填空。(18 分)

- 3 的 9 倍是();54 是()的 9 倍。
- ()吨=2000 千克 3000 千克=()吨
200 千克+800 千克=()吨 5 吨-3000 千克=()吨
- 26 减去()就是 4 的 6 倍。
- 用数字 1、7、8 组成的没有重复数字的三位数中,最大的数减最小的数的差是()。
- 黑猫的只数是白猫的 4 倍,黑猫有 20 只,白猫有()只。

二、找朋友,连一连。(8 分)




- 蝴蝶采花粉。(4 分)

774

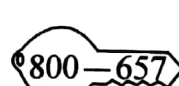



161

796

381



- 请把锁打开。(4 分)



三、我会画一画。(15 分)

1. 按提示画图。

△△△△△△

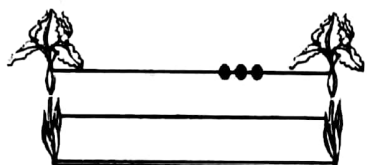
(1) 画○, 使○的个数是△的 2 倍。

(2) 画□, 使△的个数是□的 2 倍。

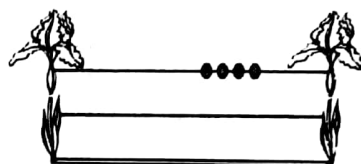
2. ☆的个数是□的 3 倍, 画□。

☆☆☆☆☆☆☆☆☆☆☆☆

3. 下杆的珠子比上杆多 3 个。



4. 下杆的珠子是上杆的 3 倍。



四、把下列算式按从大到小的顺序排列起来。(10 分)

388+129

718-385

500-246

284-217

338+291

五、神机妙算。(18 分)

1. 直接写出得数。(6 分)

140-80=

420-370=

290+80=

26+48=

800+900=

730+90=

2. 用竖式计算。(12 分)

357+276=

463-185=

567-289=

204-198=

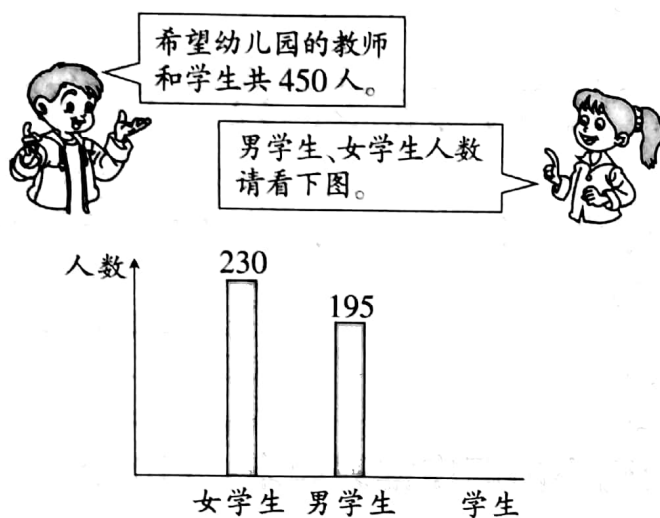
300-253=

377+488=

六、解决问题。(31 分)

1. 一辆小货车一次能装 800 千克货物,一辆中型货车一次能装 4800 千克货物,中型货车一次比小货车多装多少吨货物?(4 分)

2. (9 分)















(1) 希望幼儿园的学生共有多少人?

(2) 希望幼儿园的教师有多少人?



(3) 请你提出数学问题并解答出来。



3. 找出相应的条件再计算。(9 分)

 有 8 个, _____,  有多少个?
 有 40 个, _____,  有多少个?
 有 40 个, _____,  是  的几倍?

 有 8 个
 是  的 5 倍
 是  的 5 倍

4. 买玩具。(9 分)

				
9 元	<input type="text"/> 元	8 元	30 元	6 元

(1)  的价钱是  的几倍?

(2)  的价钱是  的 3 倍,  多少钱?

(3) 你还能提出其他数学问题并解答吗?

第五单元(月考二)达标测试卷

一、1. 27 6 2. 2 3 1 2 3. 2 4. 693 5. 5

五、1. 60 50 370 74 1700 820

2. 633 278 278 6 47 865(竖式略)

六、1. $4800 - 800 = 4000$ (千克) $= 4$ (吨)

2. (1) $230 + 195 = 425$ (人)

(2) $450 - 425 = 25$ (人)

4. (1) $30 \div 6 = 5$ (2) $9 \times 3 = 27$ (元)