

# 1

## 准备课

### 数 一 数

(教材 2~5 页)

#### 目标来导航

MUBIAOLAIDAOHANG

1. 能正确数出物体的数量。(重点)
2. 通过数数活动,学会数数的方法。(难点)

#### 教材详解读


JIAOCAIXIANGJIEDU

**知能点** 数 1~10 以内物体的个数,学会数数的方法。

##### 【问题切入】



光阴一去不复返。 名言大观



**【搞懂题意】** 仔细观察,说一说图中都有些什么,在观察的基础上,逐一数出数量是1~10的人和物,每数完一类物体就写出相应的数,同一数量的物体可以集中排列。

**【答案解密】** 数量是1的有:国旗、教学楼、老师、足球等;  
数量是2的有:单杠、看书的学生等;  
数量是3的有:石凳、跳绳的同学等;  
数量是4的有:垃圾筒、向日葵等;  
数量是5的有:花坛里的花、国旗上的五角星,欢迎新同学五个大字等;  
数量是6的有:花盆里的花;  
数量是7的有:天空中的鸽子,上学的学生;  
数量是8的有:大树、天空中的大雁等;  
数量是9的有:所有女学生;  
数量是10的有:所有的男学生。



数数时,可按一定的顺序数,先数数目比较小的,再数数目比较大的。在数具体物体的个数时,必须对着物体一个一个地数,切莫“空数”,如数图中同学时,指第一名同学数“1”,指第二名同学数“2”……指第十名同学数“10”。



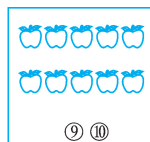


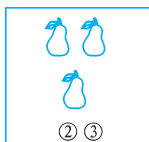
(1)应充分挖掘插图中所蕴含的数数资源。如数字“1”在图中就可用来表示一面红旗、一位老师、一幢教学楼、一个学生在翻单杠……

(2)应在一定的区域内数物体的个数,如运动场上、教学楼前、天空中、校园内外等。

## 典例精剖析

DIANLIJINGPOUXI

**【例 1】** 数一数,每幅图中的物体可以用几来表示? 把正确答案涂上你喜欢的颜色。



**【点拨】** 先要正确数出每个方框内物体的个数,再在方框内找到相对应的数字涂上颜色。

**【答案】** ③ ⑤ ⑧ ⑩


涂色略

### 温馨提示

数数时,不要漏数,要按顺序从左到右,从上到下地数,数好个数后就在相对应的数字上涂上颜色。



【例 2】 图中每种水果各有几个？



【点拨】 从图中可以看出，每种水果都没有放在一起，数数时采用做标记的方法，如数桃的数量可以用数字直接做标记，数完后将标记擦掉，再用同样的方法数其他几种水果的数量。

**温馨提示**

数数时，首先要按水果的种类采用做标记的方法去数，然后按照从左到右，从上到下地数。





【答案】 苹果有 5 个，梨有 3 个，西瓜有 4 块，桃子有 4 个，橘子有 6 个。




## 误区常警示

WUQUCHANGJINGSHI

【例】 下图中， 有 6 个是正确的吗？



【错解】  有 6 个是正确的。

【错在哪？】 数  的个数时，采用做标记的方法，由于没有做到有序做标记，而是随意做标记，这样就漏数 1 个 ，如果一行一行地数，就会正确地数出  的数量。

【巧解答】  有 6 个是不正确的，应该是 7 个。

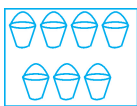
【小锦囊】 多种物体混放，用做标记的方法数数时，一定要按顺序一行一行地做标记，不要看到一个就标记一个，避免出现漏数现象。

## 看我 来闯关


KANWO LAICHUANGGUAN

### 第一关

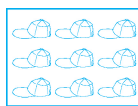
1. 数一数，填一填。



( ) 个



( ) 个


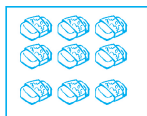
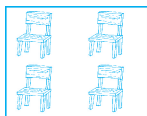


( ) 只



( ) 本

2. 连一连。



①

⑧

⑩



⑥

④

③





⑦

⑨



### 第二关

3. 照样子看数涂树叶。

			
4	7	5	9

4. 把正确的数圈起来。



(3 4 5)




(2 3 4)



(6 7 8)

### 第三关

5. 图中有什么？数一数，填一填。



胡萝卜	蘑菇	兔子	鸟	松鼠
( ) 个	( ) 个	( ) 只	( ) 只	( ) 只

6. 看数补画图形。

7    □□□□ \_\_\_\_\_

9    ○○○○ \_\_\_\_\_ ○○

10    \_\_\_\_\_ ▲▲▲▲▲ \_\_\_\_\_





# 1 准备 课

## 数 一 数

1. 7 10 9 5

2. 略

3.

			
4	7	5	9

4. (③ 4 5) (② 3 4)

(6 ⑦ 8)

5. 8 10 3 1 1

6. □□□

○○○

答案不唯一。如：第一种：△

△△△△；第 二 种：△△

△△△；第三种：△△△ △△；

第四种：△△△△ △。