

线段（一）

1. 下面哪些是线段，在线段下面的括号里画“√”。



2. 画线段。

(1) 画一条比 4cm 长 2cm 的线段。

(2) 画一条比 4cm 短 2cm 的线段。

3. 数一数下面的图形各由几条线段围成，填在括号里。



() 条



() 条



() 条



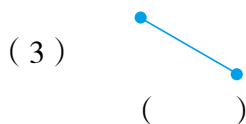
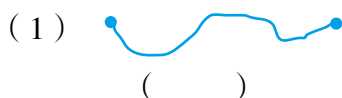
() 条

4. 每两个点连一条线段，你能连几条？




线段（二）

1. 下面各图中是线段的在括号里画“√”。



2. 小兔回家，走路线（ ）最近。



3. 一条线段长 14 厘米，另一条线段长 8 厘米，两条线段一共有多长？

4. 一棵树高 18 米，另一棵树高 9 米，两棵树相差多少米？

5. 课桌的长是 1 米，黑板的长比课桌的长多 3 米，黑板有多长？

线段(一)

1. 略 2. 略 3. 4 3 4 6 4. 画图略 6 条

线段(二)

1. (2) \checkmark (3) \checkmark 2. B
3. $14+8=22$ (厘米)
4. $18-9=9$ (米) 5. $1+3=4$ (米)