

# 认识线段

## 学习目标视窗

1. 认识线段,知道线段的特点。
2. 学会用刻度丈量、画线段,并能分辨线段。



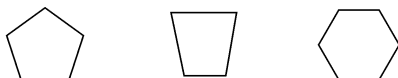
## 基础巩固提升

夯实基础,才能有所突破……

1. 是线段的在下面画“√”,不是线段的在下面画“×”。



2. 下面的图形是由几条线段组成的?



( ) 条 ( ) 条 ( ) 条

3. 先估一估这条线段的长度,再测量一下。



大约长( )厘米  
实际长( )厘米

4. 画一画。

- (1)画一条和下面的线段一样长的线段。



- (2)画一条比下面的线段长 1 厘米的线段。



- (3)画一条比 6 厘米短 3 厘米的线段。



## 思维拓展提升

这是一座由课内通向课外的桥梁……

5. 想一想,下图是小芳从家到学校的路线图,你认为走哪条路最近? 请在图

上画出来。

少年宫




小芳家



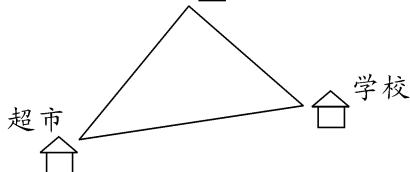
学校

6. 右图中有( )条线段,  
( )个长方形,( )  
个三角形,( )个圆。



- 7.

小明家



学校


- (1)从学校到超市的图上距离约是  
( )厘米。
- (2)从小明家到学校,再到超市的图上  
距离约是( )厘米。



## 开放探究提升

跃过去,你就是尖子生!

8. 下图给出 5 个点,在每两个点之间画一条线段,共能画出多少条线段?



## 认识线段

1.  $\times$   $\times$   $\times$   $\checkmark$   $\checkmark$  2. 5 4 6

3. 略 4. 略 5. 略

6. 13 2 4 3 7. (1)3 (2)5 8. 10 条