




① 考生要写清校名、姓名和班级  
② 不在试卷上做任何标识  
③ 字迹要清楚，卷面要整洁

姓 名

班 级

学 校

考 号



# 第六单元综合测试卷(一)

——多位数乘一位数(基础卷)

(时间:90 分钟 满分:100 分+10 分)

题号	一	二	三	四	五	六	七	总分	附加题
得分									

## 一 我会填。(除标注外,其余每空 1 分,共 25 分)

1. 计算多位数乘一位数时,先从( )位乘起。
2. 口算: $50 \times 4$  时,可以先把 50 看成( )个十,乘 4 后得 20 个( )也就是( ),也可以先算  $5 \times 4$ ,结果是( ),然后在( )的末尾添上( )个 0。
3. 把  $20+20+20+20+20+20$  改写成简便算式是( ),结果是( )。
4. 估算  $79 \times 5$  时,应把 79 看作( ),再乘 5,约等于( )。
5. 35 的 6 倍是( ),7 个 304 的和是( )。
6. 0 和( )相乘都得 0,( )与 0 相加得( )。
7.  $201 \times 5$  的积中间有( )个 0, $250 \times 4$  的积的末尾有( )个 0。
8.  $507 \times 2$  的积是( )位数,积是( )。
9. 小王的身份证号码为:421302200603070184,小王的出生年月日是( )年( )月( )日,小王是( )生(填“男”或“女”)。(2 分)
10. 要使“ $343 \times \square$ ”的积是三位数, $\square$ 里最大可以填( );要使积是四位数, $\square$ 里最小可以填( )。
11. 一辆小轿车的时速为 108 千米,它 4 小时一共能行( )千米。

## 二 我会判断。(对的画“√”,错的画“×”)(5 分)

1. 两个数相乘的积一定比这两个数的和大。( )
2.  $600 \times 5$  的积的末尾有 3 个 0。( )
3. 在估算多位数乘一位数的积时,估算的结果一定比准确数大。( )
4. 任何数和 1 相乘都得 1。( )
5.  $43 \times 8$  的计算中, $4 \times 8 = 32$ ,表示 32 个十。( )


### 三 我会选择。(将正确答案的序号填入括号里)(5 分)

- 一位数(不为 0)乘三位数,积是( )。  
A. 三位数                      B. 四位数                      C. 三位数或四位数
- $2\square3\times4$  要使积是三位数, $\square$ 里最大填( )。  
A. 4                              B. 5                              C. 9
- $402\times5$  的积大约是( )。  
A. 210                              B. 2010                              C. 2000
- 一个因数的末尾有 0,积的末尾( )。  
A. 一定有 0                      B. 一定没有 0                      C. 不一定有 0
- $72\times6$  的积的最高位是( )。  
A. 十位                              B. 百位                              C. 千位

### 四 下面的计算对的画“√”,错的画“×”,并改正。(6 分)

$$\begin{array}{r} 37 \\ \times 3 \\ \hline 91 \end{array}$$


( )



改正:

$$\begin{array}{r} 116 \\ \times 4 \\ \hline 4424 \end{array}$$

( )



改正:

### 五 我会计算。(共 26 分)

#### 1. 口算与估算。(8 分)

$30\times5=$

$41\times7=$

$4\times13=$

$8\times400=$


$7\times98\approx$


$307\times6\approx$


$197\times4\approx$

$71\times8\approx$

#### 2. 列竖式计算。(18 分)

$373\times8=$ 


$398\times7=$ 


$209\times5=$ 


$$705 \times 8 =$$

$$590 \times 7 =$$

$$489 \times 3 =$$

## 六 列式计算。(9 分)

1. 480 的 6 倍是多少?

2. 233 个 6 是多少?

3. 一个因数是 208, 另一个因数是 5, 积是多少?

## 七 我会解决问题。(共 24 分)

1. 一套课桌椅 69 元, 王老师带了 500 元钱, 够买这样的课桌椅 7 套吗? (4 分)

2. 张成读一本故事书, 每天读 12 页, 6 天刚刚读完。如果他每天读 9 页, 多少天可以读完? (4 分)

3. 兴旺养殖场养鸡 286 只,养鸭的只数是鸡的 4 倍,兴旺养殖场一共饲养了多少只鸭?(4 分)

4. (12 分) 网球拍



89元/副

篮球



126元/个

足球



150元/个

排球



107元/个

- (1) 买 8 个篮球需要多少钱?(4 分)

- (2) 买 6 副网球拍,550 元够吗?(4 分)

- (3) 买 4 个排球,付了 500 元,应找回多少钱?(4 分)



智力冲浪(附加题)

湖堤的路旁种植了一行柳树,相邻两棵树之间相距 5 米,小明从第 1 棵柳树跑到第 200 棵柳树,一共跑了多少米?(10 分)