

总复习(一) 达标测试卷


时间:90 分钟

满分:100 分

题号	一	二	三	四	五	六	总分
得分							


kàn tú xiě shù

一、看图写数。(8 分)




()

读作()



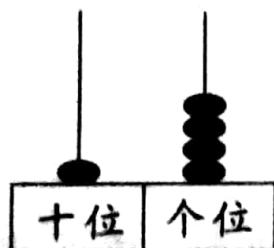
()

读作()



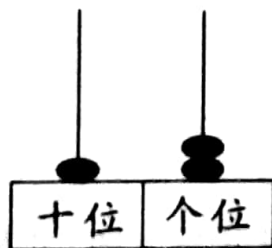
()

读作()



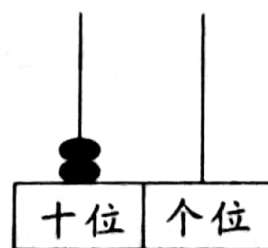
()

读作()



()

读作()



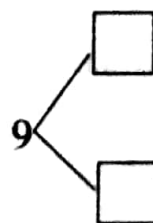
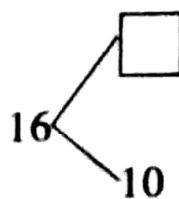
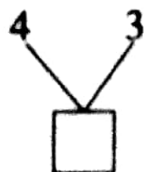
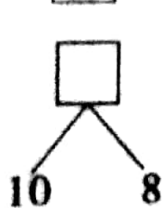
()

读作()

tián kòng

二、填空。(25 分)

1. 在 里填上合适的数。(5 分)



2. 比多少。(2 分)





比



多()

,



比

少()

。

3. 数一数,涂一涂,圈一圈。(3分)



(1)一共有()个☆。

(2)给从左数第4个☆涂上颜色,把右边的4个☆圈起来。

4. 用两种方式记录钟面上的时间。(4分)









5. 11 前面一个数是(),后面一个数是()。(2分)

6. 大于 15 小于 20 的数有()个。(2分)

7. □△中,□在△的()边。(2分)

8. 个位上是 6,十位上是 1,这个数是(),再添上()是 2 个十。(2分)

9. 9 是()和()的相邻数,在 13 和 15 中间的数是()。(3分)

suàn yì suàn

三、算一算。(33分)

1. 看谁算的又对又快。(10分)

$15-2=$

$13+5=$

$10-3=$

$13+6-5=$

$13+4=$

$9-2=$

$9+7=$

$19-9+6=$

$5+8=$

$19-6=$

$14+5=$

$7+6-3=$

$17-6=$

$8+7=$

$20-10=$

$15-3+4=$

2. 填一填。(8分)

$5 - \text{apple} = 3$

$4 + \text{apple} = 10$

$9 - \text{apple} = 6$

$7 + \text{apple} = 16$

$\text{apple} + 5 = 12$

$\text{apple} + 6 = 19$

$3 + \text{apple} = 10$

$\text{apple} - 8 = 0$

3. 在○里填上“>”“<”或“=”。(9分)

$8+8 \bigcirc 16$

$13-10 \bigcirc 13-0$

$11-0 \bigcirc 5+6$

$9+8 \bigcirc 8+8$

$15+4 \bigcirc 14+5$

$19-9 \bigcirc 3+7$

$10-6 \bigcirc 10-3$

$7+6 \bigcirc 16-6$

$20-10 \bigcirc 20-8$



4. 在 里填上合适的数。(6 分)

9 + 9 =


7 + 8 =

6 + 5 =

quān yì quān tú yì tú tián yì tián


四、圈一圈，涂一涂，填一填。(8分)

1. (3 分)

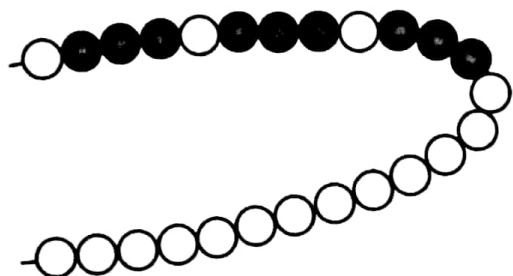


 在 的(上,下)面,

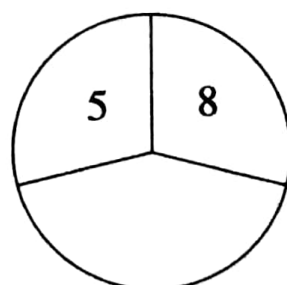
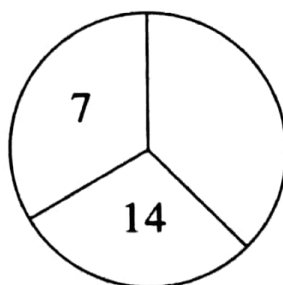
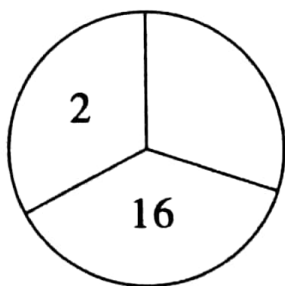
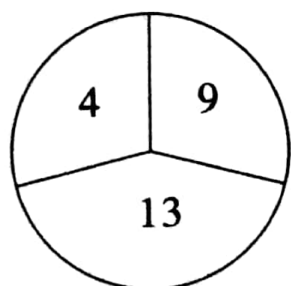
○在□的(上,下)面,

②在的(上,下)面。

2. 请你接着往下涂。(2 分)



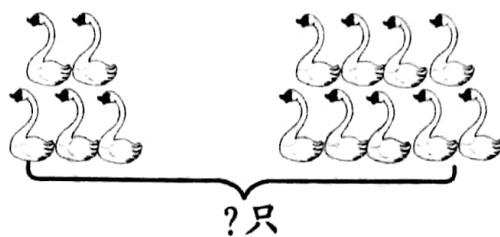
3. 按规律, 填上合适的数。(3 分)



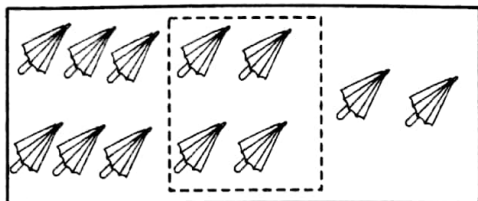
五、看图列式计算。(10分)



$$\square \bigcirc \square = \square \text{ (棵)}$$



$$\square \bigcirc \square = \square \text{ (只)}$$




$$\square \bigcirc \square \bigcirc \square = \square \text{ (把)}$$

$$\square \bigcirc \square \bigcirc \square = \square \text{ (把)}$$

jiě jué wèn tí

六、解决问题。(16分)

1. 有 15 个小朋友,每个小朋友分一朵花,还需要多少朵花?



$$\square \bigcirc \square = \square \text{ (朵)}$$

2. 妈妈带我去看电影,电影下午 3 时开始上映,共放映 2 个小时。请问:电影放映结束是几时?

$$\square \bigcirc \square = \square \text{ (时)}$$

3. 小明背《古诗 75 首》,他第一天背了 4 首,第二天背了 5 首,他第三天应从第几首开始背?

$$\square \bigcirc \square \bigcirc \square = \square \text{ (首)}$$

