



2 100 以内的加法和减法(二)

1. 加 法

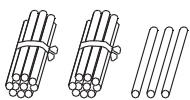
第1课时 不进位加(1)

(匹配教科书第12页内容)

基础过关

bǎi yì bǎi suàn yì suàn

一、摆一摆,算一算。



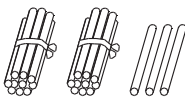
十 个

()



十 个

()

+ ()
()+ ()
()

用竖式计算时,个位与()对齐。



xiān kǒu suàn zài yòng shù shì suàn yì suàn

二、先口算,再用竖式算一算。

$43 + 6 = ()$

$51 + 7 = ()$

$4 + 22 = ()$

4 3

5 1

4

+ ()
()+ ()
()+ ()
()

shù xué yī yuàn

duì de huà

cuò de huà

bìng gǎi zhèng

三、数学医院。(对的画“√”,错的画“×”,并改正)

1. 4 改正:

2. 6 3 改正:

$$\begin{array}{r} + 25 \\ 65 \\ () \end{array}$$

$$\begin{array}{r} + 2 \\ 83 \\ () \end{array}$$

kàn tú liè shù shì jì suàn

四、看图列竖式计算。

1. 23 只

6 只



$$\begin{array}{r} () \\ + () \\ () \end{array}$$

? 只

2.

5 元

43 元



$$\begin{array}{r} () \\ + () \\ () \end{array}$$

? 元

能力提升

五、二(1)班正在选班长,王欣得了25张选票,李倩得了21张选票,剩下最后6名同学全部投给了李倩。请问谁应该被选为班长呢?



第2课时 不进位加(2)

(匹配教科书第13页内容)

基础过关

suàn yì suàn tián yì tián
一、算一算,填一填。

	$\begin{array}{r} \text{十} \quad \text{个} \\ 1 \quad 4 \\ + 4 \quad 2 \\ \hline (\quad) \end{array}$
--	--

先算个位上的 $4 + 2 = (\quad)$, 得数与 (\quad) 位对齐, 再算十位上的 $1 + 4 = (\quad)$, 得数与 (\quad) 位对齐, 最后结果是 (\quad) 。

suàn yì suàn tián yì tián
二、算一算,填一填。

$$\begin{array}{r} 23 + 40 = (\quad) \\ \begin{array}{r} 2 \quad 3 \\ + 4 \quad 0 \\ \hline (\quad) \end{array} \end{array}$$

$$\begin{array}{r} 35 + 62 = (\quad) \\ \begin{array}{r} 3 \quad 5 \\ + (\quad) \\ \hline (\quad) \end{array} \end{array}$$

$$\begin{array}{r} 23 + 35 = (\quad) \\ \begin{array}{r} 2 \quad 3 \\ + (\quad) \\ \hline (\quad) \end{array} \end{array}$$

zài lǐ tián shàng huò
三、在 里填上 “>” “<” 或 “=”。

$40 + 23 \quad \text{cloud} \quad 60$

$89 \quad \text{cloud} \quad 71 + 15$

$22 + 25 \quad \text{cloud} \quad 50$

$33 + 33 \quad \text{cloud} \quad 66$

$62 \quad \text{cloud} \quad 42 + 24$

$52 + 42 \quad \text{cloud} \quad 80$

四、小欣周日和妈妈一块去展馆看美术展览,下面是各种展画的种类和数量。

种类	中国画	油画	版画	水彩画
数量	42 幅	27 幅	16 幅	30 幅

1. 中国画和水彩画一共有多少幅?

2. 你还能提出其他的用加法计算的数学问题并解答吗?

能力提升

guān chá xià miàn suàn shì de guī lǜ zhè yàng de suàn shì nǐ hái néng xiě chū jǐ gè
五、观察下面算式的规律,这样的算式你还能写出几个?

$\begin{array}{r} 2 \quad 3 \\ + 3 \quad 2 \\ \hline 5 \quad 5 \end{array}$	$\begin{array}{r} 6 \quad 3 \\ + 3 \quad 6 \\ \hline 9 \quad 9 \end{array}$
---	---

至少写2个哦!





2 100 以内的加法和减法(二)

1. 加 法

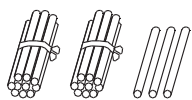
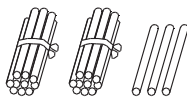
第1课时 不进位加(1)

(匹配教科书第12页内容)

基础过关

bǎi yì bǎi suàn yì suàn

一、摆一摆,算一算。

十 个
(2 3)十 个
(5)+ (5)
(2 8)+ (2 3)
(2 8)

用竖式计算时,个位与(个位)对齐。



xiān kǒu suàn zài yòng shù shì suàn yì suàn

二、先口算,再用竖式算一算。

$43 + 6 = (49)$

$$\begin{array}{r} 43 \\ + (6) \\ \hline (49) \end{array}$$

$51 + 7 = (58)$

$$\begin{array}{r} 51 \\ + (7) \\ \hline (58) \end{array}$$

$4 + 22 = (26)$

$$\begin{array}{r} 4 \\ + (22) \\ \hline (26) \end{array}$$

shù xué yī yuàn

duì de huà

cuò de huà

bìng gǎi zhèng

三、数学医院。(对的画“√”,错的画“×”,并改正)

1. 4 改正: 4

$$\begin{array}{r} + 25 \\ 65 \\ \hline \end{array} \quad \begin{array}{r} + 25 \\ 29 \\ \hline \end{array}$$

(×)

2. 63 改正: 63

$$\begin{array}{r} + 2 \\ 83 \\ \hline \end{array} \quad \begin{array}{r} + 2 \\ 65 \\ \hline \end{array}$$

(×)

kàn tú liè shù shì jì suàn

四、看图列竖式计算。

1. 23 只



6 只



(2 3)

+ (6)

(2 9)

? 只

2.

5 元



43 元



(5)

+ (4 3)

(4 8)

? 元

能力提升

五、二(1)班正在选班长,王欣得了25张选票,李倩得了21张选票,剩下最后6名同学全部投给了李倩,请问谁应该被选为班长呢?

$21 + 6 = 27(\text{张}) \quad 27 > 25$

答:李倩应该被选为班长。



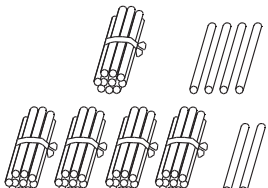
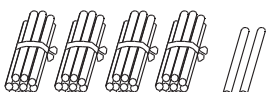
第2课时 不进位加(2)

(匹配教科书第13页内容)



基础过关

suàn yì suàn tián yì tián
一、算一算,填一填。

	十 个
	1 4
	+ 4 2
	<hr/> (5 6)

先算个位上的 $4 + 2 = (6)$, 得数与(个)位对齐, 再算十位上的 $1 + 4 = (5)$, 得数与(十)位对齐, 最后结果是(56)。

suàn yì suàn tián yì tián
二、算一算,填一填。

$23 + 40 = (63)$

$$\begin{array}{r} 23 \\ + 40 \\ \hline (63) \end{array}$$

$35 + 62 = (97)$

$$\begin{array}{r} 35 \\ + (62) \\ \hline (97) \end{array}$$

$23 + 35 = (58)$

$$\begin{array}{r} 23 \\ + (35) \\ \hline (58) \end{array}$$

zài lǐ tián shàng huò
三、在()里填上“>”“<”或“=”。

$40 + 23 (>) 60$

$89 (>) 71 + 15$

$22 + 25 (<) 50$

$33 + 33 (=) 66$

$62 (<) 42 + 24$

$52 + 42 (>) 80$

四、小欣周日和妈妈一块去展馆看美术展览,下面是各种展画的种类和数量。

种类	中国画	油画	版画	水彩画
数量	42 幅	27 幅	16 幅	30 幅

1. 中国画和水彩画一共有多少幅?

$42 + 30 = 72(\text{幅})$

答:中国画和水彩画一共有 72 幅。

2. 你还能提出其他的用加法计算的数学问题并解答吗?

油画和水彩画一共有多少幅?

$27 + 30 = 57(\text{幅})$

答:油画和水彩画一共有 57 幅。(答案不唯一)



能力提升

guān chá xià miàn suàn shì de guī lǜ zhè yàng de suàn shì nǐ hái néng xiě chū jǐ gè
五、观察下面算式的规律,这样的算式你还能写出几个?

$$\begin{array}{r} 23 \\ + 32 \\ \hline 55 \end{array}$$

$$\begin{array}{r} 63 \\ + 36 \\ \hline 99 \end{array}$$

$$\begin{array}{r} 42 \\ + 24 \\ \hline 66 \end{array}$$

$$\begin{array}{r} 35 \\ + 53 \\ \hline 88 \end{array}$$

至少写 2 个哦!

(答案不唯一)

