



3. 连加、连减和加减混合

第1课时 连加、连减

基础过关

yòng shù shì suàn yì suàn
一、用竖式算一算。

$$\begin{array}{r} 43 + 22 + 18 = (\quad) \\ \begin{array}{r} 43 \\ + 22 \\ \hline (\quad) \\ + 18 \\ \hline (\quad) \end{array} \end{array}$$

简便写法

$$\begin{array}{r} 43 \\ 22 \\ + 18 \\ \hline (\quad) \end{array}$$

$$\begin{array}{r} 63 - 18 - 16 = (\quad) \\ \begin{array}{r} 63 \\ - 18 \\ \hline (\quad) \\ - 16 \\ \hline (\quad) \end{array} \end{array}$$

yòng shù shì jì suàn
二、用竖式计算。

$$93 - 26 - 38 =$$

$$35 + 27 + 19 =$$

$$88 - 36 - 37 =$$

jī qì rén zhāi cǎo méi
三、机器人摘草莓！


我一分钟摘了
24个。



我一分钟摘了
32个。



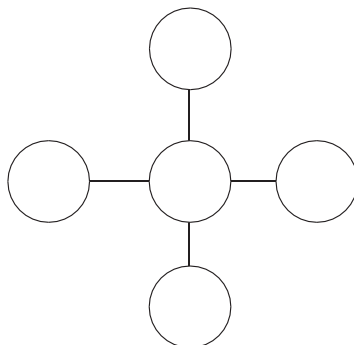
我们三人一分钟
一共摘了91个。



第三个机器人一分钟摘了多少个草莓？

能力提升

bǎ fēn bié tián rù xià miàn de lǐ shǐ měi tiáo xiàn shàng de
四、把24、25、26、27、28分别填入下面的○里，使每条线上的3
gè shù de hé dōu shì
个数的和都是78。





第2课时 加减混合

基础过关

kàn shuí suàn de yòu duì yòu kuài

一、看谁算得又对又快!



$$\begin{aligned} 45 + 4 - 20 &= \\ 65 + 5 - 40 &= \\ 92 - (30 + 50) &= \end{aligned}$$



$$\begin{aligned} 25 + 7 - 20 &= \\ 83 - (20 + 30) &= \\ 42 + (27 - 7) &= \end{aligned}$$



$$\begin{aligned} 80 - 25 + 13 &= \\ 32 - 20 + 14 &= \\ 58 - (14 + 26) &= \end{aligned}$$

yòng shù shì jì suàn

二、用竖式计算。

$$54 + 28 - 31 =$$

$$82 - 68 + 64 =$$

$$26 + (67 - 43) =$$

xià miàn de jì suàn duì ma bǎ bú duì de gǎi zhèng guò lái

三、下面的计算对吗?把不对的改正过来。

1. $46 - 28 + 35 = 63$

$$\begin{array}{r} 46 \\ - 28 \\ \hline 28 \\ + 35 \\ \hline 63 \end{array} \quad \text{改正:}$$

()

2. $72 - (37 + 25) = 20$

$$\begin{array}{r} 37 \\ + 25 \\ \hline 52 \end{array} \quad \begin{array}{r} 72 \\ - 52 \\ \hline 20 \end{array} \quad \text{改正:}$$

()

四、中国一拖的车间里原来有 86 台自动驾驶拖拉机,开走 37 台,又组装了 26 台,现在有多少台自动驾驶拖拉机?

我们国家真厉害!



能力提升

五、有两种魔法道具,小兔子拿到  会增加 13 点开心值,拿到  会减少 24 点开心值,试一试,小兔子最后还有多少点开心值?

58 点



() 点

46 点



() 点



3. 连加、连减和加减混合

第1课时 连加、连减

基础过关

yòng shù shì suàn yì suàn
一、用竖式算一算。

$$\begin{array}{r} 43 + 22 + 18 = (83) \\ \begin{array}{r} 43 \\ + 22 \\ \hline (65) \\ + 18 \\ \hline (83) \end{array} \quad \text{简便写法} \quad \begin{array}{r} 43 \\ 22 \\ + 18 \\ \hline (83) \end{array} \end{array}$$

$$\begin{array}{r} 63 - 18 - 16 = (29) \\ \begin{array}{r} 63 \\ - 18 \\ \hline (45) \end{array} \quad \begin{array}{r} (45) \\ - 16 \\ \hline (29) \end{array} \end{array}$$

yòng shù shì jì suàn
二、用竖式计算。

$$\begin{array}{r} 93 - 26 - 38 = 29 \\ \begin{array}{r} 93 \\ - 26 \\ \hline 67 \\ - 38 \\ \hline 29 \end{array} \end{array}$$

$$\begin{array}{r} 35 + 27 + 19 = 81 \\ \begin{array}{r} 35 \\ + 27 \\ \hline 62 \\ + 19 \\ \hline 81 \end{array} \end{array}$$

$$\begin{array}{r} 88 - 36 - 37 = 15 \\ \begin{array}{r} 88 \\ - 36 \\ \hline 52 \\ - 37 \\ \hline 15 \end{array} \end{array}$$

jī qì rén zhāi cǎo méi
三、机器人摘草莓！


我一分钟摘了
24个。



我一分钟摘了
32个。



我们三人一分钟
一共摘了91个。



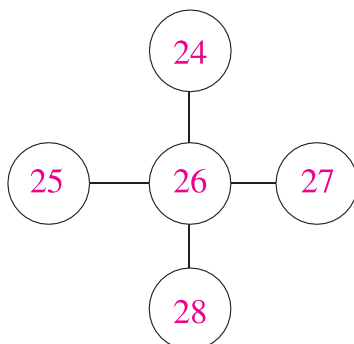
第三个机器人一分钟摘了多少个草莓？

$$91 - 24 - 32 = 35(\text{个})$$

答：第三个机器人一分钟摘了35个草莓。

能力提升

bǎ fēn bié tián rù xià miàn de lǐ shǐ měi tiáo xiàn shàng de
四、把24、25、26、27、28分别填入下面的○里，使每条线上的3
gè shù de hé dōu shì
个数的和都是78。





第2课时 加减混合

基础过关

kàn shuí suàn de yòu duì yòu kuài

一、看谁算得又对又快!



$$\begin{aligned} 45 + 4 - 20 &= 29 \\ 65 + 5 - 40 &= 30 \\ 92 - (30 + 50) &= 12 \end{aligned}$$



$$\begin{aligned} 25 + 7 - 20 &= 12 \\ 83 - (20 + 30) &= 33 \\ 42 + (27 - 7) &= 62 \end{aligned}$$



$$\begin{aligned} 80 - 25 + 13 &= 68 \\ 32 - 20 + 14 &= 26 \\ 58 - (14 + 26) &= 18 \end{aligned}$$

yòng shù shì jì suàn

二、用竖式计算。

$$54 + 28 - 31 = 51$$

$$\begin{array}{r} 54 \\ + 28 \\ \hline 82 \\ - 31 \\ \hline 51 \end{array}$$

$$82 - 68 + 64 = 78$$

$$\begin{array}{r} 82 \\ - 68 \\ \hline 14 \\ + 64 \\ \hline 78 \end{array}$$

$$26 + (67 - 43) = 50$$

$$\begin{array}{r} 67 \\ - 43 \\ \hline 24 \\ + 26 \\ \hline 50 \end{array}$$

xià miàn de jì suàn duì ma bǎ bú duì de gǎi zhèng guò lái

三、下面的计算对吗?把不对的改正过来。

1. $46 - 28 + 35 = 63$

$$\begin{array}{r} 46 \\ - 28 \\ \hline 28 \\ + 35 \\ \hline 63 \end{array}$$

(×)

$$\begin{array}{r} \text{改正: } 46 \\ - 28 \\ \hline 18 \\ + 35 \\ \hline 53 \end{array}$$

2. $72 - (37 + 25) = 20$

$$\begin{array}{r} 37 \\ + 25 \\ \hline 62 \\ 72 - 62 = 10 \end{array}$$

(×)

$$\begin{array}{r} 72 \\ - (37 + 25) \\ \hline 10 \end{array}$$

四、中国一拖的车间里原来有86台自动驾驶拖拉机,开走37台,又组装了26台,现在有多少台自动驾驶拖拉机?

$$86 - 37 + 26 = 75(\text{台})$$

答:现在有75台自动驾驶拖拉机。

我们国家真厉害!



能力提升

五、有两种魔法道具,小兔子拿到△会增加13点开心值,拿到∩会减少24点开心值,试一试,小兔子最后还有多少点开心值?

58点



(47)点

46点



(35)点