



整理和复习



同学们,学习完本单元,你有哪些收获呢?让我们梳理一下吧!

1. 用竖式计算两位数加法时:

把()对齐,从()位加起,个位相加满十向()进1。

2. 用竖式计算两位数减法时:

把()对齐,从()位减起,个位不够减,就从()位退1,在个位上加()再减。

3. 连加、连减和加减混合:

(1)连加、连减和加减混合的运算顺序:没有括号的,要按从()往()的顺序计算;有括号的,要先算括号()的,再算括号()的。

$$17 + 22 + 35 = \quad 48 - (28 + 15) = \quad 45 - 17 + 39 =$$

(2)计算方法:列竖式计算,没有括号的可以用(),即将两个竖式合并成一个竖式。能口算的尽量口算。

4. 解决问题:

(1)求“比一个数多几的数是多少”的问题,用()法计算。

(2)求“比一个数少几的数是多少”的问题,用()法计算。

(3)求连续两问的实际问题:先根据已知的数学信息,解决第一个问题,再把答案作为已知的数学信息,解决第二个问题。

例如:寒假里,新新和小龙体验生活,去卖糖葫芦。小龙卖了多少串?新新和小龙一共卖了多少串?




新新

我卖了18串。



小龙

我比你多卖5串。



同学们,梳理结束了,你掌握多少呢? 让我们检验一下吧!

yòng shù shì jì suàn
一、用竖式计算。

$32 + 17 =$

$14 + 57 =$

$45 + 35 =$

$39 - 12 =$

$52 - 47 =$

$80 - 38 =$

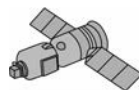
$43 - 22 - 17 =$

$29 + 13 + 41 =$

$50 - (37 + 6) =$

jiě jué wèn tí
二、解决问题。

1. 某国在过去的3年内共发射了43颗卫星,其中26颗为民用卫星,其余的为军用卫星,军用卫星有多少颗?



2. 某学校组织学生参观大运河博物馆。两个班一共有多少人? 这辆客车坐满后,还剩下多少人?



准载42人

一班38人。

二班39人。





整理和复习



同学们,学习完本单元,你有哪些收获呢? 让我们梳理一下吧!

1. 用竖式计算两位数加法时:

把(相同数位)对齐,从(个)位加起,个位相加满十向(十位)进1。

2. 用竖式计算两位数减法时:

把(相同数位)对齐,从(个)位减起,个位不够减,就从(十)位退1,在个位上加(10)再减。

3. 连加、连减和加减混合:

(1)连加、连减和加减混合的运算顺序:没有括号的,要按从(左)往(右)的顺序计算;有括号的,要先算括号(里面)的,再算括号(外面)的。

$$17 + 22 + 35 = 74 \quad 48 - (28 + 15) = 5 \quad 45 - 17 + 39 = 67$$

(2)计算方法:列竖式计算,没有括号的可以用(简便写法),即将两个竖式合并成一个竖式。能口算的尽量口算。

4. 解决问题:

(1)求“比一个数多几的数是多少”的问题,用(加)法计算。

(2)求“比一个数少几的数是多少”的问题,用(减)法计算。

(3)求连续两问的实际问题:先根据已知的数学信息,解决第一个问题,再把答案作为已知的数学信息,解决第二个问题。

例如:寒假里,新新和小龙体验生活,去卖糖葫芦。小龙卖了多少串? 新新和小龙一共卖了多少串?



新新

我卖了18串。




小龙

我比你多卖5串。

$$18 + 5 = 23(\text{串}) \quad 18 + 23 = 41(\text{串})$$

答:小龙卖了23串,新新和小龙一共卖了41串。



同学们,梳理结束了,你掌握多少呢? 让我们检验一下吧!

yòng shù shì jì suàn

一、用竖式计算。

$$32 + 17 = 49$$

$$\begin{array}{r} 32 \\ + 17 \\ \hline 49 \end{array}$$

$$14 + 57 = 71$$

$$\begin{array}{r} 14 \\ + 57 \\ \hline 71 \end{array}$$

$$45 + 35 = 80$$

$$\begin{array}{r} 45 \\ + 35 \\ \hline 80 \end{array}$$

$$39 - 12 = 27$$

$$\begin{array}{r} 39 \\ - 12 \\ \hline 27 \end{array}$$

$$52 - 47 = 5$$

$$\begin{array}{r} 52 \\ - 47 \\ \hline 5 \end{array}$$

$$80 - 38 = 42$$

$$\begin{array}{r} 80 \\ - 38 \\ \hline 42 \end{array}$$

$$43 - 22 - 17 = 4$$

$$\begin{array}{r} 43 \\ - 22 \\ \hline 21 \end{array} \quad \begin{array}{r} 21 \\ - 17 \\ \hline 4 \end{array}$$

$$29 + 13 + 41 = 83$$

$$\begin{array}{r} 29 \\ + 13 \\ \hline 42 \\ + 41 \\ \hline 83 \end{array}$$

$$50 - (37 + 6) = 7$$

$$\begin{array}{r} 37 \\ + 6 \\ \hline 43 \end{array} \quad \begin{array}{r} 50 \\ - 43 \\ \hline 7 \end{array}$$

jiě jué wèn tí

二、解决问题。

1. 某国在过去的3年内共发射了43颗卫星,其中26颗为民用卫星,其余的为军用卫星,军用卫星有多少颗?

$$43 - 26 = 17(\text{颗})$$

答:军用卫星有17颗。



2. 某学校组织学生参观大运河博物馆。两个班一共有多少人? 这辆客车坐满后,还剩下多少人?

$$38 + 39 = 77(\text{人})$$

$$77 - 42 = 35(\text{人})$$

答:两个班一共有77人。这辆客车坐满后,还剩下35人。



准载42人

一班38人。

二班39人。

