

期中综合测试卷

(时间: 60分钟 分数: 100分)

得分: _____

① 考生要写清校名、姓名和班级
② 不在试卷上做任何标识
③ 字迹要清楚, 卷面要整洁

注意事项

姓名



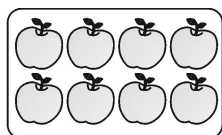
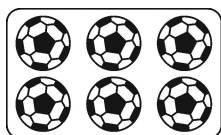
班级

年级

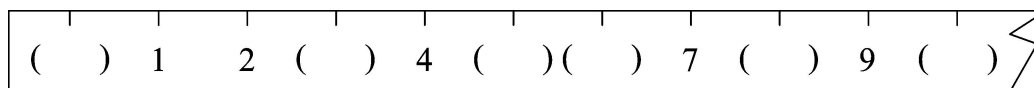
学校

一、填一填。(第2题3分, 其余每空1分, 共29分)

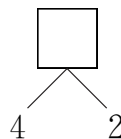
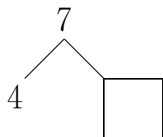
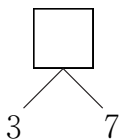
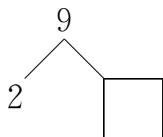
1. 看图写数。



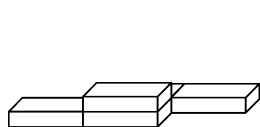
2. 按顺序填数。



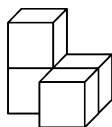
3.



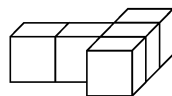
4. 数一数, 填一填。



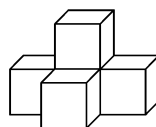
() 个



() 个

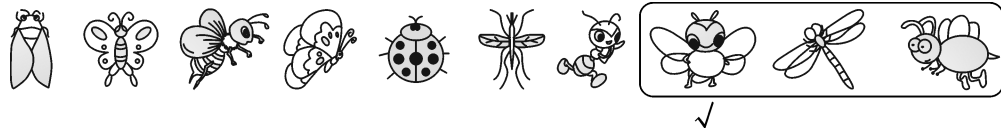


() 个



() 个

5. (许昌市魏都区)





(1) 一共有()只昆虫。

(2) 从左数, 排第(), 和 之间 有()只昆虫。

(3) 把右边的3只昆虫圈起来, 给从右数第3只昆虫下面画“√”。

6. (湖北黄冈)



每人一个,还少()个 .

7. 在 里填上合适的数。


$9 < \square$

$8 > \square$

$5 = \square$

$2 > \square$

8. 数一数。



正方体有()个;

长方体有()个;

圆柱有()个;

球有()个。

二、我会算。(共 25 分)

1. 口算。(12 分)

$5 + 2 =$

$8 - 4 =$

$0 + 6 =$

$3 + 6 - 5 =$

$10 - 7 =$

$8 + 2 =$

$4 + 3 =$

$10 - 6 + 2 =$


$9 - 5 =$

$3 + 4 =$

$6 - 4 =$

$6 - 1 - 5 =$

2. 比一比,看谁算得又对又快。(7 分)



3. 在□里填上合适的数。(6分)

$5 + \square = 10$

$6 + \square = 8$

$\square + 1 = 10$

$3 + \square = 7$

$4 + \square = 10$

$\square + 5 = 8$

三、连一连。(6分)



四、在○里填上“>”“<”或“=”。(6分)

$9 - 4 \bigcirc 5$

$9 - 1 \bigcirc 6$


$9 + 0 \bigcirc 10$

$3 + 3 \bigcirc 7$

$10 - 7 \bigcirc 4$

$8 - 3 \bigcirc 4$

五、看一看,填一填。(6分)



书在桌的()面;

桌在书的()面;

书在球的()边;

小红在小青的()面;

小青在小红的()面;

小东在小红的()边。

六、画一画,圈一圈。(共8分)

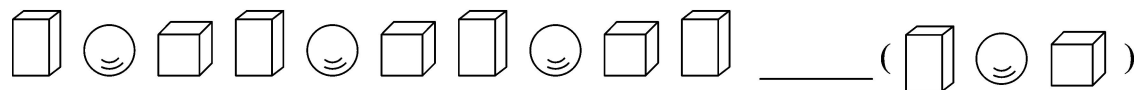
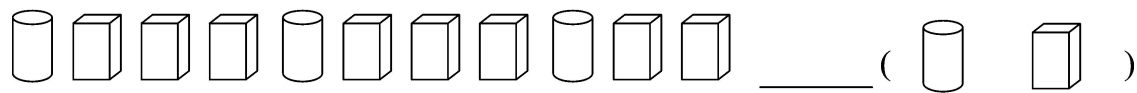
1. 画○,与△同样多。




2. 画△,比□少2个。



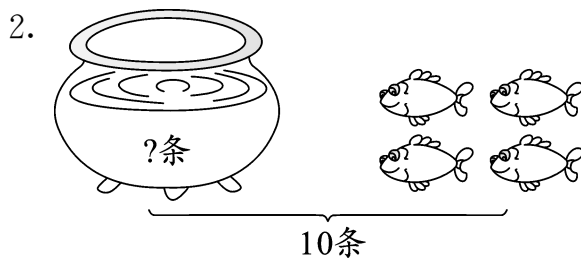
3. 接着摆什么？在下面的括号里圈出正确的答案。



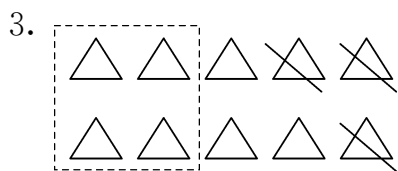
七、看图列式计算。(12分)



$$\square \bigcirc \square = \square \text{ (只)}$$



$$\square \bigcirc \square = \square \text{ (条)}$$



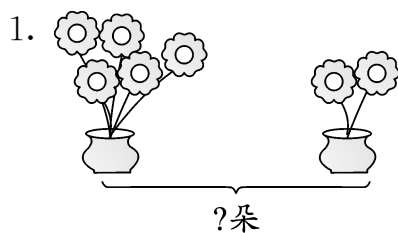
$$\square \bigcirc \square \bigcirc \square = \square$$

4. (湖北黄冈)



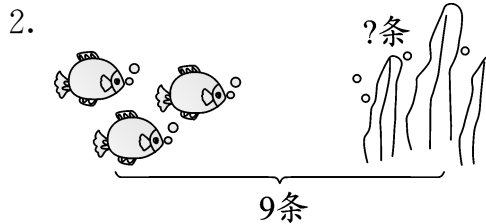
$$6 - \square \bigcirc \square = \square \text{ (只)}$$

八、解决问题。(8分)



左边有 \square 朵, 右边有 \square 朵,
一共有几朵?

$$\square \bigcirc \square = \square \text{ (朵)}$$



一共有 \square 条, 左边有 \square 条
右边有几条?

$$\square \bigcirc \square = \square \text{ (条)}$$