

期中综合测试卷

(时间：60分钟 分数：100分)

得分：_____

①考生要写清校名、姓名和班级
②不在试卷上做任何标识
③字迹要清楚，卷面要整洁

注意事项

姓名

班级

年级

学校

一、填一填。(每空 1 分,共 29 分)

1. 我们认识的长度单位有(米)和(厘米)。

2. (河北隆化县)5 米=(500)厘米 17 米-8 米=(900)厘米

3.  纸条长(3)厘米。

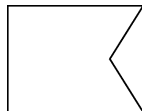
4. (湖北大冶市)在()里填上“厘米”或“米”。

小明的弟弟身高是 98(厘米) 一支笔长 15(厘米)

教室的长是 9(米) 一座桥长 50(米)

5. (湖北仙桃市)比 28 多 35 的数是(63),37 比 25 多(12)。

6. (河北顺平县)右图是由(5)条线段围成的,图中有
(5)个角,其中有(2)个直角。



7. 用乘法口诀“四六二十四”写出两道乘法算式是($4 \times 6 = 24$)和
($6 \times 4 = 24$)。

8. 两个乘数都是 6,积是(36)。

9. 在 \bigcirc 里填上“+”“-”或“ \times ”。

$$6 \bigcirc 2 = 12$$

$$9 \bigcirc 3 = 6$$

$$4 \bigcirc 2 = 8$$

10. 在 \bigcirc 里填上“ $>$ ”“ $<$ ”或“ $=$ ”。

$$83 - 3 \bigcirc 83 - 8$$

$$67 + 9 \bigcirc 69 + 7$$

$$63 - 3 \bigcirc 66$$

11. 按规律填一填。

10 19 28 37 46 55

93 86 79 72 65 58

二、辨一辨。(对的打“√”,错的打“×”)(5 分)

1. 计算 3×5 和 5×3 都可以用“三五十五”这句口诀。 (√)
2. 5 米的绳子比 500 厘米的绳子短。 (×)
3. (河北顺平县)数学书长 26 米。 (×)
4. (信阳市平桥区)所有直角都一样大。 (√)
5. (湖北鄂州市)计算 $60 - (26 + 18)$ 时,要先算加法,再算减法。 (√)

三、选一选。(把正确答案的序号填在括号里)(10 分)

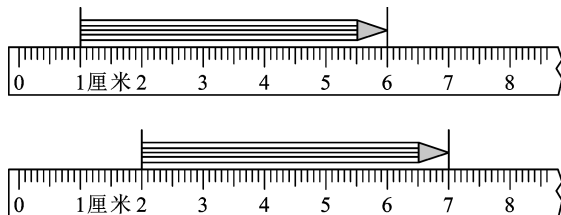
1. (湖北仙桃市)4 个 3 列成加法算式是(①)。

① $3 + 3 + 3 + 3$

② $4 + 4 + 4$

③ 4×3

2. 图中两支铅笔(①)。



① 同样长

② 上面一支长

③ 下面一支长

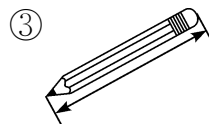
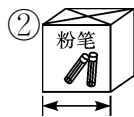

3. 用“三四十二”这句口诀可以写出的算式是(③)。

① $2 \times 6 = 12$

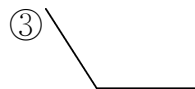
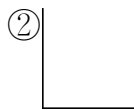
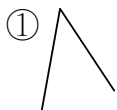
② $6 \times 2 = 12$

③ $3 \times 4 = 12$

4. (湖北鄂州市)下面用米作单位比较合适的是(①)。



5. 下图中比直角小的角是(①)。



四、算一算。(共 20 分)

1. 快速口算。(8 分)

$45 + 30 = 75$

$6 \times 6 = 36$

$4 \times 2 = 8$

$3 \times 6 = 18$

$3 \times 5 + 7 = 22$

$6 \times 4 - 5 = 19$

$3 \times 4 + 9 = 21$

$5 \times 5 - 8 = 17$

2. 列竖式计算。(12 分)

$$36 + 25 = 61$$

$$\begin{array}{r} 36 \\ + 25 \\ \hline 61 \end{array}$$

$$81 - 64 = 17$$

$$\begin{array}{r} 81 \\ - 64 \\ \hline 17 \end{array}$$

$$74 - 36 = 38$$

$$\begin{array}{r} 74 \\ - 36 \\ \hline 38 \end{array}$$

$$17 + 34 - 25 = 26$$

$$\begin{array}{r} 17 \\ + 34 \\ \hline 51 \\ - 25 \\ \hline 26 \end{array}$$

$$49 + (52 - 29) = 72$$

$$\begin{array}{r} 52 \\ - 29 \\ \hline 23 \\ + 49 \\ \hline 72 \end{array}$$

$$80 - (36 - 19) = 63$$

$$\begin{array}{r} 36 \\ - 19 \\ \hline 17 \end{array} \quad \begin{array}{r} 80 \\ - 17 \\ \hline 63 \end{array}$$

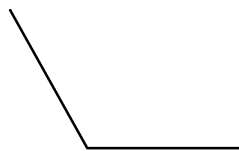
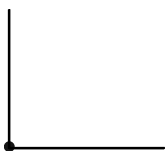
五、画一画。(共 6 分)

1. 画一条比 5 厘米短 2 厘米的线段。(2 分)

$$5 - 2 = 3 (\text{厘米})$$

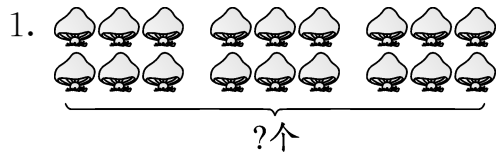


2. 以下面的点作顶点画一个直角,再画一个比直角大的角。(4 分)

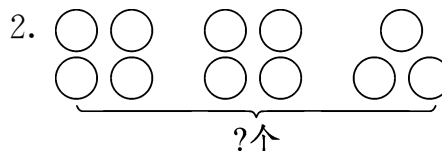


(答案不唯一)

六、我会看图列算式。(6 分)



$$6 \times 3 = 18 (\text{个})$$



$$4 \times 2 + 3 = 11 (\text{个})$$

七、解决问题我能行。(共 24 分)

1. (1) 这件衣服现在要多少钱? (3 分)

$$72 - 5 = 67 (\text{元})$$

答: 这件衣服现在要 67 元。



节日促销, 每件优惠5元。

- (2) 张阿姨要买 3 件这样的衣服, 一共可以优惠多少元? (3 分)

$$5 \times 3 = 15 (\text{元})$$

答: 一共可以优惠 15 元。

2. (河南温县) 二年级两个班参加植树活动, 二(1)班准备植树 36 棵, 二(2)班准备植树 27 棵。两个班一共要植树多少棵? 已经植树 45 棵, 还剩多少棵树没有栽? (5 分)

$$36 + 27 = 63 (\text{棵})$$

$$63 - 45 = 18 (\text{棵})$$


答: 两个班一共要植树 63 棵。 还剩 18 棵树没有栽。

3. (上饶市广丰区) 王红买回 5 套科技书, 每套 6 本。一共有多少本? 借出去 18 本, 还剩多少本? (5 分)

$$6 \times 5 = 30 (\text{本})$$

$$30 - 18 = 12 (\text{本})$$

答: 一共有 30 本, 还剩 12 本。



4. 4 条小鱼在表演“吹泡泡”, 每条小鱼都要吹 5 个泡泡。

- (1) 4 条小鱼一共要吹多少个泡泡? (3 分)

$$4 \times 5 = 20 (\text{个})$$

答: 4 条小鱼一共要吹 20 个泡泡。

- (2) 现在每条小鱼各吹了 3 个泡泡, 每条小鱼还要吹几个泡泡? 4 条小鱼一共还要吹几个泡泡? (5 分)

$$5 - 3 = 2 (\text{个})$$

$$2 \times 4 = 8 (\text{个})$$

答: 每条小鱼还要吹 2 个泡泡。 4 条小鱼一共还要吹 8 个泡泡。

