


期中测试卷(一)

一、送小动物回家。(18 分)



二、快乐填空。(20 分)

- 3×2 和 2×3 的积都是(), 计算时所用乘法口诀为()。
- 热水瓶高 41(), 单人床长 2()。
- $1 \text{ 米} - 57 \text{ 厘米} = () \text{ 厘米}$ $5 \text{ 米} - 4 \text{ 米} = () \text{ 厘米}$
- 长方形和正方形都有()个直角, 三角形中最多有()个直角。
- 用尺子量出右图中各边的长度。
- 小飞的爸爸买了一辆玩具汽车花了 39 元, 一架玩具飞机花了 58 元, 他共花了

米 () 厘米

厘米 ()

()元。

7. () $\times 3 = 12$ $36 + () = 75$ $() - 25 = 18$

8. 在○里填上“ $>$ ”“ $<$ ”或“ $=$ ”。

$56 - 30$ ○ 36 $29 + 34$ ○ $54 + 7$ $43 - 18$ ○ $25 + 2$

6×2 ○ $5 \times 3 - 2$ $2 \times 2 + 2$ ○ 3×2 $6 \times 5 - 15$ ○ $2 \times 5 + 5$

三、快乐判断。(对的在括号里画“ \checkmark ”,错的画“ \times ”)(10分)

1. 20 厘米长的绳子比 2 米长的绳子长。 ()

2. 求 3 与 5 的积是多少,可列式为 $3 + 5$ 。 ()

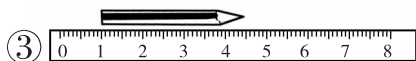

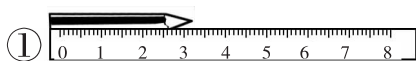
3. 3×4 与 2×6 的积相等,所以用同一句乘法口诀。 ()

4. $24 + 26$ 与 $68 - 18$ 的计算结果相同。 ()

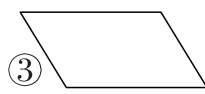
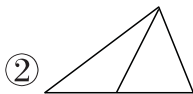
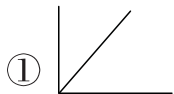
5. $72 - (34 + 15)$ 在列竖式计算时,没有简便算法。 ()

四、快乐选择。(将正确答案的序号填在括号里)(10分)

1. 下面测量铅笔的长度正确的是()。



2. 图()的角最多。



3. 下面算式结果与其他算式不同的是()。

① $6 + 6$

② $3 \times 4 + 4$


③ $4 + 4 + 4 + 4$

4. 一辆车可以坐 39 人,二年级(1)班有男生 22 人,女生 18 人,一辆车()。

- ①刚好坐满 ②坐不下 ③还有空位

5. 如右图,每层楼高 4 米,这座 5 层楼高()米。

- ①20 ②16 ③9



五、快乐画图。(8 分)

1. 画一条比 3 厘米长,比 6 厘米短的线段。(4 分)

2. 用三角板画一个直角,再画一个钝角。(4 分)

六、看图列式计算。(10 分)

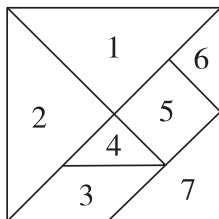
1.
 $\underbrace{19\text{元} \quad 45\text{元} \quad 27\text{元}}_{\text{?元}}$

2.
 $\underbrace{\hspace{1cm} \hspace{1cm} \hspace{1cm} \hspace{1cm} \hspace{1cm}}_{\text{?个}}$

$$\square \bigcirc \square \bigcirc \square = \square (\text{元})$$

$$\square \bigcirc \square \bigcirc \square = \square (\text{个})$$

七、看图填一填。(7 分)



七巧板中的 _____ 号板是正方形,上面有 _____ 个直角; _____

号板是平行四边形,上面有两个_____角和两个_____角;7号板中有_____个直角和_____个锐角。

八、解决问题。(17分)

1. (8分) $\bigcirc + \bigcirc = 12$

$\bigcirc = (\quad)$

$\triangle + \triangle + \triangle + \triangle = 24$

$\triangle = (\quad)$

$\square + \square + \square + \square + \square + \square = 18$

$\square = (\quad)$

$\star + \star + \star + \star + \star + \star = 30$

$\star = (\quad)$

2. 我有18张动物邮票和25张植物邮票。

我有34张动物邮票,我的植物邮票的张数比聪聪的多16张。



聪聪 慧慧

(1) 慧慧有多少张植物邮票? (4分)

(2) 聪聪和慧慧的动物邮票一共有多少张? (5分)