

九年级第一学期期末考试

历史试卷

总分	核分人

本试卷分卷Ⅰ和卷Ⅱ两部分。卷Ⅰ为选择题,卷Ⅱ为非选择题。
本试卷共8页。总分100分,考试时间90分钟。

密

卷Ⅰ(选择题,共40分)

注意事项:1. 仔细审题,工整作答,保持卷面整洁。

2. 考生完成试卷后,务必从头到尾认真检查一遍。

得分	评卷人

一、选择题。(本大题共20个小题;每小题2分,共40分。在每题列出的四个选项中,只有一项是最符合题目要求的)

- 中古西欧城市发展的过程中,手工业者、商人享有新的契约关系赋予的权利,取得特殊的法律地位。他们都成为了……………()
A. 城市居民 B. 新式农民
C. 工场手工业工人 D. 资本家
- 文艺复兴时期,涌现出许多杰出人物,以下人物及其代表作品搭配不正确的是()
A. 但丁——《神曲》
B. 达·芬奇——《蒙娜丽莎》
C. 达尔文——《最后的晚餐》
D. 莎士比亚——《哈姆雷特》
- 在资产阶级革命过程中,领袖人物作出了巨大贡献。下面三位领导人共同的历史贡献是……………()



克伦威尔



华盛顿



拿破仑


- 确立了资产阶级君主立宪制 B. 实现了民族国家的独立
C. 动摇了欧洲封建统治秩序 D. 促进了民主政治的发展
- 《权利法案》《独立宣言》《人权宣言》和《拿破仑法典》是人类民主文明历程的重要成果。下面对四部文献的认识正确的是……………()
A. 《权利法案》——三权分立原则的充分体现
B. 《独立宣言》——以法律的形式限制君主的权力
C. 《人权宣言》——“第一个人权宣言”
D. 《拿破仑法典》——很多国家的民法都以此为参照蓝本

封

线



5. 铁路时代的到来为社会提供了更为快捷、廉价、便利的交通。标志着铁路时代开始的发明是……………()



A. 珍妮纺纱机



B. 蒸汽机车



C. 早期汽车



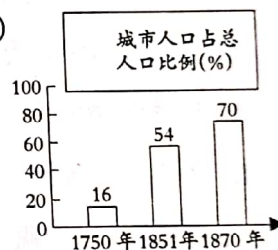
D. 莱特兄弟的实验飞机

6. 下表是某同学在整理笔记时提炼出的部分知识要点,据此判断他正在学习的主题是…()

时间	1861 年
性质	资产阶级性质
影响	维护了国家统一,废除了奴隶制度,清除了资本主义发展的最大障碍,为以后经济的迅速发展创造了条件

6 题表

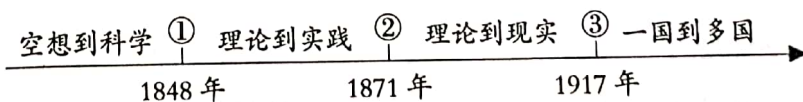
- A. 俄国农奴制改革
B. 日本明治维新
C. 彼得一世改革
D. 美国内战
7. 右图是“1750-1870 年英国城市化进程统计图”,图中城市人口占总人口比例发生变化的主要原因是……………()



7 题图

- A. 纺织工人数量增加
B. 工业革命的推动
C. 殖民地的不断扩大
D. 大众教育的普及
8. 远离战争、珍爱和平是同学们学习了第一次世界大战后的最大感悟。下面有关第一次世界大战的表述**不正确**的是……………()
- A. 萨拉热窝事件是一战爆发的导火索
B. 一战后形成了美苏对峙的局面
C. 战争最终以同盟国集团失败而告终
D. 战争后期美国加入了协约国集团

9. 下图为国际社会主义运动整体发展趋势示意图,其中③处对应的历史事件是……………()



- A. 《共产党宣言》发表
B. 俄国十月革命
C. 法国巴黎公社
D. 第一国际成立
10. 20 世纪前期,国际社会签订了一个重要条约来调和法德矛盾,以确保地区和平。但 20 年后世界大战再次爆发,证明其最终失效。这一条约是……………()
- A. 《凡尔赛条约》
B. 《九国公约》
C. 《开罗宣言》
D. 《联合国家宣言》



11. 1932年,苏联的机器设备78%需要进口,到1937年机器进口的比重仅占苏联需求量的0.9%。
这一变化反映了苏联……………()
- A. 推行了新经济政策
 - B. 实行了战时共产主义政策
 - C. 实施了工业化建设
 - D. 开展了农业集体化运动
12. 他是印度民族解放运动中的领袖人物,由于他的努力,“精神运动取代了武装暴动,祈祷取代了枪炮”。“他”是……………()
- A. 卡德纳斯
 - B. 甘地
 - C. 扎格鲁尔
 - D. 玻利瓦尔
13. 1933—1936年,美国在大量种树的同时,兴建了大量的公路、水坝、体育馆、医院等公共设施。其参与人数约850万人。材料反映的措施是……………()
- A. 整顿金融体系
 - B. 调整农业政策
 - C. 推行“以工代赈”
 - D. 建立社会保障制度
14. 罗斯福在一次演讲中说道:“昨天对夏威夷岛的进攻给美国海陆军部队造成了严重的损害。我遗憾地告诉各位,很多美国人丧失了生命。此外,据报,美国船只在旧金山和火奴鲁鲁之间的公海上也遭到了鱼雷袭击。”材料反映的历史事件是……………()
- A. 欧洲战争策源地形成
 - B. 苏德战争爆发
 - C. 世界反法西斯同盟成立
 - D. 日本偷袭美国珍珠港
15. 1945年2月,为了协调盟军行动,取得反法西斯战争的最后胜利。美、英、苏三国首脑罗斯福、丘吉尔、斯大林召开的重要会议是……………()
- A. 开罗会议
 - B. 雅尔塔会议
 - C. 波茨坦会议
 - D. 华盛顿会议



16.对右图认识正确的是.....()

- A. 欧洲出现政治经济一体化趋势
- B. 世界出现两极格局
- C. 德国法西斯占领欧洲
- D. 世界出现多极化趋势



北约、华约示意图
16 题图

17.下表为 1948—1952 年西欧国家经济发展状况统计表。这一历史阶段西欧国家经济迅速增长得益于.....()

时间(年)	国民生产总值增长	工业生产上升	农业生产上升
1948—1952	25%	35%	4.8%

- A. 杜鲁门主义的推行
- B. 马歇尔计划的援助
- C. “柏林危机”的解除
- D. 欧共体的成立

18.在 1953—1964 年期间,苏联谷物总产量年均达到 1.175 亿吨,比 1945—1953 年间的年均产量增长 62%。这一变化发生在.....()

- A. 斯大林时期
- B. 戈尔巴乔夫时期
- C. 赫鲁晓夫时期
- D. 勃列日涅夫时期

19.非洲民族解放运动首先在北非展开。仅 1960 年就有 17 个国家获得独立,到 60 年代末,非洲独立国家总数达到 41 个,约占非洲总面积的 84%。材料说明了.....()







- A. 民族解放是不可抗拒的历史潮流
- B. 世界资本主义殖民体系彻底瓦解
- C. 国际合作有利于应对全球挑战
- D. 地区冲突和民族矛盾不断激化

20.它不是战前国际联盟的继续。它孕育于反法西斯战争年代,是在反法西斯联盟基础上建立起来的崭新的、普遍性的国际组织,是人类构建世界和平的成果。这一国际组织是.....()

- A. 联合国
- B. 欧盟
- C. 上海合作组织
- D. 世界贸易组织



卷 I (选择题) 答题框

- 涂卡注意事项:**
1. 使用考试专用扁头 2B 涂卡铅笔填涂,或将普通 2B 铅笔削成扁鸭嘴状填涂。
 2. 涂卡时,将答题纸直接置于平整的桌面上,或将答题纸置于硬质垫板上填涂。一定不能将答题纸置于软垫或纸张上填涂。
 3. 修改时用橡皮擦干净后,重新填涂所选项。
 4. 填涂的正确方法:  错误方法:     

- | | | | |
|-------------------|--------------------|--------------------|--------------------|
| 1 [A] [B] [C] [D] | 6 [A] [B] [C] [D] | 11 [A] [B] [C] [D] | 16 [A] [B] [C] [D] |
| 2 [A] [B] [C] [D] | 7 [A] [B] [C] [D] | 12 [A] [B] [C] [D] | 17 [A] [B] [C] [D] |
| 3 [A] [B] [C] [D] | 8 [A] [B] [C] [D] | 13 [A] [B] [C] [D] | 18 [A] [B] [C] [D] |
| 4 [A] [B] [C] [D] | 9 [A] [B] [C] [D] | 14 [A] [B] [C] [D] | 19 [A] [B] [C] [D] |
| 5 [A] [B] [C] [D] | 10 [A] [B] [C] [D] | 15 [A] [B] [C] [D] | 20 [A] [B] [C] [D] |

卷 II (非选择题,共 60 分)

二、简答题。(本题 4 小题,共 60 分)

得 分	评卷人

21. 阅读材料,回答问题。(14 分)

材料一:1300 年以前,欧洲人普遍认为整个世界只有欧、亚、非三个大洲,且大洲之间基本没有交流。而恰恰是因为迪亚士、达·伽马、哥伦布、麦哲伦等探险家们的出现,才使世界原有的这种状态被打破。

——九年级上册《教师教学用书》

材料二:1850 年,英国占世界贸易总额的 21%,其出口商品中工业消费品和工业生产资料占 85%以上,从而占据了世界经济的中心地位。

——朱步冲《西方国家崛起的条件》

材料三:18 世纪时,美国走向独立……19 世纪后半期,美国迅速开始了它的现代化进程,欧洲二、三百年完成的事,它在不到百年内便完成了。

——钱忠文《读美利坚》

(1) 据材料一,哪一事件“使世界原有的这种状态被打破”? (2 分) 该事件中哥伦布最伟大的功绩是什么? (2 分)

线 (2) 英国“占据了世界经济的中心地位”的优势有哪些? (4 分)



(3) 据材料三,“美国走向独立”的事件是什么?(2分)“美国迅速开始了它的现代化进程”的原因有哪些?(4分)

得分	评卷人

22. 阅读材料,回答问题。(14分)

材料一:1921年3月初,一直是布尔什维克党可靠基地的喀琅施塔得爆发了水兵兵变。列宁逐渐认识到,在坚决镇压叛乱的同时,必须改变经济政策,特别是对农民的政策。

——摘编自《世界史》

材料二:1933年,罗斯福就任美国总统。面对“大萧条”现状,他坚定地认为,这个国家需要进行大胆的、坚持不懈的试验,如果试验失败,就再试行另一种办法,最重要的是要进行试验。

——摘编自《世界史》

(1) 据材料一并结合所学知识,列宁为了“改变经济政策”做了什么?(2分)其对农民的政策有哪些?(4分)

(2) 据材料二并结合所学,指出罗斯福进行的“试验”及其背景。(4分)该“试验”开创了资本主义国家管理的新模式,这一模式指的是什么?(2分)

(3) 结合上述材料,谈谈你对不同国家选择不同发展道路的认识。(2分)



得分	评卷人

23. 阅读材料, 回答问题。(18分)

材料一: 第一次世界大战……交战双方都付出了惨重的代价, 蒙受了巨大的损失。面对战争的惨痛后果, 战胜国的胜利失去了意义。第一次世界大战是一场没有胜利者的战争。

——摘编自《20 世纪的战争与和平》

材料二: 凡尔赛—华盛顿体系不过是帝国主义上一轮争夺的总结, 下一轮争夺的开始。正如列宁所指出的: “不管是一个帝国主义联盟, 还是一切帝国主义强国结成一个总联盟, 都不可避免地只会是前后两次战争之间的‘暂时休战’”。

——陶诗永《火山口上的分脏》

材料三: (1943 年 12 月 1 日) 三国军事方面人员, 对于今后对日作战计划, 已获得一致意见……在太平洋上所夺得或占领之一切岛屿, 及使日本在中国所窃取之土地, 如东北、台湾、澎湖列岛等归还中华民国。基于以上各项目的, 三大盟国将继续坚忍进行其重大而长期斗争, 以获得日本无条件之投降。

——《开罗宣言》

(1) 材料一中认为“一战没有胜利者”的依据是什么? (3分)

(2) 材料二中帝国主义之间发生“争夺”的根本原因是什么? (3分) “上一轮争夺”后通过哪两次会议确立了凡尔赛—华盛顿体系? (4分)

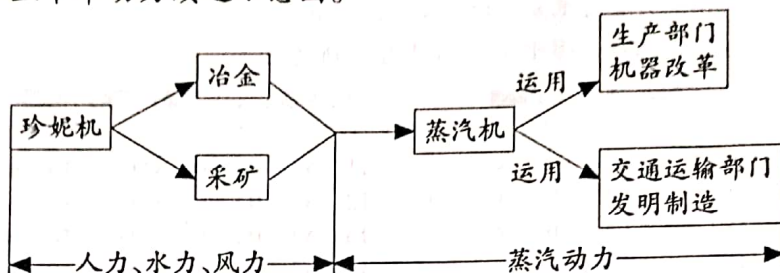
(3) 材料三中所提到的“盟国”建立的标志是什么? (3分) 他们所进行的“长期斗争”的性质是什么? (3分) 这场“斗争”的转折点是哪场战役? (2分)



得分	评卷人

24. 阅读材料, 回答问题。(14 分)

材料一: 工业革命动力演进示意图。



材料二: 19 世纪 70 年代, 实际可用的发电机问世。与此同时, 电动机也被制造出来。不久, 出现了集中供电的发电厂, 输变电技术也日益完善……电灯、电车、电话、电影放映机等机电产品纷纷涌现, 改变了人们的生产和生活。

材料三: 在第二次世界大战的刺激下, 科学技术发生了一系列广泛而深刻的革命性变化……人类社会开始进入“信息时代”, 它对人类生产和生活方式的各个方面都产生了深远影响。

(1) 据材料一, 指出工业革命中机器动力是如何演进的。(3 分)

(2) 材料二所涉及的工业革命使人类社会进入了什么时代?(2 分) 据材料指出这次工业革命对人们生产和生活产生的积极影响。(4 分)

(3) 据材料三并结合所学知识, 指出人类进入“信息时代”的标志是什么。(1 分) 并写出其对现代社会生活产生的积极影响。(4 分)

