

2020-2021 学年度第一学期芜湖市中小学校教育教学质量监控

九年级历史试题卷

注意事项：

- 1. 本试卷满分为 70 分,历史、道德与法治考试时间为 120 分钟。
- 2. 本试卷包括“试题卷”和“答题卷”两部分。“试题卷”共 6 页,“答题卷”共 2 页。
- 3. 请务必在“答题卷”上答题,在“试题卷”上答题是无效的。
- 4. 考试结束后,请将“试题卷”和“答题卷”一并交回。

一、单项选择(本大题共 15 小题,每小题 2 分,满分 30 分。)

- 1. “水是生命之源”。孕育古埃及文明的河流是
 - A. 尼罗河
 - B. 底格里斯河
 - C. 印度河
 - D. 黄河
- 2. 《汉谟拉比法典》中有许多关于租赁、雇佣、交换、借贷等方面的规定,具此可以说明它
 - A. 是第一部成文法典
 - B. 人类社会的法制传统源远流长
 - C. 严格保护奴隶主利益
 - D. 商品经济在古巴比伦比较活跃
- 3. 古印度的种姓制度和中古欧洲社会的分封制,两者的共同点是
 - A. 维护奴隶主的利益
 - B. 具有严格的等级性
 - C. 权利与义务相交织
 - D. 强化中央集权制度
- 4. 亚历山大帝国的建立客观上促进了东西方文化大交汇。如图,亚历山大帝国境内曾出现过的古代文明有

- ①古希腊文明
 - ②古罗马文明
 - ③古埃及文明
 - ④古印度文明
- A. ①②③
 - B. ①③④
 - C. ②③④
 - D. ①②③④



- 5. 据统计,1 世纪时,罗马全年娱乐日为 66 天;2 世纪时,结清娱乐日为 123 天;4 世纪时,节庆娱乐日为 175 天。在节日里,奴隶角斗、斗兽、戏剧、赛车等活动皆由国库支出,这一现象
 - A. 沉重打击罗马共和国的统治
 - B. 引发斯巴达克起义
 - C. 逐步导致罗马帝国走向灭亡
 - D. 体现罗马关注民生
- 6. 13 世纪英国黑尔斯庄园的法庭档案里记录的一个案件:一个农民丢失了一头黑母牛,他在领主的牛棚里发现了自己走失的牛,但领主却拒绝归还,所以这个农民就向庄园法庭起诉,法庭判定领主要归还该农民的牛。这个案例说明了庄园法庭
 - A. 根本上维护佃户利益
 - B. 领主特权受到一定限制
 - C. 维护社会的公平正义
 - D. 佃户是主持者和决策者
- 7. “任何人在林肯城的居留期达到一年零一日,而且已经照章纳税,……我将准许他与过去那样,继续以市民身份居住在林肯城中。”这份 11 世纪英王颁布的文件
 - A. 促进城市的发展
 - B. 有利于庄园的扩大
 - C. 强化封建割据
 - D. 阻碍资本主义萌芽

8. 比较下面两幅形势图,其中说法有误的是



- A. 疆域极盛时都曾地跨欧亚非
B. 都形成自己独特的文化
C. 疆域极盛时都对世界文化的发展做出重要贡献
D. 都被奥斯曼土耳其所灭
9. 大化改新对日本最重要的影响是
A. 最高统治者依靠贵族统治全国
B. 仿效中国唐朝的典章制度进行改革
C. 使日本发展成为一个中央集权的封建国家
D. 幕府拥有独立于朝廷的政治、军事权力
10. 马克思在《资本论》中描述:许多从事同一个或同一类(例如造纸、铸字或制针)的手工业者,同时在一个工厂里为同一个资本家所雇佣。这种生产组织形式是
A. 租地农场 B. 家庭手工作坊 C. 手工工场 D. 现代工厂
11. 学习历史需要区分历史史实和历史结论。历史史实是指客观发生的历史事件,历史结论是关于史实的基本判断和基本观点。下列关于英国资产阶级革命的相关表述,属于历史史实的是
A. 《大宪章》的颁布,逐步确立了“王权有限”“王在法下”的基本原则
B. 1628年,议会向国王呈递了一份《权利请愿书》
C. 1640年,议会重新召开,揭开了英国资产阶级革命的序幕
D. 克伦威尔独揽大权,英国没有终结个人专权的统治
12. 美国独立战争既是一次民族解放战争,又是一场资产阶级革命。说其是民族解放战争,主要是因为
A. 推翻了英国的殖民统治,获得了民族解放 B. 解放了黑人奴隶,扫清经济发展的障碍
C. 结束被压制状态,推动资本主义发展 D. 推翻封建专制统治,推动政治民主化进程
13. 在欧洲君主眼中,拿破仑仍然是革命的后继者。主要是因为
A. 加冕称帝,建立法兰西第一帝国 B. 制民法典,体现自由平等等原则
C. 发动政变,组成新政府 D. 战功卓越,多次打败反法联盟
14. 蒸汽机的广泛使用,是生产领域的一次意义重大的飞跃。这主要是指蒸汽机的投入使用
A. 大大提高了织布效率 B. 是工业革命开始的标志
C. 提供了更加便利的动力 D. 推动“铁路时代”的到来
15. 如图为国际社会主义运动整体发展趋势示意图,其中①处对应的历史事件是




- A. 英国宪章运动 B. 《共产党宣言》发表
C. 法国巴黎公社 D. 俄国十月革命

二、辨析改错(本大题共4小题;每小题2分,共8分)

16. 辨别下列史实的正误,在“答题卷”该题前【 】内正确的打“√”;错误的打“×”,并加以改正。
- (1)西欧中世纪的鼎盛时期,经济的繁荣为教育的发展提供了保障,大学纷纷兴起。
改正:_____
- (2)17世纪,加入殖民掠夺者行列,有“海上马车夫”之称的国家是西班牙。
改正:_____
- (3)1689年英国议会通过了《权利法案》,君主专制逐渐形成。
改正:_____
- (4)19世纪中期,美国成为世界上第一个工业国家。
改正:_____

三、材料解析(本大题共2小题;每小题10分,共20分)

17. 文化是社会发展的集中体现。阅读材料,回答问题。
- 材料一:



公元前449年到公元前334年是希腊雕塑艺术的全盛时期,艺术史上称为“古典时期”,大量优秀的雕塑作品出自这个时期。

——《世界历史》(九年级上册)人民教育出版社

- (1)写出材料一中雕塑作品的名称。(1分)结合所学知识,指出希腊出现艺术史上“古典时期”的政治背景。(2分)

材料二:



中世纪的圣母像

正是出于对宗教寓意的象征表达,为了强调圣母的圣洁与庄严,往往将圣母塑造得面无表情、没有动态,以致显得僵硬呆滞。这也使得6-13世纪时,整个欧洲的圣母像都出现了程式化的特征。

——常宁生《从神性走向人性》

(2)材料二中画像和哪一宗教有关?(1分)从材料中概括出“整个欧洲的圣母像都出现了程式化的特征”的原因。(2分)

材料三：



(3)材料三中的三幅图片反映的核心思想是什么?(2分)这一思想的兴起给当时的人和时代带来了怎样的变化和影响?(2分)

18. 近代史是世界历史发展的重要时期,世界开始从分散走向整体。阅读下面材料,回答问题。

【时空观念,构建事件轮廓】

材料一：



(1)材料一中,最早到达印度西海岸的航海家是_____ ; _____ 成为第一个横渡太平洋的欧洲人。(2分)

【史料实证,重现历史真实】

材料二:

“16世纪中叶,东方的香料和调味品在西欧的销售量达到了一个世纪前的3倍多;中国的茶和非洲的咖啡,逐渐成为欧洲人餐桌上的主要饮料;美洲的许多农产品,例如玉米、红薯、烟草、可可、西红柿等开始逐步成为全世界到处都有的东西。

——斯塔夫里阿诺斯《全球通史》

(2)依据材料二并结合所学知识,谈谈新航路开辟有何积极作用?(2分)

【历史解释,理性分析史事】

材料三:在18世纪下半期以蒸汽机应用为标志的工业革命兴起了。机器大生产的产品远远超出国内市场的容量,需要更广阔的国际市场,工厂生产需要的原料多来自世界各地。同时工业革命也为工业资产阶级提供了便捷的交通手段及轰开落后地区大门的坚船利炮。在工业革命推动下,资产阶级的全球扩张把整个世界联系为一个整体。

——何兰《资本主义世界市场的形成及殖民体系研究》

(3)依据材料三并结合所学知识,谈谈“工业革命”能够推动“整个世界联系为一个整体”的理由。(4分)

【家国情怀,提升历史认知】

(4)结合上述材料,你认为近代推动世界日趋走向整体的因素有哪些?(2分)

四、活动与探究(12分)

19. 张维为说:读西方人过去写的历史,会发现整个世界近代史就是一部西方话语权的历史。西方现在的主流话语称,西方一直致力于“自由、民主、人权”等这些普世价值。某班以此开展主题探究活动,请你参与。

【压抑下释放】


材料一:十八世纪的法国仍然是一个君主政体的封建国家,封建专制和天主教会控制着国家的社会生活和人民的思想,与封建制度严重衰败景象形成鲜明对照的是资本主义经济迅猛发展,资产阶级日益壮大,他们强烈要求冲破旧制度,在政治、经济、思想方面的束缚。

——纪录片《世界历史42》


(1)概括材料中十八世纪法国的社会状况。(2分)资产阶级要求冲破旧制度的束缚在思想上有何具体体现?(2分)

【实践去执行】

材料二：



人人生而平等，他们都从他们的“造物主”那边被赋予了某些不可转让的权利，包括生命权、自由权和追求幸福的权力……北美殖民地从此成为、而且名正言顺的应当成为自由独立的合众国，它们解除对于英王的一切隶属关系，而它们与大不列颠王国之间的一切政治联系也应从此完全废止。



第一条 在权利方面，人们生来而且始终是自由平等的。
第六条 法律是公共意志的表现。…在法律面前，所有的公民都是平等的。
第十七条 财产是神圣不可侵犯的权利…

图一

图二

(2)图一图二分别是什么重要文献?(2分)它们的颁布对当时该国的社会变革产生了什么影响?(2分)

【矛盾处认知】

材料三:西方在推销自己“自由、民主、人权”话语的时候,很少提及自己财富积累的真实过程。
——张维为《中国触动》



黑奴贸易路线图



英国东印度公司总部

图三

图四

(3)依据上图并结合所学知识,用具体史实来佐证张维为的这句话。(2分)

【反思中感悟】

(4)通过以上探究,你如何看待近代西方所推行的“自由、平等、人权”等思想。(2分)