

# 2020—2021 学年度第一学期期末质量检测试卷

## 九年级历史

说明:1. 全卷共 6 页,满分为 100 分,考试用时为 80 分钟。

2. 答卷前,考生务必用黑色字迹的签字笔或钢笔在答题卡填写自己的准考证号、姓名、学校。用 2B 铅笔把对应该号码的标号涂黑。

3. 选择题每小题选出答案后,用 2B 铅笔把答题卡上对应题目选项的答案信息点涂黑,如需改动,用橡皮擦干净后,再选涂其他答案,答案不能答在试题上。

4. 非选择题必须用黑色字迹钢笔或签字笔作答,答案必须写在答题卡各题目指定区域内相应位置上;如需改动,先划掉原来的答案,然后再写上新的答案;不准使用铅笔和涂改液。不按以上要求作答的答案无效。

5. 考生务必保持答题卡的整洁。考试结束时,将试卷和答题卡一并交回。

一、单项选择题(本大题 30 小题,每小题 2 分,共 60 分)每小题列出的四个选项中只有一个是正确的。

请将答题卡上对应题目所选的选项涂黑。

1. 处在大河流域的文明古国都有着自己灿烂的文明。下面大河流域与之相对应的文明中,不正确的是 ( )



A. 种姓制度



B. 甲骨文



C. 《汉谟拉比法典》



D. 楔形文字

2. 古巴比伦王国的一部法典规定:杀死或伤害奴隶不算犯罪,只须向主人赔偿损失,就算了事;盗窃或隐藏他人奴隶者处死;消灭他人奴隶标记者断指或处死;殴打自由民或反抗主人的奴隶处割耳之刑。这说明该法典的实质是 ( )

A. 体现自由平等

B. 体现“君权神授”

C. 维护奴隶主的利益

D. 规定严格的等级制度

3. 古代印度社会里,商人的女儿不能嫁给官吏的儿子。你认为这是因为 ( )

A. 官吏的财产多于商人

B. 商人的财产多于官吏

C. 等级制度的严格限制

D. 商人与官吏存在世仇

4. 希腊雅典城邦规定“民众法庭审判官由公民抓签选出,任期只有一年,每个公民一生中只能担任两次审判官的职务。”此规定 ( )

A. 提供了公民参与政治的均等机会

B. 表明全体雅典人都有机会参与国家管理

C. 确保了公民大会决策的公正无私

D. 有利于维护法庭审判的公平、公正

5. 亚历山大远征军连续作战 10 年,行程万余里,建立庞大的亚历山大帝国,在世界军事学史上留下光辉一页,开启了东西方文化大规模交融的新时代。这说明 ( )

A. 地区冲突导致了文明的衰落

B. 和平往来促进了文明的交融

C. 人类文明发展的动力来自于战争

D. 战争在一定程度上促进了文明的传播与发展

6. “无论是对中世纪和近现代的西方法学,还是对亚非拉国家的现行法律体制,罗马法都有不可磨灭的贡献。”罗马法制建设的第一步是 ( )

- A.《汉谟拉比法典》
- B.《查士丁尼法典》
- C.《十二铜表法》
- D.《罗马民法大全》

7. 这是一部再现古希腊社会图景的不朽世界文学名作,也是研究早期希腊社会的主要文献。它是 ( )

- A.《汉谟拉比法典》
- B.《十二铜表法》
- C.《荷马史诗》
- D.《掷铁饼者》

8. 下图人物是一位古希腊百科全书式的学者,开创了逻辑学等新学科。下列言论出自他之口的是 ( )

- A. 人应该认识你自己
- B. 宇宙万物是由微小的“原子”组成
- C. 吾爱吾师,吾更爱真理
- D. 以眼还眼,以牙还牙



9. 下列表格中,历史现象与原因的对应关系正确的是 ( )

选项	历史现象	原因
A	公元前 5 世纪后半期,雅典一度达到全盛	查理·马特改革
B	632 年,阿拉伯半岛基本统一,统一的阿拉伯国家建立	穆罕默德创立伊斯兰教
C	阿拉伯数字传遍了全世界	《马可·波罗行纪》
D	1453 年,君士坦丁堡陷落,拜占庭帝国灭亡	亚历山大大帝东征

10. 春节是中国的新年,而对于广大阿拉伯国家的穆斯林来说,他们的新年是开斋节。下列人物中,与开斋节的起源有关的是 ( )

- A. 查理·马特
- B. 穆罕默德
- C. 亚历山大大帝
- D. 释迦牟尼

11. 公元 7 世纪中叶,日本建立了以天皇为中心的国家体制……国家定期把土地分给农民耕种,向他们征收赋税,还要承担多种义务。通过这场改革,日本发展成为了 ( )

- A. 奴隶主贵族统治的国家
- B. 中央集权的封建国家
- C. 君主立宪制
- D. 军事法西斯专政

12. 13 世纪的西欧城市里出现了这样的现象:市民享有财产权,领主不得非法剥夺市民财产,不得向市民任意征税;逃亡到城市的农奴,只要在城市住满一年零一天,就可以获得自由人身份。下列表述与这些现象相符的是 ( )

- A. “我的附庸的附庸,不是我的附庸”
- B. “城市的空气使人自由”
- C. 西欧庄园是自给自足的经济单位
- D. 大学是中世纪教育“最美好的花朵”

13. 中世纪晚期,西欧社会处于转型时期,原来的封君封臣制度和庄园制度发生了很大变化,随之而来的是资本主义生产方式的出现,它们是 ( )

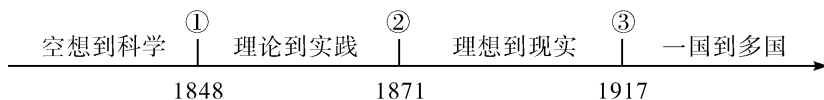
- A. 工厂和乡镇企业
- B. 租地农场和工厂
- C. 乡镇企业和手工工场
- D. 租地农场和手工工场

14. 文艺复兴时期,达·芬奇等艺术大师创作了许多杰出作品。16 世纪以后,文艺复兴从意大利传播到欧洲其他国家,在文学、艺术、思想、科学等许多方面硕果累累。由此可见,文艺复兴 ( )

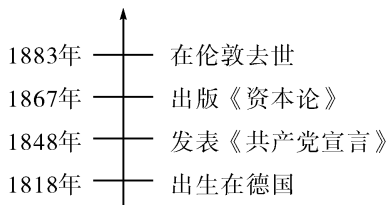
- A. 主要在艺术领域成果突出
- B. 以复兴古希腊、罗马文化为目的
- C. 让世界开始连为一个整体
- D. 推动欧洲科学文化思想的繁荣

15. 某历史研究性学习小组以“文艺复兴不是复古而是创新”为话题进行讨论。下面是四位同学准备的发言卡片,你认为正确的是 ( )
- 甲:文艺复兴不是古希腊、罗马文化的复古,而是新型资产阶级在思想文化领域的反封建斗争  
乙:文艺复兴完全是古希腊民主政治在经过中世纪低潮以后的全面复兴  
丙:文艺复兴顺应了当时社会经济发展的需求,为资本主义的产生奠定了思想文化基础  
丁:文艺复兴是当时人们不满足教会的精神控制,试图完全恢复古希腊、罗马文化的一场运动
- A. 甲和乙                      B. 乙和丙                      C. 丙和丁                      D. 甲和丙
16. “我不想变成上帝,或者居住在永恒之中,属于人的那种光荣对我来说就够了。这正是我所祈求的一切,我自己是凡人,我只要求凡人的幸福。”这实质是反映了 ( )
- A. 倡导个性解放的人文主义精神                      B. 追求理性的理性主义精神  
C. 反对专制主义和教权主义                      D. 抨击宗教神学思想
17. 1492年4月17日,哥伦布与西班牙王室经过三个月谈判,双方签订协议,哥伦布被任命为发现地的统帅,可以获得发现地所得一切财富和商品的十分之一并一概免税,但是殖民地的主权还是属于王室的。谈判内容反映了哥伦布开辟新航路是为了 ( )
- A. 获得财富                      B. 传播基督教                      C. 掘取殖民地                      D. 和平交往
18. 据统计,有2亿多非洲黑人惨遭此劫。他们有的在捕捉时被杀害,有的在贩运的路上被折磨致死,幸存下来的则被作为活的商品,多数被卖到了美洲种植园,过着牛马不如的生活。曾是人类文明发源地之一的非洲大陆却因此失去大量人口,社会生产力遭到严重破坏。材料主要表明 ( )
- A. 非洲和美洲的联系加强                      B. 欧洲获得了大量的物质财富  
C. 资本原始积累的野蛮性                      D. 黑奴贸易促进了美洲的开发
19. “17世纪,英国人这种旧瓶装新酒的做法,既体现了英国人的政治智慧,也解释了英国变革得以成功的原因,同时还能让人领悟英国王室今天依然能够存在的历史渊源。”材料中“旧瓶装新酒”是指 ( )
- A. 处死国王,废除了封建君主制                      B. 保留国王,确立议会权力至上原则  
C. 设立议会,建立民主共和制度                      D. 制定宪法,实践了分权制衡的原则
20. 《全球通史》一书中说:“英国资产阶级革命的根源可以在国会和斯图亚特王朝之间的冲突中找到。”其“根源”指的是 ( )
- A. 苏格兰人民爆发反抗国王的起义                      B. 国王召集议会要求增加政府税收  
C. 议会议员猛烈抨击国王独断专权                      D. 封建专制统治阻碍资本主义发展
21. 斯塔夫里阿诺斯在《全球通史》中认为:“从世界史的观点看,美国革命之所以重要,并不是因为它创造了一个独立的国家,而是因为它创造了一个新的、不同类型的国家。”作者关于美国革命的评价,是因为它 ( )
- A. 脱离殖民统治,实现民族独立                      B. 确立共和体制,实行三权分立  
C. 解放黑人奴隶,维护国家统一                      D. 战胜封建王权,实行君主立宪
22. “1777年7月,英军退到萨拉托加,还没来得及安营扎寨,就被从四面八方赶来的两万多民兵和迅速开到的大陆军包围,英军只得放下武器投降。”该战役的胜利成为了美国独立战争的 ( )
- A. 导火线                      B. 开始的标志  
C. 转折点                      D. 结束的标志
23. 英国《权利法案》规定“不经议会批准,国王既不能随意废除法律,也不能停止法律的执行”;美国1787年宪法规定“国会可以以三分之二多数通过被总统否决的法律”。上述条文所体现的共同目的是 ( )
- A. 建立联邦制国家                      B. 确立“三权分立”原则  
C. 防范个人专制                      D. 实现君主“统而不治”

24. 法国大革命摧毁了法国的君主统治,传播了资产阶级自由民主思想,具有世界影响。下列对法国革命进程中的大事评述正确的是 ( )
- A. 颁布《人权宣言》,成为当今很多国家民法典的参照蓝本  
B. 制定 1791 年宪法,废除了旧制度,确立了新制度的基本框架  
C. 处死路易十六,引发了全国城乡的暴动,法国大革命开始  
D. 颁布《拿破仑法典》,是第一个以国家名义明确表述资产阶级政治要求的文献
25. 关于美国独立战争和法国大革命,符合史实的一项是 ( )
- A. 美国独立战争开始于波士顿倾茶事件,法国大革命开始于攻占巴士底狱  
B. 美国独立战争颁布了《独立宣言》,法国大革命颁布了《拿破仑法典》  
C. 美国独立战争推翻了英国的殖民统治,法国大革命赢得了民族独立  
D. 美国独立战争和法国大革命都属于资产阶级革命
26. “它的重要性是难以估量的,它被广泛地应用在工厂成为几乎所有机器的动力……”。文中的“它”是 ( )
- A. 珍妮机                      B. 瓦特改良蒸汽机                      C. 蒸汽火车                      D. 汽船
27. 16 世纪在英国流传着一首歌谣:“一屋宽且长,织机二百张,织工二百人,排列成长行。……列坐检细毛,不敢辞劳苦。自晨至深夜,各得一便土。……染工八十人,齐将颜色陈。二十扞制匠,将呢折成匹。……”歌谣透露的信息是英国 ( )
- A. 棉纺织业的兴起                      B. 工场经济的发展  
C. 机器工厂的景象                      D. 庄园生活的惬意
28. 1830 年,英国小女孩弗朗丝·金伯尔兴奋地搭乘了一种新式交通工具。她描述道:“现在我们以它的最高速度——每小时 30 英里(48 公里)——出发,它比鸟的飞翔速度还要快。你难以想象切开空气向前奔跑的感觉是怎样的——它的运动也十分平稳。”这种新式交通工具是 ( )
- A. 轮船                      B. 蒸汽机车                      C. 汽车                      D. 飞机
29. 下图为国际社会主义运动整体发展趋势示意图,其中②处对应的历史事件是 ( )



- A. 英国宪章运动                      B. 《共产党宣言》发表  
C. 法国巴黎公社                      D. 俄国十月革命
30. 下面的时间轴,简要描述了某伟大人物的一生。据此判断该人物是 ( )



- A. 苏格拉底                      B. 丘吉尔                      C. 马克思                      D. 列宁
- 二、综合题(本大题 3 小题,31 题 10 分,32 题 15 分,33 题 15 分。共 40 分)

31. (10 分)城市化进程代表着人类文明的进步,在其历史发展进程中呈现出时代性和多样性。阅读材料,回答问题:

材料一 在一定条件下,农奴可以获得自由,……成批的手艺人出走,到适合他们生产和生活的地方居住,他们把生产的手工业品卖给农村,买回粮食和原材料,社会分工逐渐加强并得以深化,城市在此基础上也进一步得到发展。

——齐涛主编,顾奎斋、夏继果分主编《世界通史教程·古代卷》

**材料二** 在人口和贸易量方面,中世纪西欧的城市同中国、印度或中东的城市相比,是微不足道的。但是,由于拥有日益增长的自治权和政治力量,它们显得十分独特。恰恰因为它们再从头开始,且处于政治上分裂的欧洲而不是坚如磐石的帝国的框架中,所以市民们从开头就表现出自信和独立,这种自信和独立是欧亚大陆其他任何地方所没有的。

——(美)斯塔夫里阿诺斯《全球通史》

**材料三** 19 世纪中期欧美主要国家城市和农村人口统计表

国家	总人口(万人)	农村人口占总人口比例	城市人口占总人口比例
英国	约 1 800	48%	52%
法国	约 3 600	75%	25%
俄国	约 5 900	93%	7%
美国	约 2 300	87%	13%

**材料四** 有一幅图叫做《机器时代的享受》。它描写了英国有钱人坐汽船游览伦敦泰晤士河的场景。在他们风光的背后,大批的农村人口背井离乡涌入城市,……许多巨大的蒸汽轮船,发出呛人的浓烟,岸边工厂排放的污水,使河水变得浑浊不堪。

——摘编自《文明的力量》

- (1)根据材料一,分析西欧城市兴起的原因是什么?(2 分)
- (2)根据材料二,中世纪西欧的城市与中国、印度或中东的城市相比,“独特”在哪里?(2 分)
- (3)根据材料三,19 世纪中期各国的城市化程度最高和最低的分别是哪两个国家? 结合所学知识,分析出现这种状况的原因分别是什么?(4 分)
- (4)根据材料四,你认为在城市化进程中应该注意解决好哪些问题?(2 分)

32.(15 分)阅读材料,回答问题:

**材料一** 随着封建社会的衰落和资本主义的萌芽,世界正在发生剧变。在神学笼罩的黑暗中,思想文化的巨人向愚昧和无知发起了挑战:在惊涛骇浪的大海上,勇敢的探险者找到了沟通世界的新路,腐朽的封建城堡在风雨中动摇,资本主义的新时代即将到来。

**材料二** 文艺复兴运动就是高举思想解放的旗帜,打破中世纪神学桎梏,使文化的各个领域从蒙昧主义、禁欲主义和神秘主义的枷锁中解放出来,创造了远比千年中世纪更多、更绚丽多彩的成就,对人类文化宝库作出了巨大的贡献。

——摘编自康天意《文明的狂飙疾进时代》

**材料三** 1500 年以前,人类基本上生活在彼此隔绝的地区中。……直到 1500 年前后,各种族集团之间才第一次有了直接的交往……因此,1500 年是人类历史上的一个重要转折点。

——斯塔夫里阿诺斯《全球通史》

**材料四** 印第安人说:“哥伦布把欧洲强盗带到了美洲,破坏我们的文化,掠夺我们的财富,他是一个恶魔。”而欧洲人说:“哥伦布是一个有功之臣。”

- (1)材料一中,“思想文化的巨人”倡导什么理念“向愚昧和无知发起了挑战”?(2 分)

(2)材料二中,文艺复兴运动“创造了远比千年中世纪更多、更绚丽多彩的成就”,请举两例代表人物及其代表作予以说明。文艺复兴运动有什么历史意义?(7分)

(3)材料三中,1500年前后发生了什么大事?根据材料三概括说明“1500年是人类历史上的一个重要转折点”的依据。(4分)

(4)根据材料四并结合所学知识分析,为什么欧洲人认为“哥伦布是一个有功之臣”? (2分)

33. (15分)国家和民族的进步与强大离不开创新,人类的发展也离不开创新。阅读材料,回答问题:

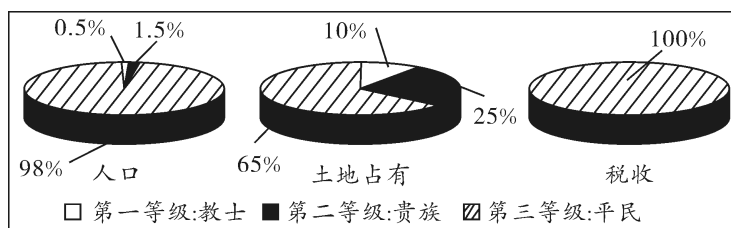
**材料一** 英国革命的最大成果,也是它在现代民主政治创制试验方面的最大成就,是创造了一种全新的政体——立宪君主制……新体制通过大幅度提高议会的权威实现了对王权的有效限制……这就为未来国家民主化的发展打下了一个坚实的基础。

——摘编自马克垚主编《世界文明史》(上)

**材料二** 1781年,约克镇大溃英军的捷报传来,国库竟然穷窘到连支付递报佳音的信差费用都捉襟见肘。与会诸公只好各自掏腰包,每人拿出一块钱才应付过去。弗吉尼亚不得不承认自己没有能力将支配权延伸到肯塔基一带,……华盛顿将军大为愤慨:一个刚从一场艰苦战争中获胜的国家,竟然无法在和平时期维持秩序。

——摘编自(美)凯瑟琳·德林克·鲍恩《民主的奇迹》

**材料三** 法国的三个等级情况



**材料四** 1789年7月14日,巴黎人民攻占了象征法国封建专制暴政的巴士底狱,法国大革命开始了。此后,很多地方的农民也效仿巴黎,摧毁了各地的监狱,焚毁了贵族的城堡。全国性的人民起义从根本上动摇了法国旧制度在城乡的统治。随着革命形势的发展,在人民的推动下,国王路易十六、罗伯斯庇尔先后被送上了断头台。

**材料五** 法国大革命开始后,制宪议会通过了多项法令,废除了种种贵族特权和封建地租,还通过了以启蒙思想为基础的《人权宣言》,这成为大革命的纲领性文件,被誉为“新制度的诞生证书”。1791年,制宪议会制定了宪法,废除了旧制度,确立了新制度的基本框架。

(1)根据材料一,英国革命创造的全新政体是什么?在这种政体下,通过什么途径“实现了对王权的有效限制”?这一政体的确立有何积极作用?(5分)

(2)根据材料二概括美国面临的困境,并结合所学知识指出1787年宪法是如何解决这一困境的?谈谈这部宪法的重要意义。(5分)

(3)根据材料三,概括法国当时存在的社会问题。(2分)

(4)根据材料四和材料五,结合史实说明法国第三等级在大革命中的贡献。(3分)