

2020~2021 学年







九年 级 结 课 考 试  
历史试卷

总 分	核分人

本试卷分卷 I 和卷 II 两部分。卷 I 为选择题,卷 II 为非选择题。  
本试卷共 6 页。总分 100 分,考试时间 90 分钟。

题号	选择题	非选择题			
		21	22	23	24
得分					

卷 I (选择题) 答题框

- 涂卡注意事项: 1. 使用考试专用扁头 2B 涂卡铅笔填涂,或将普通 2B 铅笔削成扁鸭嘴状填涂。  
2. 涂卡时,将答题纸直接置于平整的桌面上,或将答题纸置于硬质垫板上填涂。一定不能将答题纸置于软垫或纸张上填涂。  
3. 修改时用橡皮擦干净后,重新填涂所选项。  
4. 填涂的正确方法:  错误方法:     

1 [A] [B] [C] [D]	6 [A] [B] [C] [D]	11 [A] [B] [C] [D]	16 [A] [B] [C] [D]
2 [A] [B] [C] [D]	7 [A] [B] [C] [D]	12 [A] [B] [C] [D]	17 [A] [B] [C] [D]
3 [A] [B] [C] [D]	8 [A] [B] [C] [D]	13 [A] [B] [C] [D]	18 [A] [B] [C] [D]
4 [A] [B] [C] [D]	9 [A] [B] [C] [D]	14 [A] [B] [C] [D]	19 [A] [B] [C] [D]
5 [A] [B] [C] [D]	10 [A] [B] [C] [D]	15 [A] [B] [C] [D]	20 [A] [B] [C] [D]

卷 I (选择题,共 40 分)

- 注意事项: 1. 仔细审题,工整作答,保持卷面整洁。  
2. 考生完成试卷后,务必从头到尾认真检查一遍。

得 分	评卷人

选择题。(本题 20 题,每小题 2 分,共 40 分。在每小题给出的四个选项中,只有一项是最符合题目要求的)

1. 马克思指出:“在 16 世纪和 17 世纪,由于地理上的发现而在商业上发生的并迅速促进了商人资本发展的大革命,是促使封建生产方式向资本主义生产方式过渡的一个主要因素。”此话反映了新航路的开辟( )  
A. 促进了资本主义发展  
B. 引起了欧洲商业革命  
C. 增强了世界经济联系  
D. 阻碍了工业革命产生
2. 据相关史料记载,“1492 年 12 月,哥伦布首航美洲发现了伊斯帕尼奥拉岛(即海地岛)。当时岛上的印第安人约为 25 万人,到了 1550 年,只剩下约 150 人。”这段史料反映的历史事件是( )  
A. 西欧经济的发展  
B. 文艺复兴运动  
C. 早期殖民掠夺  
D. 拉美独立运动

市、区、乡

学 校

班 级

姓 名

考 场

考 号

座位号

条形码粘贴处

3. “这一事件本身并没有什么实际作用,不过,它摧毁了平民心目中压迫的象征,掀开了轰轰烈烈的法国大革命的序幕。”该事件是( )
- A. 诛杀路易十六  
B. 建立法兰西第一帝国  
C. 攻占巴士底监狱  
D. 击退欧洲反法联军
4. 斯塔夫里阿诺斯在《全球通史》中说:“从世界史的观点看,美国革命之所以重要,并不是因为它创造了一个独立的国家,而是因为它创造了一个新的、不同类型的国家。”作者充分肯定了美国革命( )
- A. 赢得了民族独立  
B. 建立了联邦制民主  
C. 维护了国家统一  
D. 建立了君主立宪制
5. 在《共产党宣言》的科学理论指导下,国际共产主义运动蓬勃发展,全世界无产阶级和被压迫民族的解放事业不断取得新的胜利。下列对《共产党宣言》的表述,不正确的是( )
- A. 《共产党宣言》的发表标志着马克思主义的诞生  
B. 为无产阶级革命提供了指导思想  
C. 肯定了资产阶级在历史上曾起到非常革命的作用  
D. 是指导民族解放斗争的科学理论
6. 下列人物是不同时期涌现出的英雄人物。其中领导本国人民反抗殖民统治者的是( )



①林肯



②彼得一世

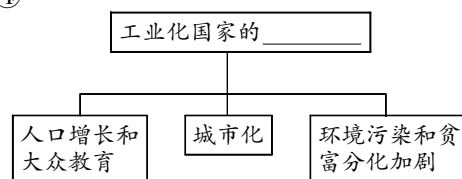


③章西女王



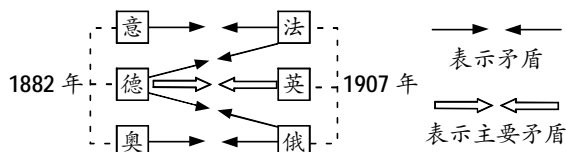
④玻利瓦尔

- A. ①②  
B. ③④  
C. ②③  
D. ①④
7. 科技创新改变了人们的生活和世界的面貌。在电的应用方面作出突出贡献的人物是( )
- ①本茨 ②法拉第 ③爱迪生 ④莱特兄弟
- A. ①④  
B. ②③  
C. ②④  
D. ③④
8. 构建示意图是历史学习的重要方法。右图为某同学设计的示意图,其中横线处应填写的是( )



8 题图

- A. 经济发展  
B. 科技创新  
C. 社会变化  
D. 政治制度
9. 战争是政治的延续,当国家间的矛盾无法用和平方式解决时,战争就会爆发。下面示意图反映的是( )



9 题图

- A. 第二次世界大战的过程  
B. 凡尔赛体系下蕴含的矛盾  
C. 殖民地人民的反抗斗争  
D. 第一次世界大战的背景
10. 下列各项中不属于俄国十月革命特点的是( )
- A. 采用暴力手段夺取政权  
B. 走城市革命的道路  
C. 人类历史上第一个胜利的社会主义革命  
D. 推翻了沙皇专制统治

11.戴维·辛克在评论 1919 年巴黎和会时说:“世界的命运掌握在他们手中,但他们却没有担当此重任的胸怀。”这里所说的“他们”是指( )

A. 德国、意大利、法国 B. 美国、德国、日本 C. 英国、美国、日本 D. 英国、法国、美国

12.某学习小组正在做“凡尔赛—华盛顿体系”的专题探究。下面可以参考的资料有( )

①《协约及参战各国对德和约》 ②联合国的成立 ③雅尔塔会议 ④《九国公约》

A. ①② B. ③④ C. ①④ D. ②④

13.在俄罗斯长篇小说《切温古尔》中有这样一段话:“令人费解的是,(红军来了)分了土地,却又把每一粒粮食收走了。你倒是自己去尝尝这样的滋味吧!”为改变这种情况,苏俄开始实施( )

A. 土地改革政策 B. 新经济政策  
C. 战时共产主义政策 D. 社会主义工业化

14.1932 年,罗斯福一上台就向国会要求准许他使用对付危机的大权,即“对紧急状态作战的广泛的行政权力,像我们真正遭受外敌侵略时所赋予我的权力一样大”。材料中“广泛的行政权力”是指( )

A. 采用国家干预经济的手段 B. 高度集中的政治经济体制  
C. 以军部为核心的势力上台组阁 D. 马歇尔计划

15.20 世纪二三十年代法西斯国家侵略扩张的史实中,与德国法西斯上台有直接关联的是( )

A. 希特勒出任国家总理 B. 墨索里尼进军罗马  
C. 纳粹残酷屠杀犹太人 D. 日军制造九一八事变

16.阅读地图获取有效信息,是历史学习的重要能力。从右图可以获取的历史信息是( )

A. 世界反法西斯同盟成立  
B. 欧洲冷战对峙的局面基本形成  
C. 美苏两极格局正式形成  
D. 欧洲政治经济一体化已经开始



16 题图

17.1971 年,美国总统尼克松说:“在经济领导的问题上,他们在全世界同我们竞争得非常激烈……同二战结束的时候相比,美国遇到了前所未有的挑战。”材料中的“挑战”是指( )

A. 苏联在军事领域的竞争 B. 亚非拉国家的快速发展  
C. 西欧和日本的崛起 D. 区域组织大量的出现

18.1960 年,联合国接纳的 17 个新会员国中有 16 个是非洲新独立的国家。至此,联合国成员国由 1945 年成立时的 51 个,增加到 99 个。与联合国成员国这一变化有关的是( )

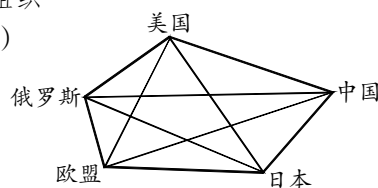
A. 非洲年民族独立运动 B. 东欧剧变  
C. 拉美独立运动 D. 苏联解体

19.下列国际组织中,为了促进全球贸易和经济发展而于 1995 年成立的,被誉为“经济领域的联合国”的是( )

A. 国际联盟 B. 欧洲共同体  
C. 上海合作组织 D. 世界贸易组织

20.构图能够形象地反映历史。右图反映的当今世界趋势是( )

A. 经济全球化  
B. 和平与发展  
C. 对抗与冲突  
D. 政治多级化



20 题图

卷Ⅱ(非选择题,共 60 分)

得 分	评卷人

21.阅读材料,回答问题。(12 分)

材料一:14 世纪一场重视继承古代文化遗产,追求个人精神自由的思想解放运动到来了。自然科学和文化艺术相继取得了璀璨而辉煌的成就,群星闪烁,灿若霓虹。

——摘编自《图说天下,世界历史系列》

材料二:17-18 世纪,欧美国家开展了一场资产阶级反封建、反教会的思想文化运动。进步的思想家们著书立说,宣传自由、平等和民主,提倡对民众进行启蒙教育,用理性之光驱散愚昧的黑暗。

——摘编自《世界史》

(1) 材料一反映的是哪场运动?(2 分) 结合所学知识,指出该运动的核心思想。(2 分) 并列举这场运动中一位美术方面的代表人物。(2 分)

(2) 材料二中的思想文化运动指的是什么?(2 分) 并结合所学知识,说说这场运动对法国大革命的影响。(4 分)

得 分	评卷人

22.阅读材料和图片,回答问题。(16 分)

材料一:英国拥有很多的、不断扩大的市场,英国还拥有更多的、可做工业革命资金用的流动资本……由于行会较早瓦解,由于对传统的条块农田的圈占,英国获得了充裕的流动劳动力。

——斯塔夫里阿诺斯《全球通史》

材料二:1800-1870 年英国煤产量(单位:万吨)。

年代	1800 年	1820 年	1830 年	1850 年	1860 年	1870 年
产量	1100	1740	2400	4940	8000	11000

材料三:工业革命中的部分发明。



火车机车



轮船

(1) 据材料一并结合所学知识,指出英国能率先开展工业革命的有利条件。(6分) 工业革命开始的标志是什么?(2分)

(2) 材料二反映的趋势是什么?(2分) 英国工业革命期间,在动力方面的哪一项重大技术进步显著地促进了这一趋势的出现?(2分)

(3) 材料三的发明直接促进了哪个行业的飞速发展?(2分) 给人们的生活带来了什么变化?(2分)

得 分	评卷人

23. 阅读材料和图片,回答问题。(18分)

材料一:资产阶级和新贵族都迫切要求发展资本主义。然而,英国斯图亚特王朝反动的封建专制统治严重阻碍着资本主义的发展。

18世纪以后,英属北美殖民地的资本主义经济发展起来,英国采取高压政策,阻碍北美经济的发展,力图使北美成为英国工业的原料产地和商品市场。由此,激起了北美殖民地人民的反抗。

18世纪末,法国腐朽的封建专制制度严重阻碍着资本主义的发展,引发了轰轰烈烈的资产阶级革命。

——《世界近代史》

材料二:1853-1854年,美国海军舰队两次强行进入日本。在西方资本主义入侵下的日本,面临沦为半殖民地的危险。

——《世界近代史》

材料三:读图。



贵族宣读“解放”农奴的法令



美国“奴隶制的扩张”

(1) 据材料一,概括 17、18 世纪欧美地区阻碍资本主义发展的因素。(2分) 为消除这些阻碍因素,英、美、法三国都颁布了哪些重要文献?(3分) 这些文献的共同作用是什么?(2分)

(2) 据材料二并结合所学知识,指出日本为摆脱“沦为半殖民地危险”采取的政策及其具体内容。(5 分)

(3) 据材料三并结合所学知识,指出 19 世纪 60 年代俄国和美国工业经济发展面临的共同障碍及其解决途径。(6 分)

得 分	评卷人

24.阅读材料,回答问题。(14 分)

材料一:“俄国面临灾难,我们将尽力给俄国和俄国人民提供一切援助……俄国人民为保卫家园而战的事业就是世界各地自由人民和自由民族的事业。”

——丘吉尔在 1941 年 6 月 22 日的广播讲话

材料二:1947 年 3 月,杜鲁门在国会发表演说。在演说中,他把世界分为“自由国家”和“极权政体”两个对立的营垒,宣称美国将领导和帮助所有选择“自由制度”、抵抗极权统治的力量。

——美国总统杜鲁门在国会的演讲

材料三:20 世纪 60 年代以后,东欧社会主义国家在政治、经济上都出现严重问题。20 世纪 80 年代末,东欧各国开始实行政治多元化,全盘否定自身历史。此后,东欧政局剧烈动荡。1991 年苏联解体。

(1) 材料一中“俄国的灾难”是指什么事件?(2 分) 结合所学知识,指出为了“世界各地自由人民和自由民族的事业”苏英两国做出的共同努力。(4 分)

(2) 据材料二及所学知识,指出杜鲁门在国会演讲中提出的政策及其影响。(5 分)

(3) 据所学知识,指出材料三中东欧剧变和苏联解体的外部因素。(3 分)