

林西县 2020—2021 学年第一学期期末质量监测

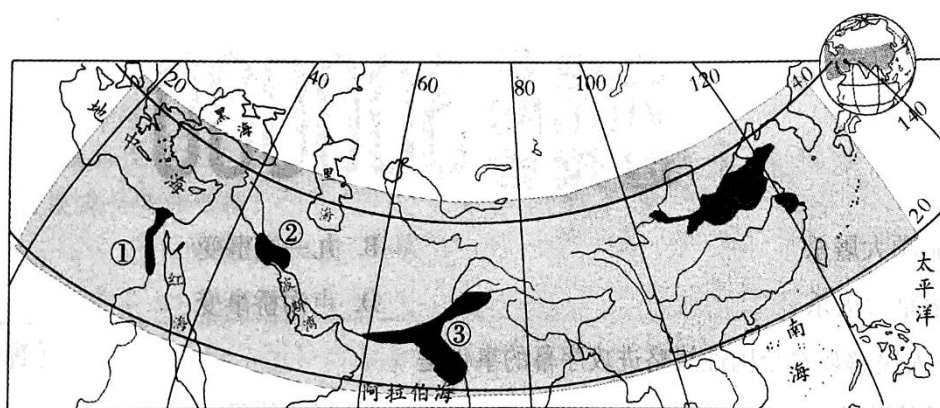
九年级历史试卷

一. 选择题（本大题共 25 题，每题 2 分，共 50 分。每小题给出的选项中只有一项符合题意，请将符合题意的选项序号，在答题卡的对应位置上按要求涂黑。）

1. 某旅行社为配合中学生研学旅行，制作了下面的旅行广告，其中符合历史事实的一句广告词是

- A. 沿尼罗河而行，了解象形文字，领略胡夫金字塔的壮美
- B. 在两河流域驻足，了解种姓制度，欣赏古巴比伦城遗址
- C. 在恒河南岸观光，了解楔形文字，感受古代印度的风采
- D. 参观罗马历史博物馆，看汉谟拉比石柱，感叹海洋文明的魅力

2. 以下是一幅关于公元前 2500 年左右的亚非文明地图，其中,制定了迄今已知世界上第一部较为系统和完整成文法典的国家位于



- A. ①
- B. ②
- C. ③
- D. ④

3. 公元前 427 年，希腊小邦密提林背叛了雅典，投靠斯巴达。雅典民情激愤，公民大会迅速作出决议，将密提林成年男子全部处死，妇女儿童罚作奴隶。第二天，民众情绪趋于平静，公民大会撤销了原决议。据此可知，在古代

- A. 希腊小邦缺乏政治自主权
- B. 公民决定雅典城邦重大决策
- C. 大邦争霸阻碍了希腊统一
- D. 雅典公民大会有时违背民意

4. 西方古典作品《阿提卡之夜》记载，“一个审判官或仲裁官，受命于出庭辩论时审讯案件，而他们被揭穿在这个案件中接受金钱贿赂”。依据《十二铜表法》第九表第三条应

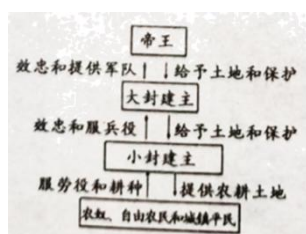
被处以死刑。由此判断，制定这一法律条文的目的是

- A. 强调法律面前人人平等
- B. 充分保护平民权益
- C. 确保私有财产不受侵犯
- D. 限制贵族滥用权力

5. “我的附庸的附庸不是我的附庸”形象反映了西欧封建等级制度。能正确反映此关系的示意图是



A



B



C



D

6. “比较”是历史学习和研究的一种重要方法。日本大化改新与 8 世纪前期的法兰克王国改革相比较，其共同之处在于

- A. 都是把土地分给农民耕种
- B. 都是建立中央集权制国家
- C. 都是实行有条件的土地分封
- D. 都是自上而下的封建改革

7. 西方研究瘟疫的权威专家汉斯·芬塞说：罗马帝国以强大的控制力向其他地区扩张，把整个世界纳入罗马帝国之中的计划，一次又一次地被唯一更强大的力量——瘟疫所中断。这说明瘟疫

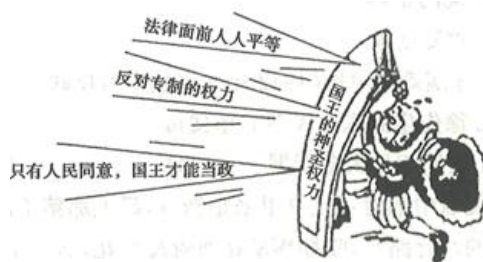
- A. 导致了罗马帝国的灭亡
- B. 引发了普遍的信仰危机
- C. 冲击了罗马法律的权威
- D. 影响了帝国的发展走向

8. 1588 年，战胜西班牙“无敌舰队”，成为海上霸主。从 17 世纪下半叶开始，凭借强大的实力战胜了荷兰和法国，在世界各地夺取了大片殖民地，自诩为“日不落帝国”。这里的“日不落帝国”是指

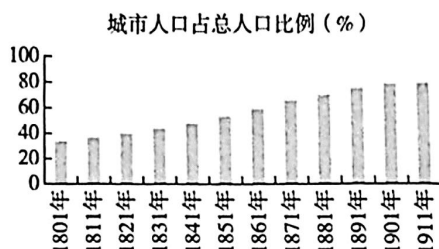
- A. 葡萄牙
- B. 美国
- C. 西班牙
- D. 英国

9. 下面漫画创作于英国资产阶级革命时期，表明英国国王的权力受到了约束。这一约束的法律依据是

- A. 《权利法案》
- B. 1787 年宪法
- C. 《人权宣言》
- D. 《民法典》



10. 下图显示的是从 1801 年至 1911 年，英国城市人口占总人口比例的变化。产生这一变化的主要原因是



- A. 文艺复兴运动的影响
- B. 海外殖民地的拓展
- C. 两次工业革命的推动
- D. 工人运动的兴起

11. 沙皇亚历山大二世曾说：“我不愿农民过得优厚，但我要防止俄国暴动，我认为我们把农民同土地割裂会点燃俄国，假使要我签字连同土地一起解放农奴，我宁肯把手指砍掉”。上述材料表达的信息不包括

- A. 改革的目的
- B. 沙皇的矛盾心理
- C. 改革可能会不彻底
- D. 促进了资本主义发展

12. 1966 年，联合国大会宣布 3 月 21 日为消除种族歧视国际日，并号召国际社会加倍努力消除各种形式的种族歧视。然而美国当地时间 2020 年 5 月 25 日，美国黑人被白人警察跪亡事件，引发全美多城抗议，“黑人的命也是命”这是美国游行的经典言论。下列体现了种族歧视的历史事件是

- A. 德国派兵进驻莱茵非军事区
- B. 三角贸易
- C. 英国圈地运动
- D. A 萨拉热窝事件

13. 恩格斯在《英国工人阶级现状》中描述：“伦敦特别是伦敦工人区的坏空气，最能助长肺结核的发展。”在伦敦工会 1883 年的报告中，有 1/3 的工人都是死于肺结核。此时肺结核大量发生的主要原因是

- A. 医疗技术水平不断下降
- B. 农业衰退导致食物短缺
- C. 工业革命造成环境恶化
- D. 人口膨胀致使工人贫困

14. 19 世纪中后期面对民族危机，日本进行了明治维新，中国进行了戊戌变法。下列关于二者共同点的表述正确的是

- A. 都使本国摆脱了民族危机
- B. 都走上了资本主义发展道路
- C. 都取得了成功
- D. 都有利于资本主义的发展

15. 恩格斯评价巴尔扎克：“他的伟大的作品是对上流社会必然崩溃的一曲无尽的挽歌。”巴尔扎克代表作是

- A. 《战争与和平》
- B. 《安娜卡列尼娜》
- C. 《复活》
- D. 《人间喜剧》

16. 雨果在《悲惨世界》中写到：“失败反把失败者变得更崇高了，倒了的波拿巴（拿破仑）仿佛比立着的拿破仑还要高大些……他在疏失中仍是庄严的，在污点中仍是卓越的，在罪恶中也还是雄才大略的。”对于这段材料的理解最准确的是

- A. 拿破仑的对外战争都是正义的，不容置疑
- B. 雨果站在欧洲封建统治者的立场上评价拿破仑
- C. 雨果的评价肯定了拿破仑的历史功绩
- D. 对外战争最后的失败让拿破仑彻底被否定

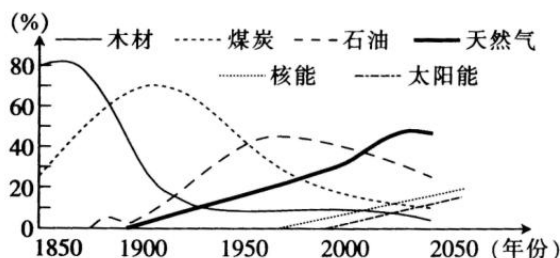
17. 学习历史，必须分清历史事实（史实）、历史解释、历史观点等。下列各项中，属于历史观点的是

- A. 1689 年，英国议会通过了《权利法案》
- B. 独立战争中，华盛顿领导大陆军赢得国家独立
- C. 法国大革命是一次波澜起伏的资产阶级民主革命
- D. 1804 年，拿破仑加冕称帝，建立法兰西第一帝国，颁布《法典》

18. 据统计，1861 年后的 30 年间，俄国的粮食产量增加了三分之二。在此期间，农村社会分化加剧、一部分农民成为高农，更多的农民却更加贫困，不得不依靠出卖劳动力为生。富农购买了越来越多的土地，雇佣贫雇农，用新式农具，经营资本主义农业。材料反映了

- A. 彼得一世改革开启了俄国的近代化
- B. 农奴制改革促进了俄国资本主义发展
- C. 俄国发展成为资本主义强国
- D. 农奴制改革导致了俄国走向衰落

19. 如图是世界主要能源消费构成比例示意图。其中，直接导致煤炭在世界能源消费构成中比重下降、石油比重上升的科技成果是



- A. 蒸汽机的改进 B. 发电机的发明
C. 内燃机的发明 D. 电子计算机的发明

20. 右侧漫画原图发表于 1912 年，桶上英文意为“巴尔干麻烦”，桶盖将被蒸汽顶起，上面的人物代表英、法、德、奥匈、沙俄等国。漫画可以说明



沸点
(依原图改绘)

- A. 第一次世界大战的背景 B. 凡尔登战役的空前惨烈
C. 欧洲的优势地位被削弱 D. 巴黎和会上的勾心斗角

21. “此役是典型的阵地战、消耗战，双方伤亡近七十多万人。由于伤亡惨重，战场被称为‘绞肉机’、‘屠场’和‘地狱’。”材料中的“此役”是指

- A. 凡尔登战役
B. 索姆河战役
C. 斯大林格勒战役
D. 诺曼底登陆

22. 1919 年在一次国际会议上，中国政府代表顾维钧愤怒的说：“日本在全世界面前偷了整个山东省……中国不能失去山东就像西方不能失去耶路撒冷一样。”这次“国际会议”是指

- A. 华盛顿会议 B. 巴黎和会 C. 开罗会议 D. 雅尔塔会议

23. 1919 年英国首相劳合·乔治在《枫丹白露备忘录》中写道：“历史证明，一项作为外交技巧和政治家手腕的成就而受到胜利者欢呼的和约……对胜利者来说，也是充满危险的。”这一“和约”指的就是

- A. 《开罗宣言》 B. 《凡尔赛条约》 C. 《九国公约》 D. 《波茨坦公告》

24. 辨识历史事实和历史解释是历史学习的基本要求。下列关于一战的叙述属于历史解释的是

- A. 十月革命爆发后俄国退出了一战 B. 一战中先后参战的国家达到 30 多个
C. 一战从根本上动摇了欧洲的优势地位 D. 一战中使用了坦克和潜艇等新式武器

25. 下图为国际社会主义运动整体发展趋势示意图，其中③处对应的历史事件是

- A. 英国的宪章运动
B. 《共产党宣言》发表
C. 法国的巴黎公社
D. 俄国十月革命



二、非选择题（请将正确答案按要求写在答题卡对应位置上。本题共 44 分，3 个小题）

26. (12 分) 阅读材料, 回答问题。

古代中国和古代罗马相距遥远，然而两者的历史发展可做一些比较。

历史时期	古代中国	古代罗马
①公元前 5 世纪～前 4 世纪	秦国商鞅变法(前 356 年)	罗马制定《十二铜表法》(前 451 年)
②公元前 3 世纪	秦始皇统一中国(前 221 年)	罗马统一意大利(前 270 年左右)
③公元前 2 世纪～公元 2 世纪	西汉、东汉王朝强盛时期(前 202 年～公元 184 年)	罗马强盛时期(前 201 年～公元 192 年)
④公元 3 世纪	汉末混乱、三国鼎立(184～280 年) 西晋统一王朝(280～316 年)	罗马“三世纪危”(192～284 年)罗马帝国中兴(284～336 年)
⑤公元 4 世纪	北方少数民族南下中原 东晋南迁(317～420 年) 北方十六国时期(308～439 年)	罗马帝国首都东迁(330 年) 日耳曼人入侵(375 年起) 罗马帝国东西分裂(395 年)
⑥公元 5～6 世纪	南北朝对峙(420～589 年) 隋朝再次统一中国(58 年)	西罗马帝国灭亡(476 年) 欧洲日耳曼人小国林立

——吴于廑、齐世荣主编《世界史》，白寿彝主编《中国通史》

(1)依据材料概括①至⑤各个时期古代中国和古代罗马的历史特征。(至少答出2点4分)

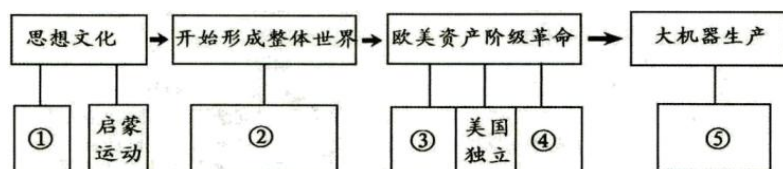
(2)比较①至⑤时期两国历史发展的特征其历史轨迹及变化节奏,你有哪些发现?在此基础上,你有何进一步的认识?(4分)

(3)第⑥时期中国和欧洲的历史走向有何不同？试从制度层面分析中国出现这一走向的主要原因。(4分)

27. (16分) 阅读信息，完成相关问题。

思想、制度、器物的变革是西方近代社会的主旋律。14世纪——20世纪初，是世界各国向近代化迈进的时期，那也是一个群星璀璨、风起云涌的时期。

信息一：某同学所做的14—19世纪上半期西方世界所发生的重大历史事件及有关西方近代化历程的示意图



信息二：如果把1688年前后的历史变化联系起来看，谁也无法否认它是英国政治制度史上的一次以政变为形式的革命，而且视野拉的越长，其革命性就越明显。

信息三：在美国首都华盛顿，林肯纪念堂和华盛顿纪念碑遥遥相望。有人说，是华盛顿创立了美国，是林肯拯救了美国。

——《大国崛起》解说词

信息四：明治维新后，日本推行了一系列发展工业的措施。政府直接从西方拿来了法国式的缫丝厂、德国式的矿山冶炼厂、英国式的军工厂。除了购买机械，政府还聘请了大量国外技师。1870年12月成立的工部省首先接管了幕府和各藩国经营的矿山和工厂，创办了官营企业。

(1)根据信息一请你写出①和②的历史事件的共同作用是什么？③和④两个事件的共同障碍是什么？⑤的核心是什么？(6分)

(2)信息二中“一次以政变为形式的革命”后，英国所颁布的法律文献的意义如何？(2分)

(3)根据信息三林肯为拯救美国所做的最大贡献是什么？(2分)

(4)指出信息四体现了明治维新的哪一口号？(2分)

(5)综合上述四则信息，指出以上国家的崛起对中国发展有何借鉴？(4分)

28. (14分) 科技改变了生活，科技也改变了世界的面貌。阅读材料，完成下列要求。

材料一 ……机器生产代替手工操作，不但实现了人类生产技术史上的一次巨大飞跃，而且标志着人类社会开始由传统的农业文明时代跨入工业文明时代。

——摘自华东师大版《世界历史》

材料二 第一次世界大战以同盟国的失败而告终。但是，交战双方都付出了惨重的代价，

蒙受了巨大的损失。面对战争的惨痛后果，战胜国的胜利失去了意义。第一次世界大战是场没有胜利者的战争。

——摘编自《20 世纪的战争与和平》

材料三 作为人类文明进步的标志“科技”，对第一次世界大战起到了十分关键的作用，让我们回顾一下在第一次世界大战中首次使用，或者得到快速发展的武器。

①1916 年生产了“马克”Ⅰ型坦克，有 60 辆“马克”Ⅰ型坦克首次投入索姆河战役。

②第一次世界大战爆发后，飞机先是用于侦察，继而用于空中格斗，后来又用于轰炸敌方的地面阵地。③第一次世界大战一开始，潜艇就被用于战斗。

——《揭秘第一次世界大战的新式武器》

材料四 在这里，文明创造了自己的奇迹，而文明人则几乎又变成了野蛮人……从这条污浊的排水管中，排出人类工业的最大一股潮流去滋润全世界；从这条肮脏的下水道中，流淌出纯金。在这里，人类的发展成就既是最完备的，又是最野蛮的。

——（英）阿萨·勃里格斯《英国社会史》

（1）材料一中哪一发明成果的推广使用实现了“机器生产代替手工操作”？“跨入工业文明时代”的生产组织形式是什么？（4 分）

（2）据材料二并结合所学知识答出“第一次世界大战是一场没有胜利者的战争”的依据是什么？一战后，建立了怎样的国际新秩序？（4 分）

（3）材料三中的新式武器得益于哪一次重大革命？这次革命有什么特点？（4 分）

（4）据材料四分析，为什么作者认为“在这里，文明创造了自己的奇迹，而文明人则几乎又变成了野蛮人”？（2 分）

29.（8 分）阅读材料，完成下列要求。

1648 年和 1789 年革命，并不是英国的革命和法国的革命，而是欧洲的革命。他们不是社会中某一阶级对旧政治制度的胜利；它们宣告了欧洲新社会的政治制度。……资产阶级所有制对封建所有制的胜利……这两次革命不仅反映了发生革命的地区即英法两国的要求，而且在更大程度上反映了当时整个世界的要求

——摘编自德国马克思《资产阶级和反革命》

（1）材料中的革命分别指的是什么？（2 分）

（2）阅读以上材料，围绕其主题提炼一个观点，并结合材料和世界近代史知识加以论述。

（（6 分，要求：观点明确，史论结合，条理清楚）