

2020—2021 学年度第一学期期末测试九年级

历史试题

一、单项选择题（本大题共有 25 小题，每题 2 分，共 50 分。请将答案按要求涂在答题卡上）

1. 历史图片是我们获取历史信息的重要途径之一。下列图片反映的是哪个古国的文明成就（ ）



象形文字



狮身人面像



金字塔



石雕人物像

- A. 古代埃及 B. 古代印度 C. 古代希腊 D. 古代中国

2. 关于世界三大宗教的描述，正确的是（ ）

①世界三大宗教都诞生于亚洲 ②最先传入我国的是佛教 ③目前国际通用的历法与伊斯兰教有关 ④三大宗教都宣扬忍耐顺从

- A. ①②③ B. ①②④ C. ②③④ D. ①③④

3. 著名学者刘景华在《人类六千年》中写道：“由于层层封受土地，9 世纪至 10 世纪的西欧便形成了一种金字塔式的封建等级关系。”下列构成“金字塔式的封建等级关系”的是（ ）

- A. 庄园与法庭 B. 教会与大学中学历史教学园地版权所有
C. 封君与封臣 D. 富农与市民

4. 从早期人类的出现到 15 世纪末期，人类社会大体经历了原始社会、奴隶社会和封建社会。下列历史事件中属于封建社会的是（ ）

- A. 释迦牟尼创立佛教 B. 亚历山大东征 C. 大和正式改称日本国 D. 斯巴达克起义

5. 中世纪晚期，欧洲社会处于转型时期，生产组织逐渐资本主义化，出现雇佣与被雇佣的生产关系。这一现象主要表现在（ ）

- A. 庄园经济和现代工厂制的形成 B. 租地农场和手工工场的产生
C. 种植园经济和工业革命的扩展 D. 工业化和农业集体化的实行

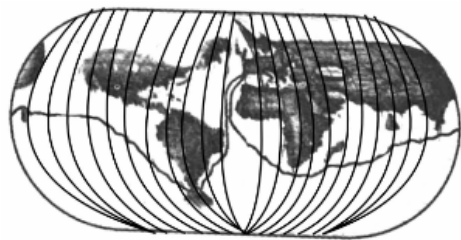
6. 上课记笔记是种良好的学习习惯。下图是小明同学的学习笔记，据此推断空白处内容应为（ ）

- A. 但丁、达·芬奇、彼特拉克
B. 但丁、达·芬奇、巴尔扎克
C. 伏尔泰、达·芬奇、莎士比亚
D. 但丁、孟德斯鸠、莎士比亚

7. 右侧是绘制于 1543 年的地球平面球形图，图中的航线是（ ）

- A. 达·伽马到达印度
B. 哥伦布首次到达美洲
C. 麦哲伦船队环球航行
D. “三角贸易”路线

时间：14-16 世纪
地点：意大利
核心思想：人文主义
代表人物：（ ）



8. 据统计，在 16 世纪的前 25 年中，有 12000 名奴隶被贩运，在之后的 25 年中这一数字达到了 40000 人，在 1550 年至 1575 年间更是超过了 60000 人。15-19 世纪的近 400 年间，黑奴贸易使非洲丧失了上亿的人口。这反映了奴隶贸易（ ）

- A. 加速了西欧的资本原始积累 B. 给非洲人民带来了深重灾难
C. 推动了世界市场的最终形成 D. 把欧洲文化传播到了殖民地

9. 目录索引是阅读书籍的方法之一。下列标题最适合合作图示第六单元标题的是（ ）

- A. 步入近代
B. 战后初期的世界
C. 资本主义制度的扩展
D. 资本主义制度的初步建立

第六单元

第 17 课 君主立宪制的英国

第 18 课 美国的独立

第 19 课 法国大革命和拿破仑帝国

10. “每年的 7 月 14 日，法国政府不惜巨资，置办国庆典礼，举行阅兵仪式，发表纪念讲话。白天人们载歌载舞，夜晚欢呼狂欢。可以说，有关法兰西共和国的一切源头，都可以追溯到这里。”法国“置办国庆典礼”是为了纪念（ ）

- A. 巴黎民众攻占巴士底狱 B. 拿破仑击退欧洲反法联盟
C. 巴黎民众处死路易十六 D. 拿破仑建立法兰西第一帝国

11. 1804 年颁布的《法国民法典》规定：“所有法国人都享有民事权利”“交易范围的物品，除特别法禁止出让者外，均可出售”。以上规定体现的原则是（ ）

- A. 议会主权 B. 革命共和 C. 平等自由 D. 权力制衡

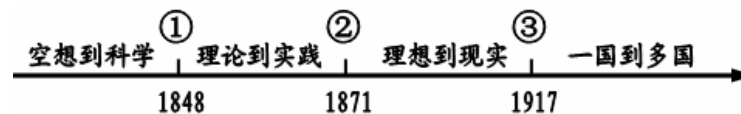
23. 1830 年，英国小女孩弗朗丝·金伯尔兴奋地搭乘了一种新式交通工具。她描述道：“现在我们以它的最高速度每小时 30 英里（48 公里）一出发，它比鸟的飞翔速度还要快。你难以想象切开空气向前奔跑的感觉是怎样的一它的运动也十分平稳。”这种新式交通工具是（ ）

- A. 马车 B. 蒸汽机车 C. 汽车 D. 飞机

13. “当新社会的曙光初露晨曦时，英国却突然跃出地平线，领先走进一种新文明，带动了世界。英国的历史极其诱人，你要想了解现代世界，就应该首先从英国历史开始。”下列史实最能证明英国“领先走进一种新文明”的是（ ）

- A. 现代工厂制度的确立 B. 飞机的诞生
C. 内燃机的发明与应用 D. 计算机的问世

14. 下为国际社会主义运动整体发展趋势示意图，其中①处对应的历史事件是（ ）



- A. 法国巴黎公社 B. 《共产党宣言》发表
C. 第一国际成立 D. 俄国十月革命

15. 在世界近代史上，华盛顿、玻利瓦尔、章西女王是民族解放运动的杰出作表，对他们领导民族解放运动的共同点表述正确的是（ ）

- A. 都领导人民反抗英国殖民者 B. 都领导人民获得了国家的独立
C. 都领导的是正义的反侵略斗争 D. 都领导人民反抗西班牙殖民者

16. 由于国情不同，近代主要资本主义国家走上资本主义道路的方式也各不相同。其中，通过自上而下的改革走上资本主义道路的国家是（ ）

- A. 英国、法国 B. 英国、美国 C. 俄国、日本 D. 日本、美国

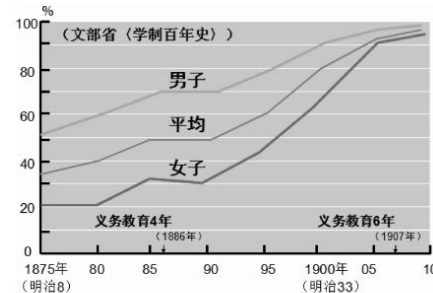
17. 2020年5月，美国警察暴力执法致非裔黑人死亡，再次引起人们对于“种族主义”的谴责。追溯历史，150多年前为解放黑人奴隶作出杰出贡献的美国总统是（ ）

- A. 华盛顿 B. 林肯 C. 罗斯福 D. 尼克松

18. 下列图片信息体现出明治维新时期的哪项主要措施



模仿西方生活方式的东京鹿鸣馆



明治维新时期的教育普及率

- A. 废藩置县 B. 文明开化 C. 地税改革 D. 殖产兴业

19. 1931年1月21日，美国政府为纪念一位伟大发明家的逝世曾下令停电1分钟；1979年，美国政府又花费了几百万美元，举行长达一年之久的纪念活动，来纪念这位伟人的某项发明诞生一百周年。这位伟人是（ ）



- A. 瓦特 B. 本茨 C. 爱迪生 D. 诺贝尔

20. “进化论在科学上的影响是非常巨大和深远的。它解放了人们的思想，牢固地建立了唯物主义观点和历史发展的观点。”要进一步了解“进化论”，可阅读达尔文的著作（ ）

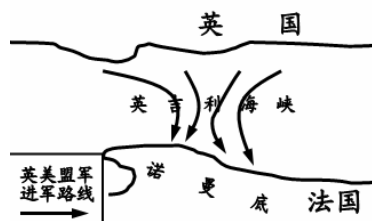
- A. 《神曲》 B. 《战争与和平》
C. 《物种起源》 D. 《自然哲学的数学原理》

21. 19世纪末20世纪初，随着三国同盟与三国协约的形成，国际局势更加动荡不安，争霸各国剑拔弩张，欧洲大陆的上空密布着战争的乌云。这两大集团的核心国家是（ ）

- A. 意大利和法国 B. 日本和美国
C. 奥匈帝国和俄国 D. 德国和英国

22. 右下图所示战役开辟了欧洲第二战场，使德国陷入了东西两个战场的夹击之中，该战役是（ ）

- A. 莫斯科保卫战 B. 斯大林格勒保卫战
C. 诺曼底登陆 D. 攻占柏林



23. 20世纪国际政治舞台曾多次上演“强权即是公理”的不公正一幕。下列会议曾上演“这一幕”的是（ ）

- ①1919年巴黎和会 ②1938年慕尼黑会议 ③1945年雅尔塔会议 ④1955年亚非会议

- A. ①②③ B. ①②④ C. ①③④ D. ②③④

24. 近期我国多地出台了最严限塑令。现代塑料工业自1869年诞生以来，给人类社会带来了极大的便利，但也造成了越来越严重的环境污染，这表明科学技术（ ）

- A. 引发工业革命 B. 造成环境污染 C. 是第一生产力 D. 是一把双刃剑

25. 历史叙述有历史陈述、历史评价等方式。其中，历史评价是指对历史现象和历史事实进行态度与价值的评判表述。下列选项属于历史评价的是（ ）

- A. 1917年，彼得格勒武装起义取得胜利
B. 列夫·托尔斯泰的小说《安娜·卡列尼娜》描绘的主要是德国社会各阶层生活场景
C. 启蒙运动兴起于法国
D. 两次世界大战都是非正义的帝国主义战争

二、非选择题：（26题16分，27题16分，28题18分，共50分）

26. （16分）民主法制是人类重要文明成果。阅读材料，回答问题。

材料一 古希腊的民主政治对人类文明的发展有着重要意义。此外，罗马法作为欧洲历史上第一部比较系统完备的法律体系……它不仅在维系罗马帝国的统治中发挥了重要的作用，而且也对近现代西方国家的司法与立法产生了深远的影响。

——摘编自吴明华《古代希腊罗马政治制度对近现代西方的影响》

（1）“古希腊的民主政治”在谁主政时期发展到了高峰？罗马法制建设的第一步是颁布了哪部法律？根据材料概括指出古希腊民主政治和罗马法对后世的影响。（4分）

材料二 在世界近代史上，英国政治制度史具有鲜明的典型性：最早建立君主立宪制，最早实行资产阶级的议会制、内阁制、两党制……这些制度有效地保证了英国剥削阶级的统治地位，并为其他许多资本主义国家所仿效。一位美国党政学家不无夸大地写道“拿持久性、缺乏剧烈骚动、法律和秩序的维持力以及对其他国军政治思想和制度的影响程度来说，英国政府是世界上阁所来闻的最出色的一个”。

——阎照祥《论英国近代政治制度发展的渐进性和多元性》

（2）英国以哪部法律文献为基础确立了君主立宪制？根据材料概括英国政治制度的历史意义。（3分）

材料三 美国的民主实践是一种崭新的尝试。作为英国的殖民地，美国通过革命和协商的方式，形成了一种新型的民主政体——总统制。与英国的议会制相比，美国不仅根除了“君主”“王权”的存在土壤，开启了国家元首的选举模式。而且还确立了“三权分立”的基本原则。经过长时间的磨合，特别是经历了两次世界大战后，美国凭借强大的军事和经济优势。使其民主形式看上去更加耀眼，其影响力已经远远超过此前的英国。

——摘编自孙瑛辉《论民主的多样性及其科学把握》

（3）材料中的“革命”具体指的是什么？根据材料概括指出美国的民主实践“新”在何处。（3分）

材料四 下面是李华同学整理的“新中国法制建设”的学习笔记

学习笔记

•1949年

中国人民政治协商会议第一届全体会议通过《共同纲领》。

•1954年

第一届全国人大制订了《中华人民共和国宪法》，这是我国第一部社会主义类型的宪法。

•1982年

颁布《中华人民共和国宪法》，这是新时期一部比较完善的宪法。

•1986年

颁布《中华人民共和国民法通则》。此后，又通过了《义务教育法》，《劳动和社会保障法》、《环境保护法》等一系列法律。

•2020年

第十三届全国人大三次会议表决通过了《中华人民共和国民法典》，这是新中国第一部以法典命名的法律，开创了我国法典编纂立法的先河，具有里程碑意义。

(4) 根据材料四并结合所学知识，说一说新中国在法制建设方面有哪些重要举措？我国第一部社会主义类型的宪法是在哪一次重要会议上颁布的？我国的法治建设历程说明了什么？（4分）

(5) 结合以上四则材料，谈谈你对民主法制的认识。（2分）

27. 随着人类活动范围的逐步扩展，彼此之间的交流日趋复杂与多样，世界逐渐形成一个整体。人类必须共同担当，同舟共济，共促全球的和平发展。（16分）

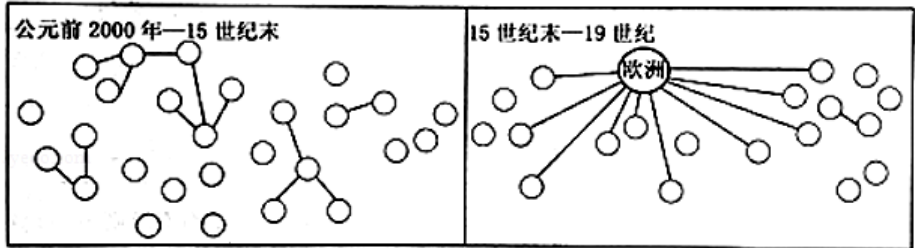
材料一

新石器时代，农业取得了决定性进展，随即产生了金属制造和其他各种技术……并向四周扩散，从而发展了欧亚大陆诸伟大的文明，包括中国文明、印度文明、中东文明和欧洲文明。

——[美] 斯塔夫理阿诺斯《全球通史》

(1)“欧亚大陆诸伟大的文明”中，以和平交流的方式担当了沟通东西方文化角色的是什么人？说出能体现他们民族文化的宗教。材料右侧内容是他们为世界文化的独特贡献，请写出该贡献的名称。（3分）

材料二 全球棉花贸易市场的空间变化



注：图中○代表棉花生产、消费中心

(2) 根据材料二，概括全球棉花贸易市场的空间变化，并指出 15 世纪末产生这种变化的主要原因。（3分）

材料三 第二次世界大战基本情况简表

战场	开始时间	开始标志	结束时间
中国战场	1931 年 9 月 18 日	日本发动九一八事变	1945 年 9 月 2 日
欧洲战场	1939 年 9 月 1 日	德国突袭波兰	1945 年 5 月 8 日
苏德战场	1941 年 6 月 22	德国入侵苏联	1945 年 5 月 8 日
太平洋战场	1941 年 12 月 7 日	日本偷袭珍珠港	1945 年 9 月 2 日
苏联对日作战	1945 年 8 月 8 日	苏军出兵中国东北	1945 年 9 月 2 日

(3) 根据材料三和所学知识概括第二次世界大战的特点，并分析第二次世界大战胜利的原因。（4分）


材料四 新冠肺炎疫情正在全球蔓延，给人民生命安全和身体健康带来巨大威胁，给全球公共安全带来大挑战，形势令人担忧。当前，国际社会最需要的是坚定信心、齐心协力、团结应对，全面加强国际合作，凝聚起战胜疫情的强大合力，携手赢得这场人类同重大传染疾病的斗争。

——习近平在二十国集团领导人特别峰会上的发言

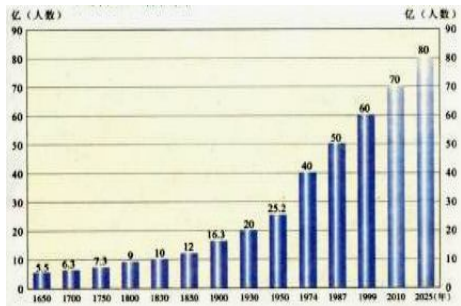
(4) 依据材料四写出当今世界面临的主要问题和国际社会的解决方法。（2分）

材料五 人类只有一个家园，没有哪个国家能独立应对人 类面临的各种挑战。

——习近平《论坚持推动构建人类命运共同体》



加速融化的南极冰山



日益增长的世界人口



全球面临的抗疫战争

(5) 结合材料五和所学知识，就各国家在应对突发危机时应担负的责任，谈谈你的认识。（1分）

28. 某班历史兴趣小组的同学正在进行探究学习系列活动, 请你一起参加。(18分)

探究一 近代化是指政治上的民主化、经济上的工业化和思想上的理性化。阅读材料一中的大事年表, 回答问题。

材料一 右表

(1) 列举年表中的一次思想解放运动。(1分)

(2) 列举年表中相邻且有直接因果关系的两个历史事件, 并简要说明其因果关系。(4分)

1321年, 但丁的《神曲》完稿
1688年, 英国“光荣革命”成功
1765年, 珍妮纺纱机发明
1840年, 鸦片战争爆发
1856年, 第二次鸦片战争爆发
1861年, 安庆内军械所开办
1912年, 中华民国建立
1915年, 陈独秀发表《敬告青年》一文

探究二 语言的传播和发展, 与国家的政治、经济、文化息息相关, 可以反映历史的变迁。

材料二 17世纪初, 英语作为英国的民族语言, 第一次远离欧洲本土, 开始了征服全世界的旅程。伴随着英帝国的殖民扩张, 英语的地理平台扩展到世界每一个角落, 成为名副其实的“日不落英语”, 英语的地理平台语言霸权地位最终确立了起来。

——摘编自郭蕾《英语霸权的历史演变研究》

(3) 结合材料二和所学知识, 探究“英语的地理平台语言霸权地位最终确立了起来”的原因。(2分)

探究三 历史人物可能多次出场, 但表现却不一致, 有时是喜剧, 有时是悲剧。阅读材料, 完成下列要求。

材料三 亨利·菲利浦·贝当(1856—1951) 法国元帅。从小立志做一名军人, 中学毕业后考入圣西尔军事学校, 此后一直在军中任职, 从少尉一步步升级至元帅。

1915年, 德国军队进攻凡尔登, 法国防线岌岌可危, 贝当被紧急调往前线。他提出“他们不会通过”口号, 动员各种力量运送物资以保证前线炮兵发挥作用, 还采用部队轮换制保持军队战斗力。贝当守住了凡尔登要塞, 赢得了“法兰西的救星”“陆军的医生”等赞誉。

1931—1934年间, 贝当任陆军部长, 极力主张从正面防御德国, 支持修建作为永久性防御工事的马奇诺防线。可是, 1940年德军绕道比利时进攻法国, 使防线失去作用, 法军节节败退。此时, 贝当出任政府总理, 力主与德国合作, 最后签订法德停战协定, 包括巴黎在内的3/5的国土归德军占领, 新政府必须在政治、经济、外交等领域与德国“合作”。

1940年7月, 贝当政府迁到维希, 成为纳粹德国的傀儡。

1945年4月, 贝当被捕, 后被判终身监禁, 最后死于囚禁地利勒迪厄岛。

——据《中国军事百科全书·军事历史卷》

(4) 材料三中, 贝当经历了哪两次重大历史事件?(2分) 2018年, 法国总统马克龙表示要隆重纪念贝当, 许多人立马表示反对。根据材料, 说明为什么有人主张纪念贝当, 也有人反对纪念贝当。(2分)

(5) 综合上述材料和问题, 你认为应该如何评价历史人物?(1分)

探究四、改新而不动“芯”——苏俄、美国与中国的改革

材料四 应当把商品交换提到首要地位, 把它作为……的主要杠杆。

——列宁俄共(布)第十次全国代表大会



“倒退到资本主义”, 是对十月革命的背叛!
——苏俄党内部分人对列宁的批评

材料五 为了维护自由经济, 不得不改变自由经济, 为了维护民主制度, 不得不调整民主制度。
——罗斯福 1933年在美国国会上的讲话



“紫色总统”、“共产主义代理人”、“本阶级的背叛者”!
——美国大垄断财团对罗斯福的批评

材料六 姓“资”还是姓“社”的问题, 判断的标准, 应该主要看是否有利于发展社会主义社会的生产力……是否有利于提高人民的生活水平。
——邓小平 1992年南方谈话



中国——正在远离马克思!
——《时代周刊》对中国改革开放的评价

(6) 结合所学知识, 指出材料四中提及到的是哪一次改革?(1分) 根据材料五和所学知识, 分析罗斯福新政“新”在什么地方?(1分) 这三次改革过程中都有很多不同的声音, 依据材料六回答, 判断中国改革开放是否符合马克思主义的标准是什么?(2分)

(7) 改新而不动“芯”的含义是什么? 以上改革的成功, 给我们什么启示?(2分)