

2020—2021 学年度第一学期期末学业水平测试

九年级历史试题

温馨提示：

1. 对于每一道题目，请同学们务必完整、仔细、耐心阅读，然后再作答，这非常有助于提高你的成绩。

2. 请把答案按要求答在答题卡上。

一、选择题（本大题共 20 小题，每小题 1 分，共 20 分。每小题给出的四个选项中，只有一项是正确的，请在答题卡上按要求把正确的答案涂黑）

1. 期末复习，老师把下面几个问题作为一个单元来复习，请你给本单元添加主题名称

单元主题：

拉丁美洲独立运动

印度民族大起义

印度的非暴力不合作运动

埃及的华夫脱运动

1960“非洲年”

1990 纳米比亚独立

- A. 殖民地人民的反抗斗争
- B. 资本主义制度的扩张
- C. 社会主义的发展与挫折
- D. 工业化国家的社会变化

2. 1861 年的某一天，俄国贵族向农奴宣读“解放”

法令，农奴激动地匍匐在地，亲吻贵族的脚（如图）。农奴如此激动是因为 ①农奴获得了人身自由 ②农奴在获得解放的同时，可以获得一份土地 ③农奴可以出钱赎买土地 ④俄国从此走上了发展资本主义的道路



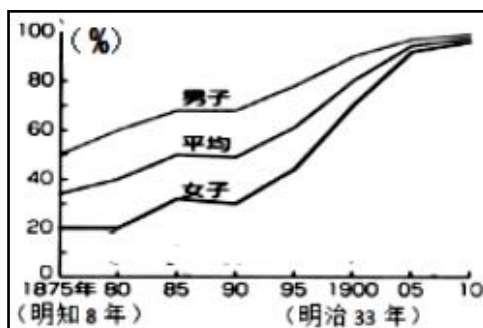
- A. ①③
- B. ②④
- C. ①②
- D. ③④

3. 美国内战和日本明治维新起到的相同作用是

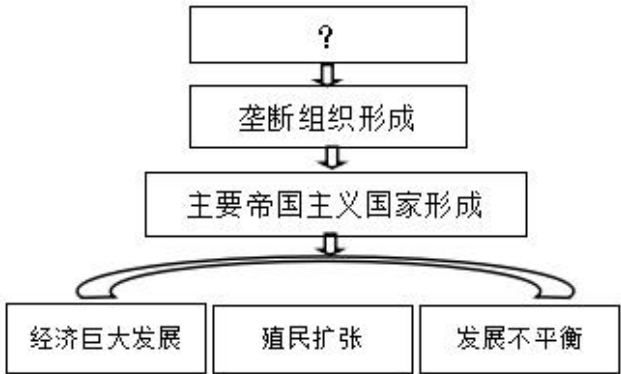
- A. 都摆脱了民族危机
- B. 都促进了资本主义的发展
- C. 都维护了国家的统一
- D. 都保留了大量旧制度的残余

4. 右图是明治 8 年至明治 33 年日本男子和女子接受义务教育的变化折线图。出现这一变化的原因是

- A. 废藩置县，加强中央集权
- B. 实现征兵制，建立新式军队
- C. 殖产兴业，大力发展近代经济
- D. 文明开化，大力发展近代教育



5. 下图最上面的方框里应该填



- A. 第一次工业革命
- B. 第二次工业革命
- C. 第一次世界大战
- D. 第二次世界大战

6. 以下对工业化影响的表述，只有一项是正确的，请选出来

- A. 工业化使人口越来越集中于城市
- B. 工业化导致人民文化水平下降
- C. 工业化使天更蓝，水更清
- D. 工业化缩小了贫富差距

7. 从下面的表格中我们能够得出的正确结论是

| | 持续时间 | 参战国家 | 卷入人口 | 死伤人数 | 财产损失 |
|----|------|------|------|---------|------------|
| 一战 | 4年多 | 30多个 | 约15亿 | 超过3000万 | 超过3300亿美元 |
| 二战 | 6年 | 60多个 | 20多亿 | 超过6000万 | 超过40000亿美元 |

- A. 战争削弱了帝国主义力量
- B. 战争促进了殖民体系瓦解
- C. 战争给人类带来巨大灾难
- D. 战争引发了社会主义革命

8. “历史叙述”指的是对历史事件进行客观的描述；“历史解释”是对历史事件的原因或者意义进行理性分析和客观评判。据此指出，下面属于历史解释的是

- A. 俄国二月革命推翻了沙皇专制通知
- B. 俄国十月革命推翻了临时政府统治
- C. 苏维埃政府实行了战时共产主义政策
- D. 十月革命是人类历史上第一次胜利的社会主义革命

9. 1920年，德国一家杂志上刊登一幅漫画，四位巨人把象征德国的一头牛踩在脚下（如图），并配有文字“我们的敌人当中，有的人想挤牛奶，有的人想割牛头”。这幅漫画暗喻




- A. 三国协约和三国同盟矛盾激化
- B. 一战后，德国面临协约国处置
- C. 德国即将发动新的世界大战
- D. 美英苏中联合抗击德国法西斯

10. 1932—1937 年，苏联第二个五年再次提前完成，苏联由落后的农业国变成了先进的工业国；1933—1939 年，美国实行罗斯福新政，新政使美国的经济得以复苏，恢复了美国人民的信心。苏联的五年计划和美国的新政实行
- A. 说明两国面临同样的经济环境
B. 都使两国由农业国变成工业国
C. 都暴露了片面发展重工业的弊端
D. 都体现了国家政权对经济的调控
11. 某同学整理了下面一个表格，其中有一项与主题不符，这一项是

| 一战后亚非拉民族民主运动的高涨的表现 | |
|--------------------|--------------|
| ① | 印度的非暴力不合作运动 |
| ② | 埃及的华夫脱运动会 |
| ③ | 巴拿马收回运河区全部主权 |
| ④ | 墨西哥的卡德纳斯改革 |

- A. ①
B. ②
C. ③
D. ④
12. 下面的漫画（如图）创作于 20 世纪 30 年代的美国，导致漫画中美国富豪交通工具发生变化的社会背景是



- A. 经济大危机的冲击
B. 绿色环保意识的增强
C. 富人重视锻炼养生
D. 罗斯福新政的实施
13. 下表是《1937 年主要国家国防开支占国民收入的比例》，此表可用于研究

| | 美国 | 英国 | 法国 | 德国 | 意大利 | 日本 |
|-------------|-----|-----|-----|------|------|------|
| 国民收入（亿美元） | 680 | 220 | 100 | 170 | 60 | 40 |
| 国防开支所占比例（%） | 1.5 | 5.7 | 9.1 | 23.5 | 14.5 | 28.2 |

- A. 法西斯国家的扩军备战
B. 世界反法西斯联盟的建立
C. 两级格局的确立
D. 二战后资本主义的新变化
14. 一位同学列表梳理了第二次世界大战的进程（见下表），其中表述正确的一共有几项？

| 第二次世界大战进程 | | | |
|-----------|-----------------|------------|----------------|
| 序号 | 时间 | 事件 | 解释 |
| ① | 1939. 9. 1 | 德国突袭波兰 | 第二次世界大战全面爆发 |
| ② | 1941. 9—1942. 1 | 莫斯科保卫战 | 粉碎了德军不可战胜的神话 |
| ③ | 1942. 1 | 《联合国家宣言》签署 | 世界反法西斯联盟正式形成 |
| ④ | 1942. 7—1943. 2 | 斯大林格勒保卫战 | 第二次世界大战转折点 |
| ⑤ | 1944. 6 | 诺曼底登陆 | 德国陷入东西两个战场夹击之中 |
| ⑥ | 1945. 2 | 雅尔塔会议 | 加速了二战的结束 |
| ⑦ | 1945. 8. 15 | 日本宣布无条件投降 | 第二次世界大战结束 |


A. 三项

B. 四项

C. 五项

D. 六项

15. 下面是同一时期的出现在英国和苏联的关于马歇尔计划的漫画，英国称马歇尔计划是人类历史上最慷慨的计划，马歇尔计划被做成夹板，支撑象征欧洲经济的枯树重新开花结果；苏联称马歇尔把挂着钢盔、刺刀、步枪的圈套卖给英法德意等国。这说明



- A. 英国漫画家没有看透马歇尔计划的本质

B. 苏联漫画家嫉妒马歇尔对欧洲的援助
- C. 两位漫画家看待马歇尔计划的立场不同

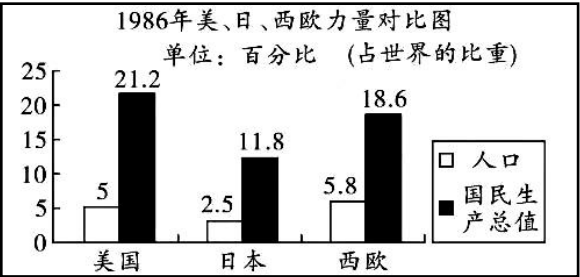
D. 马歇尔计划一定不会起到预期的目的

16. 观察分析“1986年美、日、西欧力量对比图”并结合所学，可以得到的正确认识是

- A. 日本谋求成为政治大国

B. 资本主义世界经济三足鼎立
- C. 欧洲努力用一个声音说话

D. 世界政治格局多极化已经确立



17. 下面四幅漫画都是关于苏联的，请仔细观察后选择一个合适的题目



- A. 社会主义道路的失败 B. 苏联的兴衰
C. 社会主义阵营的瓦解 D. 多极化的形成
18. 自 2018 年以来，美国总统特朗普授权对全球许多国家发起贸易战，对输美商品加征关税。此举背离了
- A. 政治多极化趋势 B. 文明多元化趋势
C. 社会信息化趋势 D. 经济全球化趋势
19. 对冷战后世界格局的理解，错误的是
- A. 两极格局不再存在 B. 新的世界格局尚未形成
C. 新的世界格局已经形成 D. 出现了多极化的发展趋势
20. 右图所示漫画意在警示人类一定要



- A. 保护好生态环境
B. 维护好世界和平
C. 控制好人口增长
D. 遏制住恐怖主义

二、非选择题（第 21 题 11 分；第 22 题 9 分；第 23 题 10 分，共 30 分。请把答案答在答题卡的相应位置。）（请你一定耐心仔细读一遍材料，答案也许就在材料中。）

21. 大国的改革或成功或失败，都发人深思。阅读下列材料，回答问题。（11 分）

材料一 下面是某同学绘制的俄国近、现代史示意图（部分）



（1）材料一中 A 处是俄国历史上的一次重大改革，其性质是什么？（1 分）B 处是列宁为恢复被战争严重破坏的经济，实施的一项经济政策，请说出这项经济政策的作用。（2 分）C 处的改革和苏联的解体有何关系？（1 分）

材料二 日本的新统治者致力于日本社会的转型,以获得同外国势力在政治和军事上的平等地位。明治政府的首要目标是强化中央集权……变革使日本成为东亚的政治、军事和经济强国。

——摘自杰里·齐格勒《新全球史》下

（2）材料二中的“变革”指的是什么事件？（1 分）为了实现材料中的“首要目标”，日本政府采取了什么措施？（1 分）依据材料及所学知识，指出这一“变革”的影响。（2 分）

材料三 我们最重大的首要任务，是使人民有工作可做。如果我们聪明而勇敢地对待，就没有解决不了的问题。由政府本身直接募工，可以部分地完成这一任务，政府对待这项工作就像对待战争的紧急状态一样。

——1933 年 3 月 4 日罗斯福就职演说

（3）结合所学知识，指出罗斯福演说的背景。（1 分）为了“使人民有工作可做”，罗斯福政府采取了什么具体措施？（1 分）

（4）从以上材料中你能得到什么启示。（1 分）

22. 大国之间的关系，影响世界局势的发展。阅读材料，回答问题。（9分）

材料一 英国著名经济学家凯恩斯曾在巴黎和会期间担任英国方面的财政专家，他认为协约国的赔款政策“是一项令人深恶痛绝的政策”，“这种政策……是一个残忍的胜利者在文明史上所干出的最凶暴的行为之一”。《凡尔赛条约》的缔结者之一、英国首相劳合·乔治写到：“如果德国认为1919年的和约不公正，那么它将会找到对战胜国进行报复的手段。”

（1）据材料一，概括指出凯恩斯的主要观点。（1分）巴黎和会和华盛顿会议重新确立的一战后国际秩序被称为什么？（1分）任意写出德国和日本打破这一秩序的事件各一个。（2分）

材料二 就事情的本质而言，“冷战”是美苏双方不同意识形态、价值观念、社会制度和对外战略相互矛盾和相互冲突的结果，是双方相互遏制和相互对抗的产物。

——张盛发《斯大林与“冷战”》

（2）根据材料二，归纳二战结束后导致美苏两国关系发生变化的主要因素。（2分）

材料三 “冷战”结束后，美国政府多次公开提及建立“世界新秩序”的设想，并认为“维护美国的领导地位”是“建立新秩序”的“首要原则”。

——刘金质《冷战史》

材料四 这个世界怎么了？我们应该怎么办？面对人类社会的时代之问，习近平总书记提出了中国方案：构建人类命运共同体，实现共赢共享。这一方案赢得了世界的一片叫好，其中蕴含的“天下为公”的思想更是温暖了世界。

——摘自新华网

（3）材料三中的“世界新秩序”和材料四中的“人类命运共同体”有什么实质区别？（2分）

（4）综合上述材料，结合所学知识，你认为当今世界，怎样的大国担当才是正确的？（1分）

23. 阅读材料，回答问题：（10 分）

材料一 在第一次工业革命尚未结束之际，新一轮的技术革新浪潮已经兴起，……从早期的中小型企业占多数，到企业规模越来越大，生产和资本出现集中趋势。

——《简明世界历史读本》

（1）材料一中“新一轮的技术革新”兴起的时间和最明显标志分别是什么？（2 分）据材料一概括生产组织形式的新变化。（2 分）

材料二 人类科技发展经历了从“蒸汽机”到“互联网”的三次革命。每次革命都极大的改变了人类生产和生活的方式，把人类带入了一个全新的时代。

——吴国盛《科学的历程》

（2）据材料二并结合所学知识指出，第二次“革命”把人类带入什么时代？（2 分）仿照示例，请你再任举一例，说明“每次革命都极大的改变了人类生产和生活的方式”。（2 分）

示例：电影的发明，增加了人们的娱乐方式。（举出一个成果，1 分；怎样改变或者改变了什么，1 分）

材料三 三次科技革命，极大的促进了人类社会的进步，改善了人们的生活，但是科技发展也带来了许多负面影响，到 21 世纪人类不止一次打开“潘多拉的盒子”：全球变暖、臭氧层受损、沙漠化加剧、物种灭绝、核威胁和核危机，……以科技进步为核心的人类文明如何发展，已成为人类迈向知识经济时代的重大课题。

（3）根据材料三，谈谈你对科技革命的认识。（2 分）