

九年级历史试题

满分：100 分 时间：70 分钟

一、选择题（下列各题的四个选项中，只有一个符合题意。每小题 2 分，共 50 分）

1. 亚洲是人类最早的定居地之一，也是人类文明的重要发祥地。在数千年发展历程中，亚洲人民创造了辉煌的文明成果。下列文明成果属于亚洲人民创造的是①金字塔 ②《汉谟拉比法典》③佛教 ④长城

A. ①③④ B. ②③④ C. ①②④ D. ①②③

2. 欧洲文明长期以来吸引着世界的眼球。欧洲人强烈的反省精神打造了哲学的深度，不断追寻的精神开创了民主的先河，在与蒙昧和野蛮的交战中，逐渐形成了复杂而独特的“欧洲模式”，在世界其他文化中都可以找到欧洲文明的影子。上述材料中提及的“欧洲文明”的源头是

A. 古希腊文明 B. 古巴比伦文明 C. 古埃及文明 D. 古印度文明

3. 《欧洲史》记载“庄园主很久以来就对奴隶拥有一切权力，而且他们也对自己的封臣和其他自由身份的臣民有广泛的权力。”据此，庄园主行使司法权的权力机构是

A. 公民陪审法庭 B. 庄园法庭 C. 元老院 D. 公民大会

4. 在古丝绸之路，东西方文化进行交流和传播。担当了沟通东西方文化的角色，为世界文化的发展作出了卓越贡献的是

A. 印度人 B. 希腊人
C. 罗马人 D. 阿拉伯人

5. 右边图示说明新航路的开辟

A. 使世界完全连成了一个整体
B. 促进了资本主义发展
C. 丰富了世界各地人们的生活
D. 使美洲遭到残酷掠夺



6. 联合国教科文组织曾宣布，每年 8

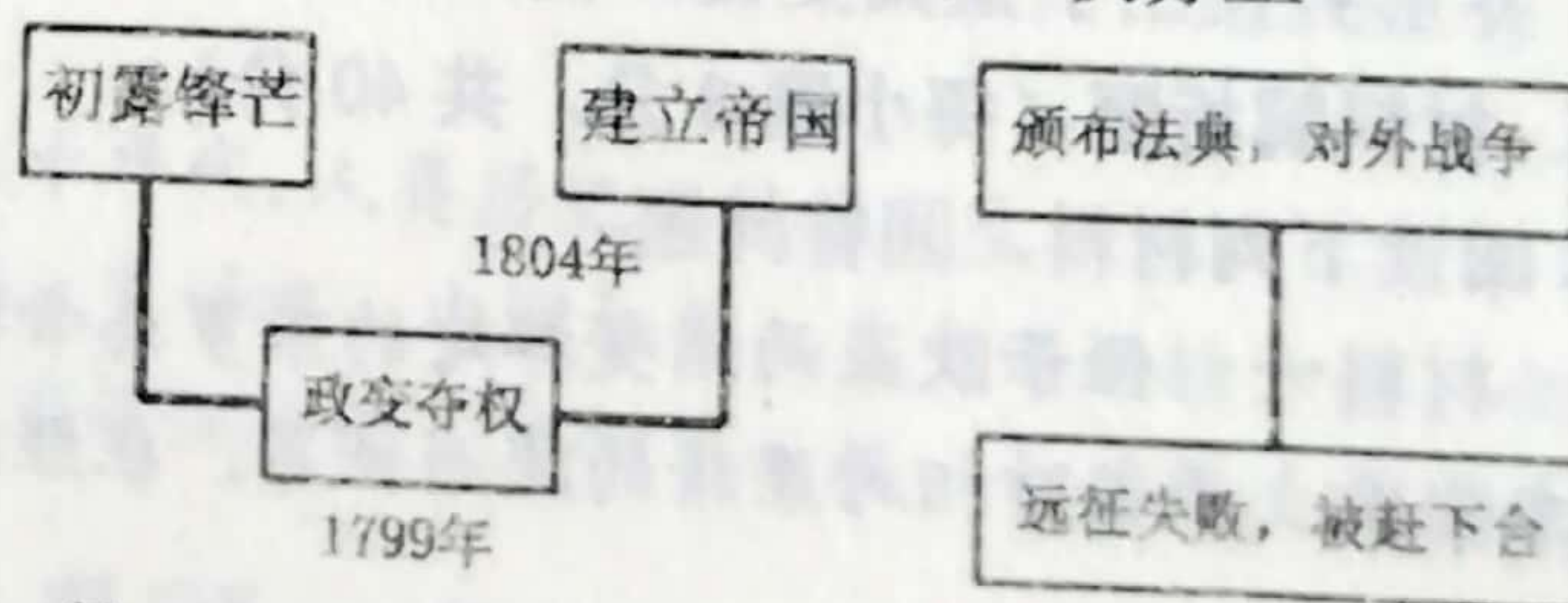
月 23 日为“废除奴隶贸易国际纪念日”。15 世纪起，欧洲殖民者就在进行着罪恶的奴隶贸易。下列对奴隶贸易的表述，正确的是

A. 最早进行这一贸易的是英国人 B. 它使非洲丧失了大量精壮劳力
C. 它为欧洲输送了大量劳动力 D. 它给印第安人带来了巨大的财富

7. 斯塔夫里阿诺斯在《全球通史》中认为：“从世界史的观点看，美国革命之所以重要，并不是因为它创造了一个独立的国家，而是因为它创造了一个新的、不同类型的国家。”作者关于美国革命的评价，是因为它

A. 脱离殖民统治，实现民族独立
C. 解放黑人奴隶，维护国家统一
D. 战胜封建王权，实行君主立宪

B. 确立共和体制，实行三权分立



8. 右图所示，反映的历史人物应该是

A. 克伦威尔 B. 华盛顿
C. 罗伯斯庇尔 D. 拿破仑

9. 《剑桥欧洲经济史》写道：“机器都在执行着一种新的规律，纺工不再像过去那样在家里无拘无束地摇车纺纱了，织工也不能像过去那样在家里自由自在地投梭织布了。现在，他们必须在工厂中按照没有生命疲倦的机器设备所确定的速度工作。”材料主要说明了工业革命

A. 改变了生产方式

B. 提高了社会生产力水平

C. 改变了传统家庭结构

D. 提高了人们的生活水平

10. 印度的章西女王和被誉为“南美的解放者”的玻利瓦尔，两人的相同之处是

A. 都是殖民扩张和掠夺的代表

B. 都为自己的国家赢得了民族独立

C. 都为民族独立而英勇牺牲

D. 都是反抗殖民统治的英雄

11. 俄国 1861 年农奴制改革和日本明治维新，这两次改革运动的相同点是


A. 改革前两国都遭到西方侵略

B. 都是资产阶级性质的改革


C. 改革都提倡“文明开化”

D. 改革后都建立了民主共和政体

12. 第二次工业革命促进了生产力的发展，极大地改善了人们的生活。在下列科技发明中，产生于第二次工业革命时期的有




①蒸汽轮船



②早期汽车



③电灯



④火车机车

A. ①②

B. ②③

C. ③④

D. ①④

13. 他是瑞典化学家，现代炸药的发明者。逝世后，他的大部分财产被用来设立一个以他的名字命名的奖励基金，每年授予在物理学、化学等方面“为人类做出杰出贡献的人”。他就是

A. 诺贝尔

B. 牛顿

C. 爱因斯坦

D. 霍金

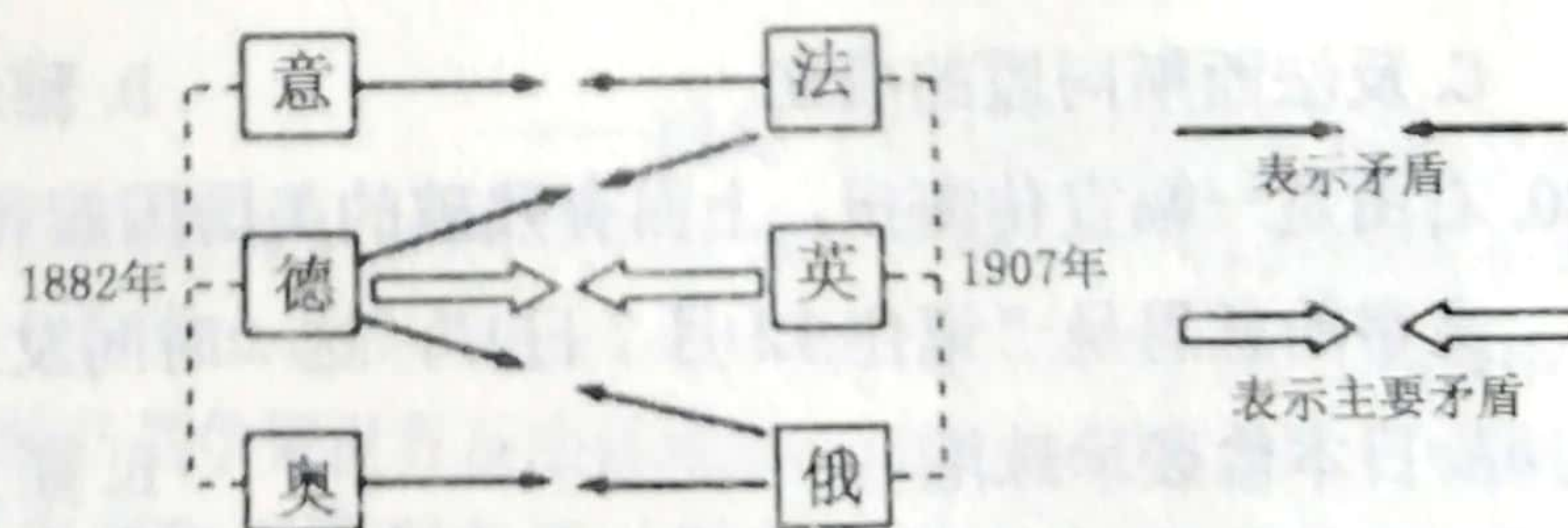
14. 右面的示意图可以帮助我们学习

A. 第一次世界大战的背景

B. 凡尔赛体系下蕴含的矛盾

C. 第二次世界大战的经过

D. 两极格局下的对抗和冲突



15. 在一次国际会议上，中国政府代表顾维钧愤怒地说：“日本在全世界面前偷了整个山东省……中国不能失去山东，就像西方不能失去耶律撒冷一样。”这次“国际会议”应该是

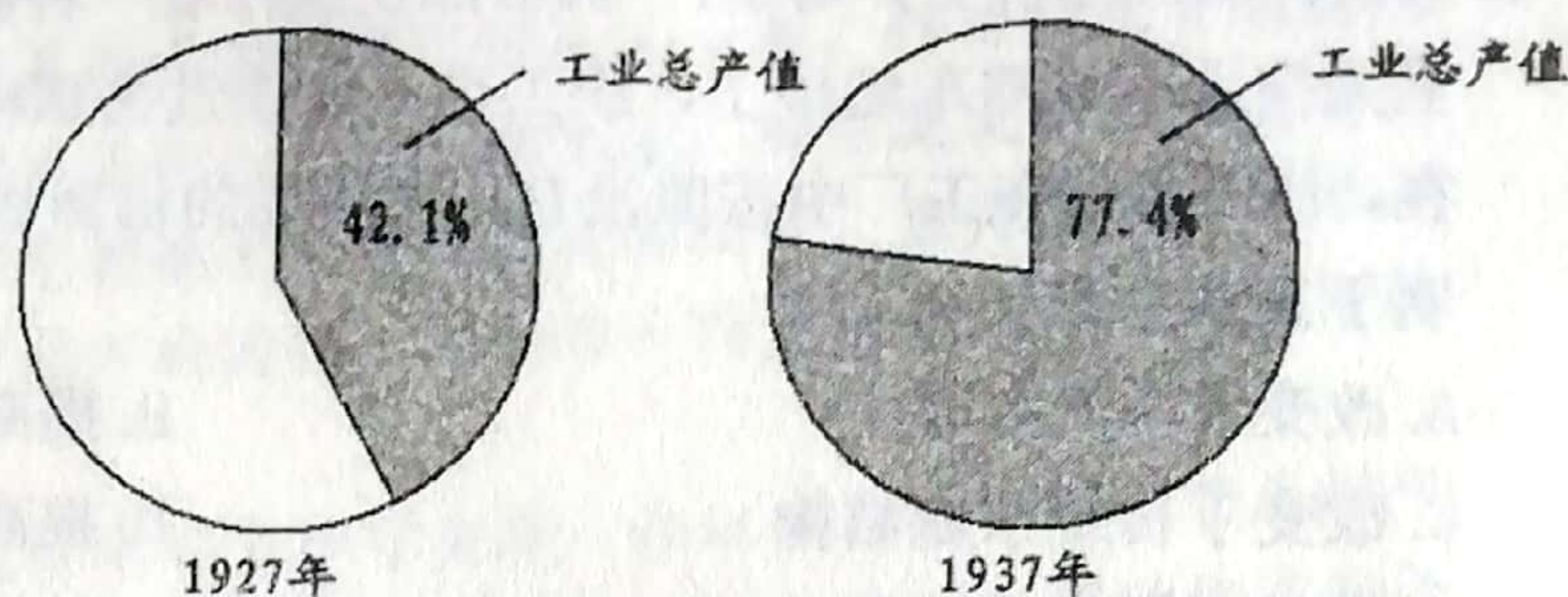
A. 巴黎和会

B. 华盛顿会议

C. 开罗会议”

D. 雅尔塔会议

16. 右图为苏联工业总产值占国民经济总产值的比重变化示意图，导致其变化的原因是
- A. 十月社会主义革命
B. 战时共产主义政策
C. 大规模农业集体化
D. “斯大林模式”



17. 第一次世界大战后，亚洲的殖民地和半殖民地国家掀起了争取民族独立的运动。下面史料说明甘地和凯末尔领导两国的民族独立斗争

我并不是因为印度衰弱才号召印度实行非暴力主义，而正是因为认识了印度的力量我才号召印度实行非暴力主义。

——（印度）甘地：《武力政策》


我们国家与我国民族的唯一使命是用我们的刺刀把敌人从我们的土地上赶走。

——（土耳其）凯末尔

- A. 原因不同 B. 方式不同 C. 目的不同 D. 影响不同
18. 下表列出的是《1937年各大国国民收入与国防开支的比例》，可用于研究

	美国	英国	法国	德国	意大利	日本
国民收入（亿美元）	680	220	100	170	60	40
国防开支所占比例（%）	1.5	5.7	9.1	23.5	14.5	28.2

- A. 三国同盟和三国协约的形成 B. 一战后国际新秩序的形成和变化
C. 世界大战战争策源地的形成 D. 欧美各国支持中国的全民族抗战
19. 1941年罗斯福宣布“美国决心在可能的范围之内，全力援助苏联”。同年9月29日至10月1日，苏美英三国代表团在莫斯科签订了在短期内向苏联提供援助的议定书。“短期内向苏联提供援助”的原因是
- A. 共同战胜法西斯国家 B. “绥靖政策”失败
C. 反法西斯同盟的成立 D. 雅尔塔会议召开
20. 右图是一幅宣传海报，上面有残破的美国国旗和相关文字。其中文字的意思是“记住12月7日！”，这一时间发生了
- A. 日本偷袭珍珠港 B. 斯大林格勒战役
C. 日本向盟军投降 D. 苏军攻克柏林
21. 美国高呼着“共产主义的威胁”发动冷战，却干着控制别国、扩大本国利益的勾当。“共产主义扩张”只是美国制造出来实现自己战略目的的“神话”。这反映美国发动冷战的根本目的是
- A. 防止革命 B. 控制西欧 C. 遏制苏联 D. 称霸世界



22. 下图所示时间轴承载的史实反映的是



A. 西欧走向联合的历程

B. 西欧各国经济水平一致

C. 西欧走向联合的原因

D. 西欧走向联合后的影响

23. “1991年12月8日，白俄罗斯、俄罗斯和乌克兰3个苏联加盟共和国的领导人签署《独立国家联合体协议》，宣布成立独立国家联合体。同月21日，除立陶宛、拉脱维亚、爱沙尼亚和格鲁吉亚外，苏联其他11个加盟共和国在哈萨克斯坦的阿拉木图签署了《阿拉木图宣言》，宣告成立独立国家联合体及苏联停止存在。”这段材料记载的是

A. 苏联改革

B. 东欧剧变

C. 俄国的演变

D. 苏联解体

24. 英国首相撒切尔夫人说：“社会有一个梯子和一张安全网，梯子用来供人们自己努力改善生活，安全网则用来防止人们跌入深渊。”文中的“安全网”指的是

A. 社会保障制度

B. 社会扶贫制度

C. “以工代赈”

D. 失业救济金

25. 2020年初，受新冠肺炎疫情影响，根据教育部“停课不停学”有关部署要求，许多学校开展了“线上教学”活动。这主要得益于广泛应用

A. 航空航天

B. 原子能

C. 计算机网络

D. 生物工程

二、填空题（每空1分，共10分）

26. _____是一位百科全书式的学者，他对许多学科都有贡献，还创立了逻辑学等新的学科。英国科学家_____是近代自然科学的奠基人之一，他的科学发现，使人类对客观世界的探索向前迈进了一大步。

27. 《_____》的发表，标志着马克思主义的诞生。《_____》的出版，打破了千百年来“上帝创造万物”的神创论，是生物科学的一次伟大革命。

28. _____年11月，德国投降，第一次世界大战以同盟国的失败而结束；_____年9月2日，日本正式签署投降书。第二次世界大战结束。

29. 1955年4月，在印度尼西亚的万隆，亚洲、非洲29个国家和地区的代表举行了第一次_____会议，也就是万隆会议，发展中国家作为一支新兴独立的政治力量登上了国际舞台；1990年，_____独立，标志着所有非洲国家都摆脱了殖民主义的枷锁。

30. 一战后，国际新秩序得以重建，这一秩序通常被称为“_____”。二战后，世界形势发生了重大变化，美苏两国之间开始了长达数十年的_____局面。

三、材料解析题（每小题8分，共40分）

31. 阅读下列材料，回答问题

材料一 位于欧亚两洲交界处的东罗马帝国，即拜占庭帝国以其保存的希腊罗马古典文化傲立于当时相对黑暗的欧洲世界。在经济方面，几百年来拜占庭一直是地中海地

区的经济中心，它的货币是当时国际贸易的通用媒介；在文化方面，作为希腊罗马文明的继承者和保存者，加之位于亚欧两洲交界处的卓越地理位置，拜占庭文明最初以其文化上的兼收并蓄而显繁荣灿烂之势。在它俯视之下的西方世界面前，显得是那么的卓尔不群。当十字军的士兵来到君士坦丁堡城下的时候，他们为人间竟有如此壮丽的城市而倍感惊讶，他们认为这就是天堂！

材料二 然而，拜占庭帝国就在这种卓越中洋洋自得，在以后的时日里，它无视于西欧在城市出现之后悄然兴起的文明新因素，更不屑于学习和吸纳其他文明的优点和长处，而依然陶醉于过去荣誉的光辉之中。拜占庭人显然认为他们的职责仅在于保存祖先的遗产而不在于创新，这种封闭保守的心态和做法持续了若干个世纪。在以后的岁月里，它不仅在同宗的基督教兄弟——代表着一种新文明扩张势力的西欧十字军进攻面前显得无能为力，而且在新崛起的伊斯兰扩张势力的打击之下也是束手无策。最终在到处布满贪婪目光的世界里可悲地充当了刀俎之上的一块肥肉，在1453年灭亡于信奉伊斯兰教的奥斯曼土耳其的扩张之中。

请回答

(1) 结合材料一、二和所学知识，你认为拜占庭帝国衰亡原因有哪些？（2分）

(2) 材料二中“文明新因素”是指什么？（2分）它的“悄然兴起”有何历史意义？（2分）

(3) 联系鸦片战争前后中国的历史遭遇，拜占庭的历史命运给后人留下的经验和教训？（2分）

32. 阅读下列材料，回答问题。

材料一 为自由而战，寻求真正的解放。女王的荣光、查理的断首，都镌刻着“王在议会，法在习惯”的字样。

材料二 独立与自由根植于美利坚灵魂深处，为此它不惜与母邦兵戎相见……南北对峙，国家面临分裂，一位伟大的总统将它从危机中拯救。

材料三 革命的烈焰将国王推上了断头台，巍峨的凯旋门见证了拿破仑创造的奇迹……这个民族从不畏惧硝烟和战火的洗礼，因为他们更爱自由与真理。

——《图说天下》

(1) 对材料一中“王在议会，法在习惯”这一现象产生关键影响的法律文献是什么？（1分）此文件奠定了该国什么政治体制的基础？（1分）

(2) 材料二中“与母邦兵戎相见”指的是什么历史事件？（1分）拯救危机的总统指的是谁？（1分）

(3) 材料三中“革命的烈焰”爆发的标志性事件是什么？（1分）“他们更爱自由与真理”的证据是什么？（1分）

(4) 依据材料并结合所学知识，指出上述三个国家“革命”的共同作用。（2分）

33. 阅读下列材料，回答问题。

材料一 18世纪六十年代、19世纪七十年代，人类历史上先后发生了两次工业革命，在动力方面，出现了改良蒸汽机、发电机、电动机，内燃机等；在交通运输方面，创制了蒸汽轮船、蒸汽机车、汽车、飞机等；在通讯方面，发明了电报、电话等；在经济结

构方面，重工业取代轻纺工业，成为工业生产的主要成分；在世界贸易方面，1870年以后的三十多年间，贸易额增长了约三倍。

——改编自《历史》

材料二 一些工业发达的城市和工矿区，人口密集、物流量大，煤的燃烧量急剧增加，以大气污染为主的环境问题不断发生，如1873年、1880年、1882年、1891年、1892年，英国伦敦多次发生可怕的有毒烟雾事件。

——摘自刘少豪《环境与环境保护导论》

(1) 根据材料一，分析工业革命的影响。(4分)

(2) 材料二反映了什么问题？(2分) 上述两则材料给我们什么启示？(2分)

34. 阅读下列材料，回答问题

材料一 苏维埃俄国领导人列宁说：“我们应该利用资本主义……作为小生产和社会主义之间的中间环节，作为提高生产力的手段、途径、方法和方式。”

材料二 美国总统罗斯福说：“为了永远地纠正我们的经济制度中的严重缺点，我们依靠的是旧民主秩序的新应用。”

(1) 材料中的“苏维埃俄国”是什么性质的国家？(1分) 列宁所说的“利用资本主义”指的是其实行的什么政策？(2分)

(2) 材料二中罗斯福所说的“严重缺点”指的是什么？(1分) 1933年起，罗斯福为克服“严重缺点”所采取的措施有什么特点？(2分)

(3) 综上所述，请概括苏维埃俄国和美国实施的政策措施的相似点。(2分)

35. 阅读下列材料，回答问题

材料一 1915-1916年的欧洲战争在军事上没有明显的进展，陷入了所谓的“堑壕战”。两个阵营的士兵挖堑壕，时常发动进攻，仅能前进数米，或继续后退……人们甚至怀疑这与国家的生存有什么关联。战争已不像当初人们相信的那样，是为了正义的高尚的战争，为国家流血是壮美的行为；其看法变为，战争是丑陋的、无意义的行为，无论是对死去的人还是对国家都带不来丝毫的价值和利益……

——摘自《20世纪的战争与和平》

材料二 世界大战是直接由法西斯国家的侵略扩张引起的，法西斯主义就是战争。建立反法西斯统一战线，世界各国人民的同仇敌忾和英勇奋战，是战胜德、意、日轴心国的重要保证。

——摘自《20世纪的战争与和平》

材料三 战争是一面镜子，能够让人更好认识和平的珍贵。今天……世界仍很不太平，战争的达摩克利斯之剑依然悬在人类头上。我们要以史为鉴，坚定维护和平的决心。

——习近平在纪念中国人民抗日战争暨世界反法西斯战争胜利70周年大会上的讲话

(1) 概括指出第一次世界大战爆发两年后欧洲各国一般市民对战争的看法的有什么变化？(2分) 为什么会发生这样的变化。(1分)

(2) “反法西斯统一战线”建立的标志是什么？(2分) 两年后，美、英盟军的哪一行动体现了“世界各国人民的同仇敌忾和英勇奋战”？(1分)

(3) 根据材料三并结合所学知识，你认为国与国之间应该如何构建新型的国际关系？(2分)