

丘北县 2020~2021 学年上学期期末检测

九年级 历史 试题卷

（全卷两个大题，共 29 个小题，共 8 页；满分 100 分，考试用时 90 分钟）

注意事项：

1. 本卷为**试题卷**。考生必须在**答题卡**上解题作答。答案应书写在**答题卡**的相应位置上，在试题卷、草稿纸上作答无效。
2. 考试结束后，请将**试题卷**和**答题卡**一并交回。

第 I 卷 （选择题，共 50 分）

一、**选择题**（本大题共 25 小题，每小题 2 分，共 50 分。在每小题给出的四个选项中，只有一项是最符合题目要求的）

1. 下列属于希腊古典建筑艺术成就是



A. 万神庙



B. 大竞技场



C. 帕特农神庙



D. 巴黎圣母院

2. 被誉为“罗马法制建设第一步”的是

A. 《十二铜表法》

B. 《法学汇纂》

C. 《查士丁尼法典》

D. 《汉谟拉比法典》

3. 大河流域孕育了灿烂的古代人类文明，下列文明成果与其文明古国搭配不正确的是

A. 古埃及——金字塔

B. 古巴比伦——《汉谟拉比法典》

C. 古印度——象形文字

D. 中国——科举制度

4. 某历史论文提到了“公元 1 世纪”“巴勒斯坦地区”“耶稣”“忍受苦难，死后可以升入天堂”等信息。据此判断该论文重点研究的对象是

A. 佛教

B. 基督教

C. 伊斯兰教

D. 道教

5. 城邦的每个自由人都是公民，公共事务由他们选举出来的执政官主持，由全体公民组成大会以直接民主表决的方式解决城邦的重大事务。这反映的是

A. 雅典的民主政治

B. 中国的分封制

C. 印度的种姓制度

D. 中国的行省制度

6. 他是一位百科全书式的学者，对许多学科都有贡献，还创立了逻辑学等新的科学。他指的是

A. 苏格拉底

B. 德谟克利特

C. 屋大维

D. 亚里士多德

7. 公元 2 世纪，它的版图跨欧、亚、非三洲，地中海成为它的内湖。这里的“它”所指的帝国是

A. 罗马帝国

B. 波斯帝国

C. 阿拉伯帝国

D. 亚历山大帝国

8. 被誉为欧洲中世纪教育“最美好的花朵”的是

A. 教师行会

B. 基督教会

C. 庄园

D. 大学

9. “它通常被认为开始于 395 年，直到 1453 年被奥斯曼土耳其帝国灭亡，延续了 1058 年。”材料中的“它”指的是

A. 罗马帝国

B. 阿拉伯帝国

C. 拜占庭帝国

D. 查理曼帝国

10. 无论是对中世纪和近现代的西方法学，还是对亚非拉国家的现行法律体制，罗马法都有不可磨灭的贡献。其中奠定了欧洲民法基础的是

A. 美国 1787 年宪法

B. 《查士丁尼法典》

C. 《十二铜表法》

D. 《罗马民法大全》

11. “6 世纪起，中国文明大规模传入日本……那些游历‘天朝’的日本人，作为热情的皈依者，回国后所起的作用更为重大。”这里的“作用更为重大”指的是

A. 进行民主政治改革

B. 派遣“遣唐使”

C. 推动大化改新

D. 推翻封建君主专制

12. 13 世纪,许多西欧城市取得了一定程度的自由与特权,成为自由城市。争取城市的自由、自治和特权的常用手段是

- ①金钱赎买 ②制定律法 ③武装斗争 ④召开议会
A. ①② B. ②③ C. ①③ D. ③④

13. 公元 8 世纪中期,世界上疆域最庞大的帝国是

- A. 法兰克王国 B. 阿拉伯帝国 C. 查理曼帝国 D. 罗马帝国

14. 下图描述的是 16 世纪在西欧城市兴起的哪一生产经营方式?



- A. 手工作坊 B. 手工工场 C. 租地农场 D. 封建庄园

15. 某校九年级学生对“新航路开辟”展开自主学习,做了如下笔记,其中不正确的是

- A. 根本原因:受到马可·波罗的影响
B. 客观条件:指南针的应用,地理知识的进步
C. 重大事件:麦哲伦船队完成环球航行,证明了地圆学说的正确性
D. 消极影响:引发了殖民掠夺

16. 17 世纪,被誉为“海上马车夫”的是

- A. 英国 B. 荷兰 C. 法国 D. 西班牙

17. 领导北美人民取得独立战争的胜利,又开创了民主共和制的是

- A. 华盛顿 B. 林肯 C. 克伦威尔 D. 拿破仑

18. 美国独立战争的转折点是

- A. 克伦威尔出任“护国主”
B. 召开议会,筹集军费
C. 萨拉托加大捷
D. 巴黎人民攻占巴士底狱

19. “明确规定:立法权属于参议院和众议院组成的国会,行政权力赋予总统,司法权属于最高法院。”材料反映的法律文件是

- A. 《权利法案》 B. 《中华民国约法》
C. 《拿破仑法典》 D. 美国 1787 年宪法

20. “它是法国大革命的纲领性文件,其核心是人权与法治,是改造封建社会,引导法国走向近代资本主义社会的指针。”材料中的“它”指的是

- A. 《权利法案》 B. 《人权宣言》
C. 《独立宣言》 D. 《共产党宣言》

21. 下列不属于早期英、美、法资产阶级革命开始的标志性事件是

- A. 议会的重新召开 B. 来克星顿的枪声
C. 启蒙运动的兴起 D. 巴黎人民攻占巴士底狱

22. 拿破仑是一位叱咤风云的历史人物。他的主要活动不包括

- A. 建立“法兰西第一帝国”
B. 多次打败反法联盟
C. 制定《拿破仑法典》
D. 处死国王查理一世

23. 蒸汽机是第一次工业革命期间的主要动力,从此人类进入

- A. 蒸汽时代 B. 电气时代
C. 信息时代 D. 网络时代

24. 第一次工业革命期间产生了很多发明,其中的一项发明叫作蒸汽机车。它的发明者是

- A. 凯伊 B. 哈格里夫斯 C. 瓦特 D. 斯蒂芬森

25. 马克思主义诞生后,国际工人运动进入一个新的历史时期。创办于 1864 年的国际工人协会,被称为

- A. 法国大革命 B. 宪章运动
C. 第一国际 D. 巴黎公社

第Ⅱ卷（非选择题，共 50 分）

二、非选择题（本大题共 4 小题，第 26 题 12 分，第 27 题 12 分，第 28 题 14 分，第 29 题 12 分，共 50 分）

26. （12 分）阅读下列材料，回答问题。

材料一


14~17 世纪，欧洲新生的资产阶级掀起了一场思想文化运动。这场运动的重大历史意义在于它促使欧洲人从以神为中心过渡到以人中心，在于唤起人的觉醒，使人们把关注的重点从来世转移到现世，从而在精神方面为资本主义制度的确立开辟了道路。

——吴于廑、齐世荣《世界史·近代史编》


材料二



图一



图二



图三

材料三

1848 年，两个德国人向世界宣告了一种新的社会主义理论——马克思主义的诞生。此后，该理论成为国际无产阶级无比锐利的思想武器，哺育了世界西方和东方两个半球的无产阶级运动，对人类社会的历史进程产生了深远影响。

（1）材料一中的“思想文化运动”指的是什么历史事件？根据材料一指出，该思想文化运动时期的核心精神是什么？该思想文化运动最早在哪个国家兴起？（5 分）

（2）结合所学知识，写出材料二中三个作品的作者分别是谁？（3 分）

（3）根据材料三结合所学知识，写出马克思主义诞生的标志是什么？结合所学知识，指出无产阶级第一次建立政权的伟大尝试指的是哪一历史事件？（4 分）

27. （12 分）阅读下列材料，回答问题。

材料一

凡未经议会同意，以国王权威停止法律或停止法律实施之僭越权力，为非法权力……凡未经议会准许，借口国王特权，为国王而征收，或供国王使用而征收金钱，超出议会准许之时限或方式者，皆为非法。

材料二

……独立和自由根植于美利坚灵魂深处，为此它不惜与母邦兵戎相见……在那个距今二百多年前的时代里，殖民地联合起来挑战宗主国是破天荒的大事，宣布独立的北美 13 个英属殖民地……与大英帝国的战争一直艰苦地打了八年……

——《大国崛起》解说词

材料三

革命的烈焰将国王推上了断头台，巍峨的凯旋门见证了拿破仑创造的奇迹……这个民族已不惧硝烟和战火的洗礼，因为他们更爱自由与真理。

——《图说天下》

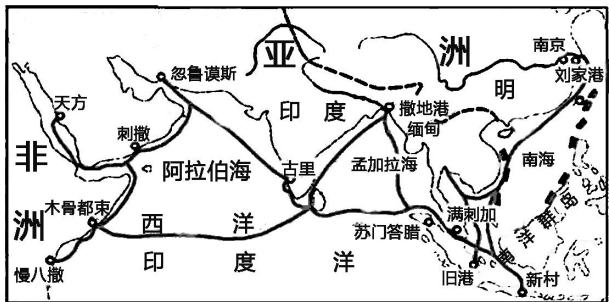
（1）材料一出自哪一著名法律文件？该法律文件颁布后，英国了确立哪种政体？（4 分）

（2）材料二反映的是哪一历史事件？在该历史事件中“北美 13 个英属殖民地”是以哪一重要文献向世界“宣布独立”的？（4 分）

（3）材料三中的“革命烈焰”指的是哪一历史事件？（2 分）

（4）根据上述三则材料结合所学知识，指出英、美、法资产阶级革命的共同追求是什么？（2 分）

28. （14 分）阅读下列材料，回答问题。
材料一



材料二
公元前 334 年，年仅 22 岁的马其顿国王亚历山大，率领步兵约 3 万人，骑兵约 0.5 万人，发动了侵略亚洲和非洲的远征……亚历山大在东征中，野蛮屠杀居民，抢劫财物、破坏城市给东方各族人民带来了深重的灾难，但亚历山大东征使希腊文明得到了广泛传播，促进了东西方文明的进一步交流与融合。
——中华书局版《世界历史》九年级 上册

材料三
新航路的开辟，使世界上原来互相隔绝的地区沟通起来，欧洲和亚洲、非洲、美洲之间的贸易日益发展，世界市场扩大了……欧洲各国掀起了占有亚洲物产和美洲资源的竞争热，殖民浪潮从此愈演愈烈……从事商业的人大发横财，新兴资产阶级的力量日益增长……拥有雄厚经济实力的资产阶级渴望谋取政治地位，从而加速了资产阶级革命风暴的到来。
材料四

17 世纪到 19 世纪，美洲大陆黑人奴隶的价格从 400 美元上涨到 2000 美元，奴隶贩子从中获得巨额利润；同时，他们又从美洲将大量的黄金、白银以及糖、烟草、棉花源源不断地运回欧洲。这些不义之财成为奴隶贩子创办企业的重要资本来源。
(1) 材料一反映的是哪一历史事件？西汉时期，张骞两次出使西域，开通了中西交往的通道，历史上将这条通道称为什么？（4 分）

(2) 根据材料二结合所学知识，谈谈你对亚历山大东征的评价。（2 分）

(3) 根据材料三结合所学知识，概括新航路开辟的历史意义有哪些？发现美洲的著名航海家是谁？（4 分）

(4) 材料四反映的是哪一历史事件？（2 分）

(5) 根据上述四则材料，谈谈你对人类文明交往的认识。（2 分）

29. （12 分）阅读下列材料，回答问题。
材料一

火药、指南针和印刷术——这是预告资产阶级到来的三大发明：火药把骑士阶级炸得粉碎，指南针打开了世界市场并建立殖民地，而印刷术则变成了新教的工具，总的来说变成了科学复兴的手段，变成对精神发展创造必要前提的最强大的杠杆。
——马克思《经济学手稿》

材料二
此时的英国，正在孕育人类历史上一种崭新的生产方式，后世称之为“工业革命”。
——《大国崛起》解说词

材料三
中国民族资本主义产生于半殖民地半封建化过程中，从分布到类型上都体现出“后天不足”的病症……（中国）资产阶级虽然无力领导中国革命取得最终的胜利，确是推动中国近代化进程的重要进步力量之一……资产阶级也成为近代中国民主革命的重要力量，推动了近代中国民主革命的发展。

(1) 根据材料一结合所学知识，概括三大发明对欧洲的影响是什么？印刷术的发明者是谁？（4 分）

(2) 结合所学知识，写出材料二中“工业革命”开始的标志性发明。对蒸汽机进行改良的著名人物是谁？（4 分）

(3) 根据材料三结合所学知识，如何理解近代中国民族资本主义“从分布到类型上都体现出‘后天不足’的病症”？（2 分）

(4) 根据上述三则材料结合所学知识，谈谈科技发展对我国的启示。（2 分）