

2020-2021学年第二学期期中综合能力检测卷

数学 一年级 下册 人教版

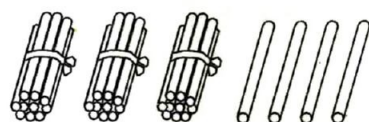
时间:60分钟 满分:(100+10)分

题号	一	二	三	四	五	六	七	八	总分	附加题
得分										

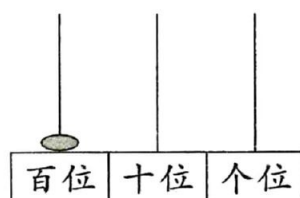
tián yì tián

一、填一填。(每空1分,共27分)

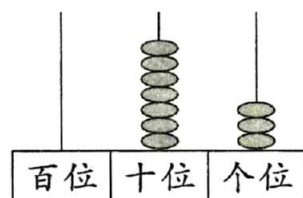
1. 看图写数。



()



()



()

2. 4个十和5个一合起来是();81里面有()个十和()个一。

3. 一个一个地数,58后面连续的两个数是()和();在33和40这两个数中,()更接近37。

4. (2018 临沂)用七巧板中的两个完全一样的三角形,可以拼成一个()形,也可以拼成一个()形。

5. (2019 杭州)一个两位数,个位上的数是9,十位上的数比个位上的数小5,这个数是(),与它相邻的两个数是()和()。

6. 在○里填上“>”“<”或“=”。

26 ○ 46 53 ○ 35 62 ○ 81 17 ○ 70

17 - 9 ○ 8 30 + 8 ○ 38 54 - 50 ○ 40

40 + 3 ○ 69 - 9 14 - 6 ○ 15 - 7 83 - 3 ○ 60 + 5

7. (2018 武汉)76个桃子,每个篮子里能装10个,能装满()个篮子,还多()个桃子。

8. (朝霞原创)“工匠精神”是一种文化,更是一种信仰,传达的是专注的态度。李师傅是一名优秀的雕刻艺术家,他雕刻某件中型艺术品用了43天,雕刻另一件大型艺术品比这件中型艺术品用的时间多得多。



李师傅雕刻另一件大型艺术品可能用了多少天?(画“√”)

15天	46天	98天

pàn yì pàn duì de huà cuò de huà

二、判一判。(对的画“√”,错的画“×”)(4分)

1. 读数和写数时,都从高位起。 ()

2. 最小的两位数是11。 ()

3. 计数器上,用3个珠子能摆出的数有12、21、30,共3个。 ()

4. 一个数在40和50之间,它的个位上是3,这个数是43。 ()

xuǎn yì xuǎn jiāng zhèng què dá àn de xù hào tián zài kuò hào lǐ

三、选一选。(将正确答案的序号填在括号里)(8分)

1. 个位上是2的两位数是()。


①2

②20

③32

2. 在钉子上不能围出图形()。

①



②



③



3. 下列数中,()比70大,比79小。

①89

②78

③58

4. (2018 济宁)从76数到81,一个一个地数,一共数了()个数。

①5

②6

③7

suàn yì suàn

四、算一算。(12分)

$$11 - 3 =$$

$$5 + 40 =$$

$$36 - 30 =$$

$$20 + 7 =$$

$$13 - 6 =$$

$$15 - 7 =$$

$$58 - 8 =$$

$$67 - 60 =$$

$$9 + 80 =$$

$$16 - 9 =$$


$$74 - 4 =$$

$$54 - 4 =$$

cāi cāi wǒ shì jǐ
五、猜猜我是几？(6分)



()




()

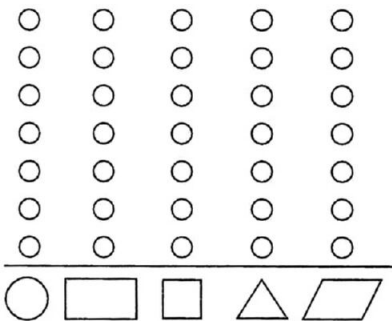


()

fēn lèi zhěng lǐ xià miàn tú xíng
六、分类整理下面图形。(17分)



1. 分一分,涂一涂。(5分)



2. 数一数,填一填。(4分)

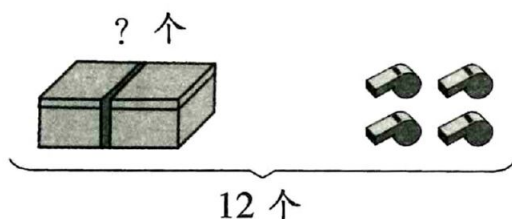
	白色	灰色
个数		

3. 按形状分,()的个数最多,()的个数最少。(4分)

4. 一共有()个图形。(4分)

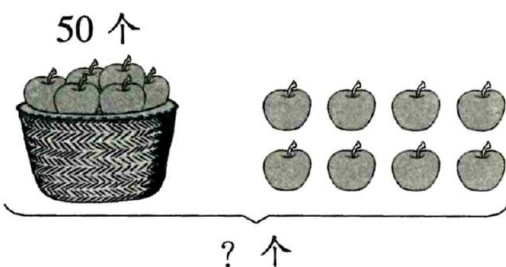
kàn tú liè shì jì suàn
七、看图列式计算。(8分)

1.



$$\square \bigcirc \square = \square ()$$

2.



$$\square \bigcirc \square = \square ()$$

jiě jué wèn tí
八、解决问题。(18分)

1.

我是小鸡欢欢。

我是小猫丫丫。

我是小猴贝贝。



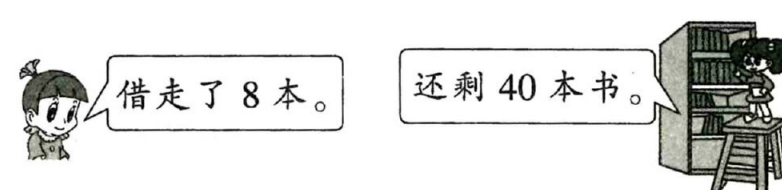
(1) 小鸡欢欢名字的笔画比小猫丫丫的多几画？(4分)

$$\square \bigcirc \square = \square ()$$

(2) 小猴贝贝名字的笔画比小鸡欢欢的少几画？(4分)

$$\square \bigcirc \square = \square ()$$

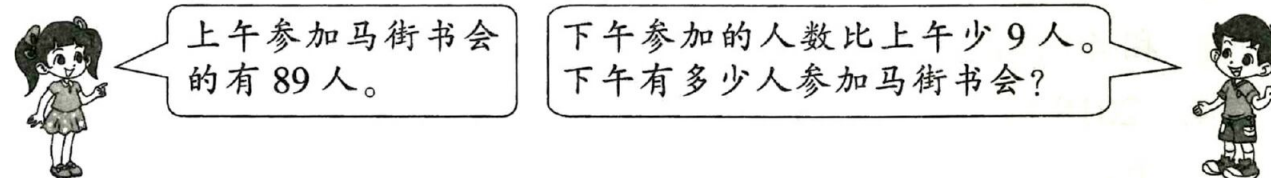
2.



原来有多少本书？(5分)

$$\square \bigcirc \square = \square ()$$

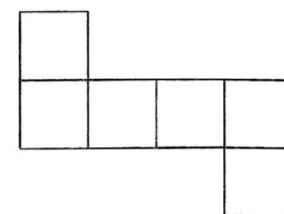
3. (朝霞原创)已被列入“河南民间文化遗产抢救工程”之一的马街书会是中国农民自发形成的文化盛会,被称为中国文化史上的一大奇观。(5分)



$$\square \bigcirc \square = \square ()$$

fù jiā tí
附加题。(10分)

从3,5,7,9,11,13,16,17中选出6个数填入下图中,使它折成的正方体的相对面上两个数的差是8。



【点拨】本题考查图形的认识及 20 以内的退位减法。因为 $11 - 3 = 8$, $17 - 9 = 8$, $13 - 5 = 8$, 所以 11 与 3 所在的面相对, 17 与 9 所在的面相对, 13 与 5 所在的面相对。