

贴 条 码 处

一年级数学

满分:100 分

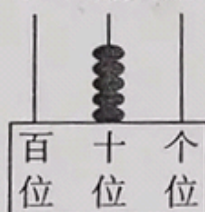
题 号	一	二	三	四	五	六	总 分
得 分							

请在各题目的答题区域内作答,超出黑色矩形边框限定区域的答案无效

评卷人 得分

一、认真填一填。(每空 1 分,共 35 分)

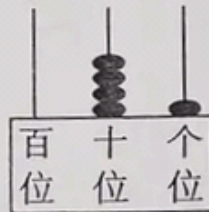
1. 写出计数器上的数。



()



()



()

2. 读出或写出下面各数。

92 读作()

一百 写作()

80 读作()

七十五 写作()

3. 按顺序写数。

42	43		45		
----	----	--	----	--	--

87		89			92
----	--	----	--	--	----

4. (1)69 添 1 是()个十。

(2)57 是()个十和()个一组成的。

5. 在○里填上“>”“<”或“=”。

$$39 \bigcirc 20$$

$$57 \bigcirc 75$$

$$12-7 \bigcirc 5$$

$$81 \bigcirc 99$$

$$60 \bigcirc 6$$

$$86-6 \bigcirc 8$$

6. 在□里填上合适的数。

$$12 - \square = 8$$

$$14 - \square = 8$$

$$20 + \square = 26$$

$$52 - \square = 50$$

$$\square + 70 = 79$$

$$45 - \square = 5$$

请在各题目的答题区域内作答,超出黑色矩形边框限定区域的答案无效

7. 按要求写数。

十位上是6的数


26 , 63

68 , 29

96 , 77

个位上是6的数

8.



() 个

() 个

() 个

() 个

() 个

评卷人	得分

二、动手做一做。(19分)

1. 分一分。(6分)

62

57

89

41


26

98

大于60的数

小于60的数

2. 把下面的杯子装进盒子里,能装满()盒,圈一圈。(2分)



6个

3. 在合适的答案下面画“√”。(2分)



苹果和香蕉各有多少个?

桃有29个。苹果比桃多一些,

香蕉比桃少得多。

	12	25	31	68
苹果				
香蕉				

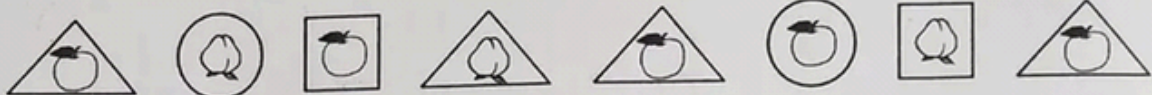
4. 圈一圈,算一算。(4分)



$11-4=$

$14-6=$

5. 分类与整理。(5分)



(1)按卡片的形状分一分。(3分)

	\triangle	\bigcirc	\square
数量			

(2)按水果的种类分一分。(2分)

数量		

评卷人	得分

三、连一连。(4分)

$$12-3$$

$$17-9$$

$$20+8$$

$$93-3$$

$$28$$

$$9$$

$$8$$

$$90$$

评卷人	得分

四、认真算一算。(22分)

1. 看谁算得又对又快。(12分)

$$11-4=$$

$$96-90=$$

$$11-3=$$

$$15-6=$$

$$86-6=$$

$$70+6=$$

$$2+60=$$

$$17-9=$$

$$15-7=$$

$$50+8=$$

$$71-70=$$

$$8+60=$$

2. 算一算。(4分)

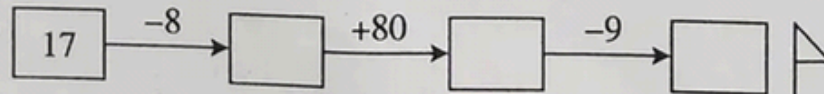
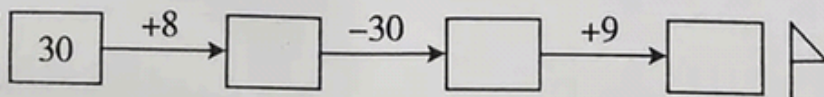
$$18-9+7=$$

$$6+7+2=$$

$$2+9-4=$$

$$18-5-8=$$

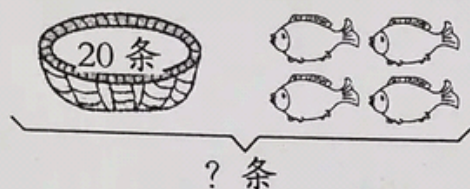
3. 夺红旗。(6分)



评卷人	得分

五、看图列式计算。(每式2分,共8分)

1.



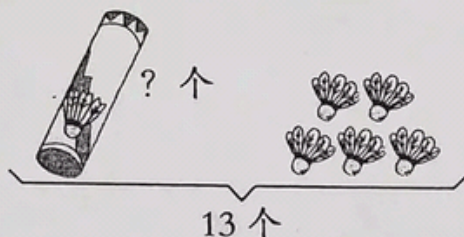
$$\square \bigcirc \square = \square (\text{条})$$

2.



$$\square \bigcirc \square = \square (\text{块})$$

3.



$$\square \bigcirc \square = \square (\text{个})$$

4.



$$\square \bigcirc \square = \square (\text{个})$$

评卷人	得分

六、我会解决问题。(每题3分,共12分)

1. 两个小组一共植树 15 棵,第二小组植树多少棵?

$$\square \bigcirc \square = \square ()$$

第一小组植树 7 棵。



2. 奶奶家养了 17 只羊和 9 只兔。羊比兔多几只?

$$\square \bigcirc \square = \square ()$$

3. 它们一共钓了多少条鱼?

$$\square \bigcirc \square = \square ()$$



我吃了 6 条鱼。

还剩 50 条。



4. 一(1)班有 48 人,如果每人一根跳绳,还差 8 根。一(1)班有多少根跳绳?

$$\square \bigcirc \square = \square ()$$