

喀什市第二十八中学2020-2021学年第二学期期中模考卷

一年级数学

(本试题满分 100 分,考试时间 60 分钟)

题 号	一	二	三	四	五	总 分
得 分						
评卷人						

亲爱的同学们,用你的智慧和细心,相信你会最棒! 注:认真书写,卷面整洁。

一、认真读一读,细心填一填(每空 1 分,共 28 分)

1. 19 的个位上是(),表示()个(),十位上是(),表示()个()。

2. 七巧板一共有()块,由()种图形组成,其中有 5 块(),()块正方形,()块平行四边形。

3. 拼成一个正方形最少需要()根小棒,拼成一个三角形最少需要()根小棒,拼成一个长方形最少需要()根小棒。

4. $5 + () = 14$ $15 - () = 6$

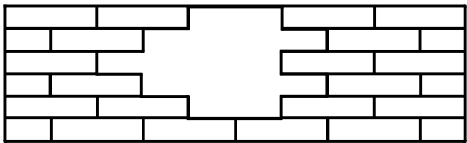
5. 在 \bigcirc 里填上“ $>$ ”、“ $<$ ”或“ $=$ ”。

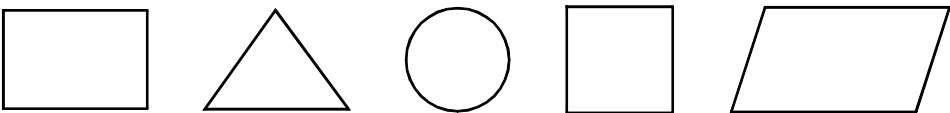
$$16 - 8 \bigcirc 9 \qquad 14 - 7 \bigcirc 6 \qquad 12 - 6 \bigcirc 3 + 5$$

$$13 - 7 \bigcirc 7 \qquad 11 - 6 \bigcirc 5 + 0 \qquad 3 + 4 \bigcirc 12 - 6$$

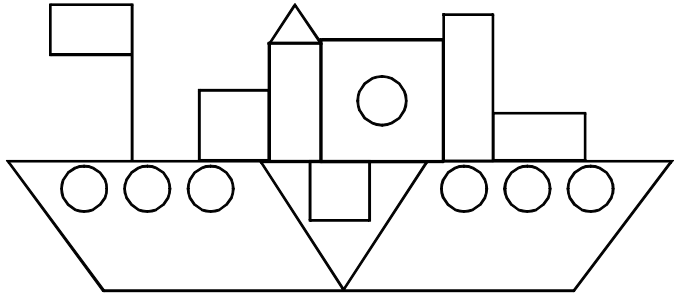
6. 7 比()少 8;14 比 9 多()。

7. 想一想,算一算,这面墙缺了()块砖。








8.  一共有()个图形。从左数 \bigcirc 是第()个,从右数,第四个图形是()。

二、考考你的眼力(8 分)



1. 仔细数一数,认真填一填。

图 形					
个 数					

2. ()最多,()和()同样多。

三、仔细看,认真算,我是计算小能手 (20 分)

$11 - 2 =$

$8 + 6 =$

$16 - 8 =$

$13 - 4 =$

$9 + 7 =$

$14 - 7 =$

$4 + 8 =$

$17 - 9 =$

$8 + 5 - 6 =$

$13 - 9 + 6 =$

四、把桃子放在相应的篮子里(连一连) (20 分)

14 - 7

13 - 7

15 - 7

12 - 3

13 - 8

6

5

7

9

8

18 - 9

12 - 6

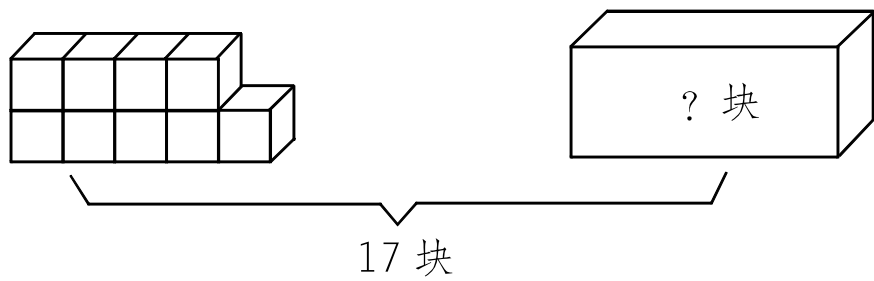
11 - 6

16 - 9

17 - 9

五、解决问题我最棒 (24 分)

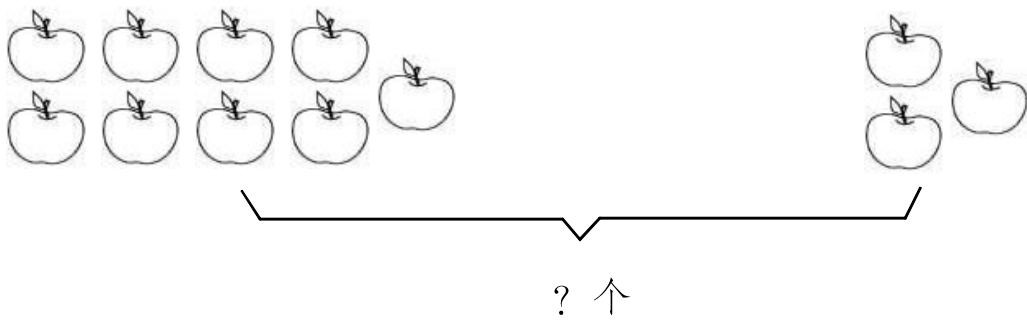
1. (6 分)



$\square \bigcirc \square = \square$

(块)

2. (6 分)



$\square \bigcirc \square = \square$

(个)

3. 鱼缸里有 13 条金鱼,黑色的金鱼有 8 条,剩下的都是红色的,红色的金鱼有多少条? (6 分)

$\square \bigcirc \square = \square$

(条)

4. (6 分)

小花

我捡了 12 个贝壳

小兰

我捡了 7 个贝壳

小花比小兰多捡了几个贝壳?

$\square \bigcirc \square = \square$

(个)