

小一数学

题号	一	二	三	四	五	六	附加题	总分
分值	25	10	34	8	10	13	10	110
得分								


小朋友,时间过得真快,转眼间你又在一年级进行了两个多月的学习,你都掌握了什么新知识呢,来检测一下吧!

一、我会填。(每空1分,第6题4分,共25分)

1. 拼成一个正方形最少需要()根同样长的小棒。
2. 一年级二班男生比女生多6人,女生就比男生少()人。
3. 找规律填数。



4. 教室的黑板是()形,1元硬币是()形,红领巾是()形。

5. 姐姐有12颗 ,妹妹有8颗,妹妹再有()颗就和姐姐的同样多。

6. 写出4个个位上是5的数:()。

7. 3个一和8个十组成();45是由()个十和()个一组成的。

8. 13比()多5,18比()少2。

9. 把79、37、46、53、20这五个数按从小到大的顺序填在()里。

() < () < () < () < ()

10. 小明打开一本故事书,翻开两页书的页码数相加的和正好是15,这两页的页码数是()和()。


二、我会选。(选择正确答案的序号填在括号里,每题2分,共10分)

1. 和50相邻的两个数是()。

A. 51、52

B. 48、49

C. 49、51

2. 原来有15盆 , 搬走了9盆, 还剩()盆。

A. 6

B. 7

C. 8

3. 用6个○摆出的最大两位数是()。

A. 71

B. 51

C. 60

4. 一个两位数, 十位上的数比个位上的数多3, 这个数可能是()。

A. 65

B. 41

C. 25

5. 把一张正方形纸对折一次, 不可能折成()。

A. 长方形

B. 三角形

C. 圆形

三、我会计算。(16 + 6 + 6 + 6 = 34分)

1. 直接写出得数。(16分)

$3 + 14 =$

$11 + 3 =$

$14 - 6 =$

$20 - 10 =$

$16 - 10 =$

$14 - 5 =$

$11 - 4 =$

$12 - 8 =$

$15 - 9 =$

$12 - 6 =$

$15 - 7 =$

$13 - 9 =$

$12 - 4 - 6 =$

$15 - 9 + 10 =$

$18 - 4 + 5 =$

$13 - 8 + 1 =$

2. 在()里填上合适的数。(6分)

$6 + () = 20$

$4 + () = 10$

$() + 5 = 12$

$() + 3 = 11$

$5 + () = 15$

$7 + () = 16$

3. 在○里填上“>”“<”或“=”。(6分)

$15 - 9 \bigcirc 4$

$9 + 8 \bigcirc 18$

$18 - 9 \bigcirc 9$

$5 + 8 \bigcirc 19 - 8$

$11 - 7 \bigcirc 7 + 7$

$17 - 9 \bigcirc 15 - 6$

4. 小猴子回家。(6分)



$9 \xrightarrow{+4} () \xrightarrow{-7} () \xrightarrow{+5} () \xrightarrow{-9} () \xrightarrow{+8} () \xrightarrow{+9} ()$




四、我会仔细观察。(4 + 4 = 8 分)

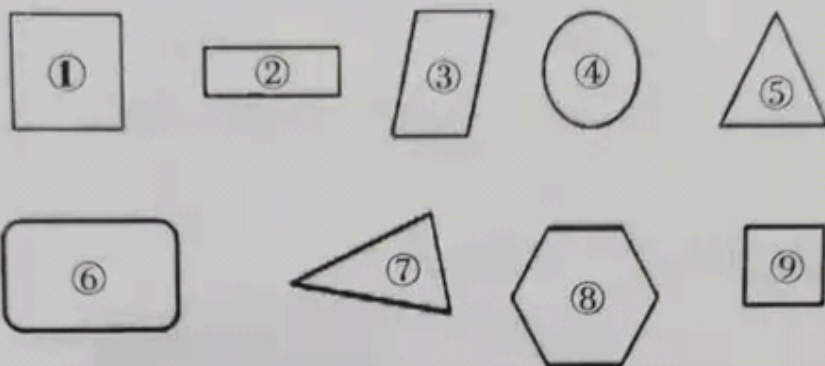
1. 看一看,填一填。(4 分)

(1) 七巧板由()种图形组成,其中()个三角形。

(2) 1 号和()号图形、4 号和()号图形是完全一样的。



2. 把每种图形的序号填在()里。(4 分)




长方形() 正方形() 三角形() 圆形()

五、我会看图列式。(5 + 5 = 10 分)



$$\square \bigcirc \square = \square ()$$



$$\square \bigcirc \square = \square ()$$

六、我会解决问题。(3 + 6 + 4 = 13 分)

1.



一共摘了 14 个桃子,吃了 9 个,还剩几个?(3 分)

2.



白兔



我们一共有 12 根红萝卜



灰兔

(1) 如果白兔有 8 根, 灰兔有多少根? (3 分)

$$\square \bigcirc \square = \square \text{ (根)}$$

(2) 如果灰兔有 6 根, 白兔有多少根? (3 分)

$$\square \bigcirc \square = \square \text{ (根)}$$

3.

我钓了 9 条鱼

妈妈钓了多少条鱼?



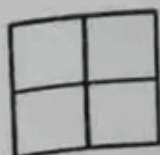
我们一共钓了 39 条鱼

(4 分)

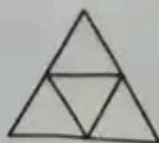
附加题。(4 + 6 = 10 分)

1. 小丽有 18 张卡片, 送给平平 5 张后, 两人的卡片张数同样多。平平原来有多少张卡片?

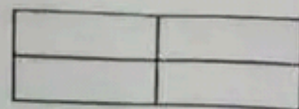
2.



() 个正方形



() 个三角形



() 个长方形