

# 2020 - 2021 学年度第二学期期中考试卷

## 二年级数学(RJ)

时间:60 分钟 满分:100 分

题号	一	二	三	四	五	六	七	总分
分数								


得分	阅卷人

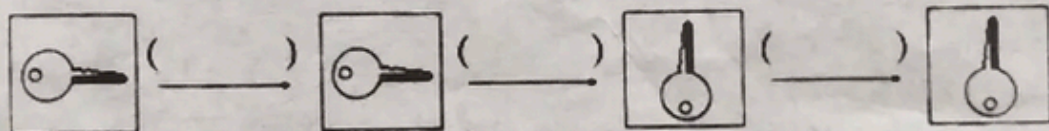
### 一、填空题。(每空 1 分,共 22 分)

1. 在计算  $40 - 20 \div 5$  时,要先算( )法,再算( )法,结果是( )。

2.  $\square\square\square\square\square\square\square\square\square\square\square\square$

上面一共有( )个  $\square$ ,每 3 个一份,可以分成( )份,列式是( )。

3. 根据  的变换,在括号里填上“平移”或“旋转”。



4. 有 24 个苹果,每个盘子装 4 个,可以装( )盘;如果每盘装 8 个,可以装( )盘。

5. 一本书有 65 页,已经看了 30 页,剩下的 5 天看完,平均每天看( )页。

6. 在  $\bigcirc$  里填上“ $>$ ”、“ $<$ ”或“ $=$ ”。

$3 \times 5 \bigcirc 14$

$4 \times 7 - 3 \bigcirc 4 \times (7 - 3)$

$40 \div 5 \bigcirc 27 \div 3$

$21 \div 3 \bigcirc 9$

$81 \div 9 \div 3 \bigcirc 81 \div 9 \times 3$

$45 - 2 \times 9 \bigcirc 5 \times 8 - 18$

7. 下面物体的运动是平移的画“ $\Delta$ ”,是旋转的画“ $\bigcirc$ ”。



( )



( )



( )



( )

准考证号

考号

考场

姓名

班级

学校

线

封

密



得分	阅卷人

## 二、判断题。(对的打“√”,错的打“×”)(5分)

1. 在算式里加上括号,只改变运算顺序,结果不变。( )
2. 长方形、正方形和圆形都是轴对称图形。( )
3. 每一句乘法口诀都能写出两道除法算式。( )
4.  $12 \div 3 = 4$  表示把 12 平均分成 4 份,每份是 3。( )
5.  $24 \div 4 \div 2$  的结果和  $24 \div (4 \div 2)$  的结果相同。( )


得分	阅卷人

## 三、选择题。(选择正确答案的序号)(5分)

1. 下面汉字中,( )不是轴对称图形。  
A. 国 B. 田 C. 坐
2. 被减数是 52,减数是  $24 + 8$ ,列成综合算式是( )。  
A.  $52 - 24 + 8$  B.  $52 - 24 - 8$  C.  $52 - (24 + 8)$
3. 下面算式中,( )不能用四九三十六来计算。  
A.  $36 \div 9$  B.  $36 \div 6$  C.  $4 \times 9$
4. 45 里面有几个 9? 列式正确的是( )。  
A.  $45 \div 5 = 9$  B.  $45 \div 9 = 5$  C.  $45 + 9 = 45$
5. 下面的算式中,计算结果最大的是( )。  
A.  $27 + 9 \div 3$  B.  $27 - 9 \div 3$  C.  $(27 - 9) \div 3$

得分	阅卷人

## 四、数一数,算一算。(10分)



图形	$\triangle$	$\bigcirc$	$\square$
个数(个)			

1. 图中( )最少,( )最多。
2.  $\bigcirc$  比  $\triangle$  少( )个, $\triangle$  比  $\square$  多( )个。
3.  $\triangle$ 、 $\bigcirc$  和  $\square$  一共有( )个。

列式:  $\square \bigcirc \square \bigcirc \square = \square$  (个)



得分	阅卷人

## 五、计算题。(30分)

1. 直接写出得数。(6分)

$3 \times 5 =$

$6 \times 8 =$

$36 \div 9 =$

$64 \div 8 =$

$7 \times 4 =$

$24 \div 4 =$

$20 \div 5 =$

$35 + 20 =$

$2 \times 9 =$

$7 \times 6 =$

$3 \div 1 =$

$95 - 13 =$

2. 脱式计算。(12分)

$71 - 26 + 35$

$54 \div 6 \times 7$

$(100 - 55) \div 5$

$8 \times (42 \div 7)$

$46 + 2 \times 9$

$72 \div (36 - 27)$

3. 下面的计算对吗？如果不对，把它改正过来。(6分)

$18 + 27 \div 9$

改正：

$18 \div 2 \times 3$

改正：

$= 45 \div 9$

$= 18 \div 6$

$= 5$

$= 3$

( )

( )

4. 先填空，再列综合算式。(6分)

$$\begin{array}{c} 32 \div 4 \\ \swarrow \quad \searrow \\ \square + 45 \\ \swarrow \quad \searrow \\ \square \end{array}$$

$$\begin{array}{c} 9 - 4 \\ \swarrow \quad \searrow \\ 6 \times \square \\ \swarrow \quad \searrow \\ \square \end{array}$$

算式：\_\_\_\_\_

算式：\_\_\_\_\_

得分	阅卷人

## 六、把镜子放在虚线上，看看整个图形是什么？(6分)



( )



( )



( )



得分	阅卷人

# 七、解决问题。(22 分)

- 妈妈给明明买了一个书包,剩下的钱又买了 5 本笔记本。妈妈一共带了多少钱?(4 分)



35元



3元

- 王老师买了 8 套新书,每套 5 本,发给同学们 28 本。还剩多少本?(4 分)

- 水族馆有 27 只红金鱼,45 只黑金鱼,放在 9 个鱼缸里。平均每个鱼缸放几只?(5 分)

- 超市运来 80 箱牛奶,周六卖了 25 箱,周日卖了 43 箱。还剩多少箱?(4 分)

- 火龙果原来每千克 12 元,晚上 8 时以后,2 千克 16 元。8 时以后每千克比原来便宜多少元?(5 分)