

考号
姓名
班级
学校
县(市、区)

2020-2021 学年度第二学期期中教学质量检测

四年级数学试题

(时间: 90 分钟 满分 100 分)

一、认真读题, 正确填写。(每空 1 分, 共 20 分)

- $7.68\text{m}^2 = (\quad) \text{dm}^2$ $36000 \text{m}^2 = (\quad) \text{公顷}$
 $5\text{t}80\text{kg} = (\quad) \text{t}$ $9\text{km}450\text{m} = (\quad) \text{km}$
- 0.085 的计数单位是 (), 它有 () 个这样的计数单位。
- 在下面的 \bigcirc 里填上 “>”、“<” 或 “=”。
 $25.78 \bigcirc 25.708$ $0.8\text{m} \bigcirc 800\text{cm}$ 7 元 5 角 \bigcirc 7 元 9 分
- 一个小数由 6 个十、8 个一、4 个十分之一和 9 个百分之一组成, 这个小数写作 (), 把它保留一位小数是 ()。
- 把 72569840 改写成用 “万” 作单位的数是 (), 再把它保留两位小数是 ()。
- 把 0.589 扩大到它的 () 倍是 58.9。把 () 缩小到它的 $\frac{1}{1000}$ 是 6.5。
- 如果 $\star + \triangle = 25$, 那么 $8 \times \star + 8 \times \triangle = (\quad)$ 。
- 给右边的算式添上小括号, 使算式的结果正确。 $180 \div 30 + 15 \times 2 = 42$
- 一个三位小数保留两位小数后是 5.80, 这个三位小数最大是 (), 最小是 ()。
- 把 $960 \div 24 = 40$, $210 + 40 = 250$, $250 \times 16 = 4000$ 写成一个综合算式是 ()。

二、火眼金睛辨对错。(对的在括号里打 “√”、错的打 “×”) (共 5 分)

- 任何一个自然数都比小数大。 ()
- 在表示近似数时, 小数末尾的 0 不能去掉。 ()
- $9.9 \square \approx 10.0 \square$ 里可以填的数有 5、6、7、8、9。 ()
- 整数的最小计数单位与小数的最大计数单位相差 0.9。 ()
- 在减法各部分间的关系中, 减数 = 被减数 + 差。 ()

三、认真选一选。(把正确答案的序号填在括号里)(共5分)

1. 下面的数只读一个零的是()。
A. 4.006 B. 300.07 C. 12.040
2. 下面是三位同学进行的100米赛跑成绩, 谁的成绩最好?()
A. 10.1秒 B. 9.95秒 C. 9.92秒
3. 如果 $36-12\div 2\times 3$ 要最后计算除法, 下面()中的括号添加的正确。
A. $36-12\div (2\times 3)$ B. $(36-12)\div (2\times 3)$ C. $36-[12\div (2\times 3)]$
4. 在小数85.8中, 小数点左边的“8”是右边的“8”的()倍。
A. 10 B. 100 C. 1000
5. 把4.975先缩小到它的百分之一后, 再扩大到它的1000倍是()。
A. 0.4975 B. 497.5 C. 49.75

四、争当计算小能手。

1. 直接写出下列各题的得数。(共6分)

$0.48\times 100=$	$18\times 5=$	$7200\div 90=$	$260\div 1000=$
$35.6\div 100=$	$25\times 6=$	$4500\div 15=$	$8.25\times 100=$
$4.7\times 1000=$	$50\times 14=$	$15\times 80=$	$52.3\div 10=$

2. 脱式计算。(能简算的要简算, 每题3分, 共18分)

$276+247+453+224$	$69\times 43+57\times 69$	$9700\div 25\div 4$
-------------------	---------------------------	---------------------

$$8\times 89\times 125$$

$$697-235-165$$



$$108\times 75$$

3. 只列综合算式计算。(每题 3 分, 共 6 分)

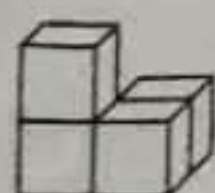
① 730 减去 80 除以 2 的商, 所得的差再除以 23, 商是多少?

② 346 加上 360 除以 90 的商, 所得的和再乘 18, 积是多少?

五、连一连。下面的图形分别是谁看到的? (共 6 分)



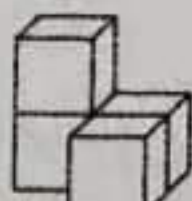
六、看一看, 填一填。(在括号里填写序号, 共 6 分)



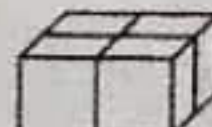
①



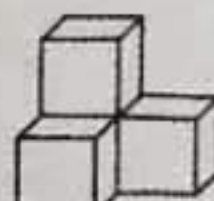
②



③





④




⑤



⑥

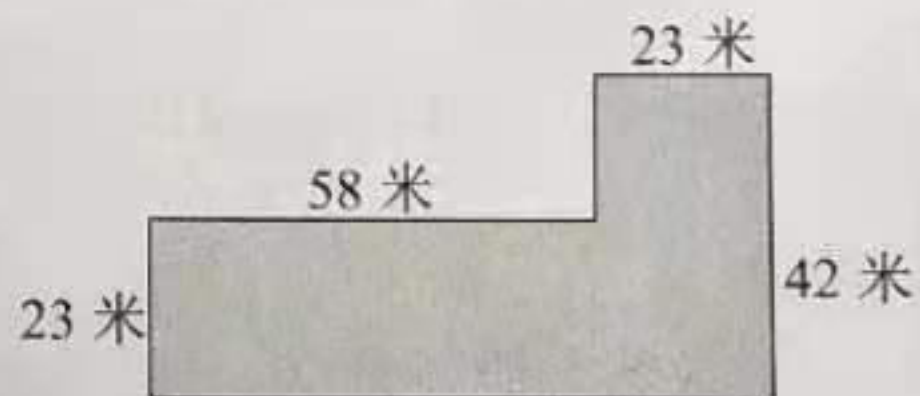
1. 从前面看到的图形是  的有 (), 看到的图形是  的有 ()。

2. 从左面看到的图形是  的有 ()。

七、解决问题。(每题 4 分, 共 28 分)

1. 红星商店新购进 5 车啤酒, 每车有 29 箱, 每箱有 12 瓶。红星商店一共购进多少瓶啤酒?

2. 星期天妈妈去商场买了一件 325 元的上衣和一双 298 元的皮鞋，给小红还买了一条 175 元的裙子。妈妈一共花了多少钱？
3. 某商场为促销活动做了 4 块同样大的长方形广告牌。已知每块广告牌长 25 dm，宽 19dm，这 4 块广告牌的总面积是多少平方分米？
4. 一列火车 10 分钟行驶 28.7 千米，照这样的速度，这列火车从 A 站到 B 站用了 1 小时 40 分钟。A、B 两站间的铁路长多少千米？
5. 每把椅子 58 元，每张单人课桌 98 元，学校新买了 90 套这样的单人桌椅，买课桌比买椅子多花多少钱？
6. 王爷爷家有一块玉米地（如右图），你能帮王爷爷算出这块地的面积吗？



7. 贵和商场运进 800 套保暖内衣，已知每套保暖内衣的进价是 98 元，售价是 123 元，这批保暖内衣全部售出后共盈利多少元？