

## 2020—2021 学年度第二学期一年级期中检测试卷

## 数学


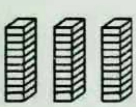
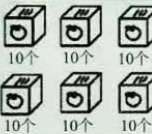
贴条形码区域

本试卷满分 100 分，考试时间为 60 分钟

| 题号 | 一 | 二 | 三 | 四 | 五 | 六 | 总成绩 |
|----|---|---|---|---|---|---|-----|
| 得分 |   |   |   |   |   |   |     |

一、填空。(每空 1 分，共 37 分)

1. 填空。

|   |   |   |
|---|---|---|
|  |  |  |
| 写作: ( )   | 写作: ( )   | 再添上 3 个就是 ( ) 个十, 即 ( )   |

2. 26 中, 6 在 ( ) 位上, 表示 6 个 ( ); 2 在 ( ) 位上, 表示 ( )。

3. 在 13, 92, 21, 35, 38 中, 35 比 ( ) 小一些, 比 ( ) 小得多。

4. 从 8, 2, 3 这三个数中任选两个数, 组成最大的两位数是 ( ), 最小的两位数是 ( )。

5. 一个两位数, 十位上是 8, 个位上是 3, 这个数是 ( ), 读作 ( )。

6. 6 个十加 4 个十是 ( )。

7. 15 比 9 大 ( ), 6 比 14 小 ( )。

8. 89 前面一个数是 ( ), 后面一个数是 ( )。

9. 如图, 盒子里面有 9 颗珠子, 数一数, 一共有 ( ) 颗珠子。



10. 按规律填数。

(1) 15, 25, ( ), ( ), 55, ( )。



11. 如右图中有 ( ) 个三角形, ( ) 个长方形, ( ) 个正方形, ( ) 个圆。



12. 在○里填上 “&gt;”, “&lt;”, “=”。

$$23 \bigcirc 32 \quad 77 \bigcirc 57 \quad 14 - 7 \bigcirc 8$$

$$60 \bigcirc 80 \quad 7 \bigcirc 15 - 9 \quad 10 \text{ 个一} \bigcirc 100$$

二、选择 (将正确答案的序号填在括号里)。(10 分)

1. 大青蛙吃了 78 只害虫, 小青蛙吃的比大青蛙少得多, 小青蛙可能吃了 ( ) 只害虫。

- ① 72                      ② 70                      ③ 29

2.  的六个面的形状都一样, 它的每个面都是 ( )。

- ① 长方形                      ② 正方形                      ③ 三角形

3. 七巧板是由 ( ) 种图形组成的。

- ① 4                      ② 7                      ③ 3

4. 27 后面第 6 个数是 ( )。

- ① 33                      ② 87                      ③ 21

5.13 - ( ) < 5 括号里最小能填 ( )。

① 11

② 8

③ 9

三、算一算，直接写出得数。(共 10 分)

$17 - 8 =$

$15 - 9 =$

$13 - 5 =$

$14 - 9 =$

$5 + 7 =$

$12 - 6 =$

$3 + 9 =$

$12 - 3 =$

$11 - 2 =$

$18 - 9 =$

四、连一连。(6 分)

下面的 3 张照片分别是谁拍的，连一连。



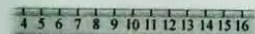
五、看图列式计算 (每小题 3 分，共 12 分)。

(1)



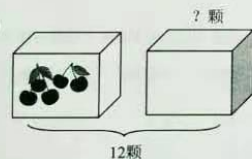
$\square \bigcirc \square = \square \text{ (架)}$

(3) 画一画，填一填。




$16 - 8 = \square$

(2)



$\square \bigcirc \square = \square \text{ (颗)}$

(4) 画一画，填一填。



$18 - 9 = \square$

六、解决问题。(共 25 分)

1. 一(3)班有 8 名男生和 7 名女生加入少先队，一(3)班共有多少名同学加入少先队? (3 分)

2. 鸡有 11 只，鸭有 7 只，鹅有 6 只。

(1) 鸡比鹅多多少只? (4 分)

(2) 公鸡有 3 只，母鸡有多少只? (4 分)

3. 书架上原来 14 本书，被借走了 6 本，还剩多少本书? (4 分)

4. 小红踢毽子踢了 15 下，小芳再踢 9 下就和小红一样多，小芳踢了多少下? (4 分)

5. 植树节时二年级植树 23 棵，一年级植树数量和二年级差不多，五年级植树数量比二年级多得多，一年级可能植树多少棵? (画“√”) 五年级可能植树多少棵? (画“△”) (6 分)

|     |      |      |      |
|-----|------|------|------|
| 5 棵 | 21 棵 | 11 棵 | 84 棵 |
|     |      |      |      |