

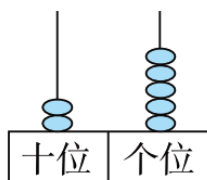
# 北师大版小学一年级下册数学期中模拟卷

考试时间：60 分钟 满分 100 分

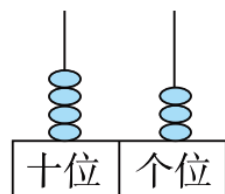
## 一、填空题。(每空 1 分，共 37 分)

1.看一看，填一填。

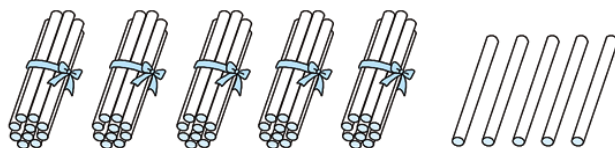
①这个数是( )。



②个位上有( )颗珠子，表示( )个一。



③( )个十和( )个一合起来是( )。



2.根据题目内容，在括号内填上合适的数。

( ) 80 ( ) 82 ( ) ( )

( ) 99 ( ) 97 ( ) ( )

3. 68 里面有( )个十和( )个一；90 里面有( )个十。

4. 7 个十和 9 个一合起来是( )；( )个十和( )个一合起来是 56。

5. 43 的个位上是( )，表示( )个( )；43 的十位上是( )，表示( )个( )。

6. 一个数从右边起，第一位是 3，第二位是 9，这个数是( )，它是( )位数。

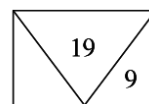
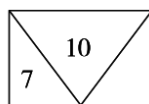
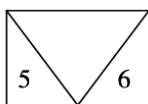
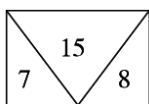
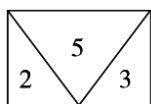
7. 根据百数表，请你判断 68 这个数应在( )区。

|    |    |    |    |  |  |  |    |  |  |
|----|----|----|----|--|--|--|----|--|--|
|    |    |    |    |  |  |  |    |  |  |
|    |    |    |    |  |  |  |    |  |  |
| 21 |    | A区 |    |  |  |  | B区 |  |  |
|    |    |    |    |  |  |  | 38 |  |  |
|    |    |    |    |  |  |  |    |  |  |
|    |    |    | 54 |  |  |  |    |  |  |
|    |    |    |    |  |  |  |    |  |  |
|    |    | C区 |    |  |  |  | D区 |  |  |
|    |    |    |    |  |  |  |    |  |  |
|    |    |    |    |  |  |  |    |  |  |
|    | 92 |    |    |  |  |  |    |  |  |

百数表

8.正方形有( )条边,三角形有( )条边,长方形有( )条边。

9.找规律,填一填。



10.一个两位数,个位上的数与十位上的数的和是10,这个两位数最大是( ),最小是( )。

## 二、判断对错。(每题1分,共5分)

1.80比86少一些,比20多得多。( )

2.十位上是9的两位数有9个。( )

3.中有3个三角形。( )

4.33中的两个“3”表示的意义相同。( )

5.两个三角形一定可以拼成一个正方形。( )

## 三、选一选。(每题2分,共10分)

1.下表是百数表的一部分。○代表的数是( )。

|    |    |    |    |    |
|----|----|----|----|----|
| 33 | 34 | 35 | 36 | 37 |
| 43 |    |    |    |    |
| 53 |    |    |    |    |
|    |    | ○  |    |    |

A.38 B.57 C.65

2.七巧板是由( )种图形组成的。

A.4 B.3 C.7

3.( )组的排列方式与其他三组不同。

A.17 27 37 47

B.15 25 35 45

C.21 41 61 81

D.34 44 54 64

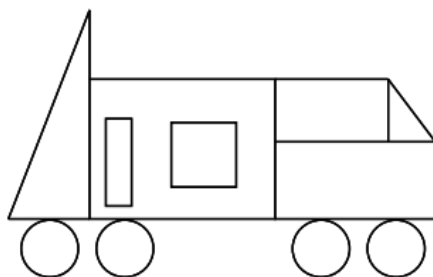
4.把一张长方形纸分成完全一样的两部分,不可能得到两个一样的( )。

A.长方形 B.正方形 C.平行四边形 D.三角形

5.公园里有杨树 20 棵,松树比杨树多一些,松树可能有( )棵。

A.23 B.70 C.16


#### 四、数一数,填一填。(8 分)




拼这辆车,用了( )个长方形, ( )个正方形, ( )个三角形, ( )个圆。

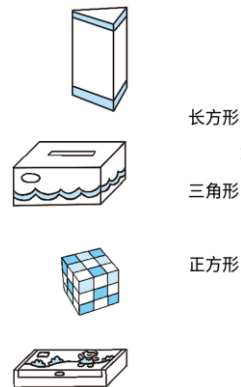
#### 五、动手实践。(15 分)

1.下面的照片分别是谁拍的?(连一连) (4 分)






2.用下面的物体分别能画出什么图形？(连一连) (5 分)



3.在点子图上画一个长方形、一个正方形和一个三角形。(6 分)



## 六、按要求做一做。(15 分)

1.直接写得数。(6 分)

$$\begin{array}{llll}
 12-3=( & ) & 16-8=( & ) & 8+7=( & ) & 6+5=( & ) \\
 5+5=( & ) & 6+6=( & ) & 13-4=( & ) & 14-5=( & ) \\
 15-8=( & ) & 12-5=( & ) & 17-3=( & ) & 13-8=( & )
 \end{array}$$

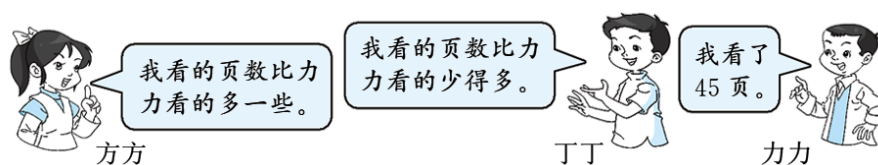
2.在( )里填上“>”“<”或“=”。(9 分)

$$14-7( & )9 \quad 12-2( & )13-5 \quad 16-2( & )11+3$$

$17-8( )7$     $14-5( )15-3$     $19-5( )12-4$   
 $13-7( )8$     $12-5( )11-4$     $13-6( )17-5$

## 七、解决问题。(10 分)

1. (4 分)



方方可能看了多少页? (画“△”) 丁丁可能看了多少页? (画“√”)

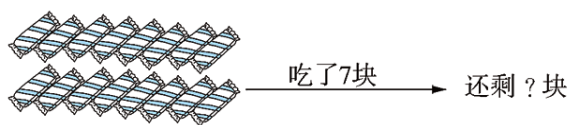
|      |      |      |      |
|------|------|------|------|
| 16 页 | 43 页 | 50 页 | 87 页 |
|      |      |      |      |

2. 乌鸦两次一共往水瓶里放了 17 块石头, 它第一次放了 9 块石头, 它第二次放了多少块石头? (3 分)



答: 它第二次放了( )块石头。

3. 看图列式计算。(3 分)



答: 还剩( )块。

## [参考答案]

一、

1. 25 3 3 5 5 55

2. 79 81 83 84 100 98 96 95

3. 6 8 9

4. 79 5 6

5. 3 3 一 4 4 十

6. 93 两

7. D

8. 4 3 4

9. 11 3 10

10. 91 19

二、


1.  $\checkmark$  2.  $\times$  3.  $\checkmark$  4.  $\times$  5.  $\times$

三、

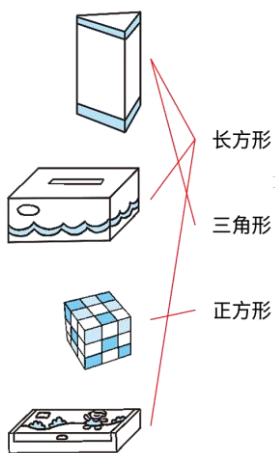
1. C 2. B 3. C 4. C 5. A

四、4 1 2 4

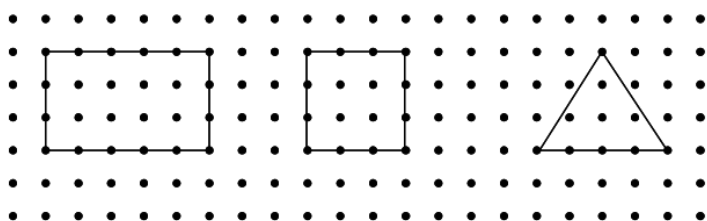
五、1.



2.



3.



六、

1. 9 8 15 11 10 12 9 9 7 7 14 5

2. < > = > < > < = <

七、

1.

|      |      |      |      |
|------|------|------|------|
| 16 页 | 43 页 | 50 页 | 87 页 |
| ✓    |      | △    |      |

2. 8 块

3. 9 块