

## 2020—2021 学年度第二学期二年级期中检测试卷

## 数学

贴条形码区域

本试卷满分 100 分，考试时间为 60 分钟

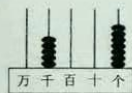
题号	一	二	三	四	五	六	总成绩
得分							

## 一、填空。(每空 1 分，共 29 分)

1. 把 26 个苹果平均分给 6 个小朋友，每个小朋友分到( )个，还剩下( )个。  
 2. 如图为某剧场座位示意图。这个剧场大约能容纳( )人。



3.



读作：\_\_\_\_\_ 写作：\_\_\_\_\_

( ) = ( ) + ( )

4. 400 分米 = ( ) 米 7 厘米 = ( ) 毫米 2000 米 = ( ) 千米

5. 8164 中的“8”在( )位上，表示( )个( )。

6. 在( )里填上合适的长度单位。

- (1) 妈妈的身高约是 165 ( )。  
 (2) 一元硬币的厚度约是 2 ( )。  
 (3) 数学书的宽约是 2 ( )。  
 (4) 我们学校操场的一圈约长 300 ( )。  
 (5) 从亳州到北京大约 850 ( )。

7. 用 3、0、4、7 组成的四位数中，最大的是( )，最小的是( )，最接近 4000 的是( )。

8. 在  $\square \div 8 = 7 \cdots \triangle$  中， $\triangle$  最大是( )，这时  $\square$  是( )。

9. 晚上当你面对北极星时，你的后边是( )面，左边是( )面，右边是( )面。

10. 市场在邮局东面 300 米，淘气家在邮局西面 200 米。(在图中将市场用“△”标出，淘气家用“○”标出)



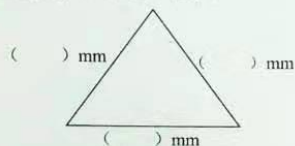
## 二、选择。(将正确答案的序号填在括号里)(10 分)

1.  $52 \div 9$  的余数是( )。  
 ①.6 ②.7 ③.8  
 2. 1060 中的“6”和下面( )中的“6”表示的意义相同。  
 ①.60 ②.106 ③.1600  
 3. 5006 读作( )。  
 ①.五千零零六 ②.五千零六 ③.五千六  
 4. 计算  $30 \div 5$  时，要用的乘法口诀是( )。  
 ①.五六三十 ②.五七三十五 ③.三十除以五  
 5. 丁丁放学回家朝东走，则学校在丁丁家的( )。  
 ①.东面 ②.东南面 ③.西面

## 三、画一画，量一量。(5 分)



1. 画一条长 83 毫米的线段。(2 分)

2. 量一量，填在( )里。(3 分)



#### 四、按要求完成下列各题。(22分)

##### 1.送小动物回家。(连一连)(4分)



300 比 950



4800 比 2500



1988 比 2000



5009 比 4995

##### 2. ( )里最大能填几?(6分)

$6 \times ( ) < 43 \quad 9 \times ( ) < 45 \quad 7 \times ( ) < 65$

$4 \times ( ) < 21 \quad ( ) \times 7 < 40 \quad ( ) \times 5 < 33$

##### 3.按要求排一排。(12分)

(1)	3085	5308	799	978	5093	703
-----	------	------	-----	-----	------	-----

( ) > ( ) > ( ) > ( ) > ( ) > ( )

(2)	3km	3mm	50m	60cm	7000cm	3dm
-----	-----	-----	-----	------	--------	-----

( ) < ( ) < ( ) < ( ) < ( ) < ( )

##### 五、用竖式计算。(12分)

$54 \div 7 =$

$45 \div 8 =$

$39 \div 5 =$

$67 \div 8 =$

$83 \div 9 =$

$36 \div 8 =$

#### 六、解决问题。(1—4题每题4分,第5题6分,共22分)

1.强强借了一本故事书,借期是一个星期,这本书有45页。他计划每天看6页。能按期还书吗?(4分)


2.一枝铅笔,用去7厘米,还剩下13厘米,这枝铅笔原来长几分米?(4分)

3.二(1)班40个同学去公园划船。(4分)



限乘6人

4.猜一猜我写的两个数各是多少?(4分)



5.小聪带50元去文具店买文具。

(1)如果全部买钢笔可以买几支?还剩多少元钱?(3分)



(1)如果50元恰好用完?小聪可以怎样买?(3分)