

三年级数学

注意事项:



1. 本试卷共4页,满分100分,时间90分钟,学生直接在试题上答卷;
2. 答卷前将装订线内的项目填写清楚。

题号	一	二	三	四	五	六	总分
得分							

卷首语:亲爱的同学们,时光如流水,不知不觉中又到了期中,这半学期来你学得如何呢?下面就请拿起手中的笔,用你的努力来证明自己的实力吧!

得分	评卷人



一、轻松自如,填一填。(每空1分,共19分)

1. 在括号里填上合适的单位。
 - (1)一条鱼约重2()。
 - (2)一辆货车的载重约为3()。
 - (3)一个足球约重430()。
2. 根据 $13 \times 4 = 52$, 直接写出下面算式的结果。
 $130 \times 4 = ()$ $13 \times 40 = ()$ $130 \times 40 = ()$
3. 填一填。
 7 吨 $= ()$ 千克 2000 千克 $= ()$ 吨 9000 克 $= ()$ 千克
4. (1)最大的三位数是(),最大的一位数是(),这个三位数除以这个一位数的商是()。
 (2)一共有84根胡萝卜。若平均分给5只小兔子,每只小兔子分到()根,还剩()根;若平均分给7只小兔子,每只小兔子分到()根。
5.  是()现象,  是()现象。(填“平移”或“旋转”)
6. 新修订的《未成年人保护法》将于2021年6月1日起施行。小明要打一份关于未成年人要遵守法律的文章,这篇文章有1500字,他每分钟打53个字,30分钟()打完。(填“能”或“不能”)
7. 李老师给同学们买奖品,如果买16元一支的钢笔,她带的钱恰好可以买18支钢笔;如果买书包,她带的钱恰好可以买6个书包,平均每个书包()元。

得分	评卷人

二、火眼金睛,判一判。(对的画“√”,错的画“×”)(每小题1分,共5分)

1. 6×400 与 60×40 的结果相同。 ()
2. 1000 克的沙子比 1 千克的石头重。 ()

3.  可以通过旋转得到 。

()

4. 1 头牛重 200 千克,5 头这样的牛重 1 吨。

()

5. 一个三位数除以 5 的商仍是一个三位数,那么被除数的最高位上的数不可能是 6。()

得分	评卷人

三、对号入座,选一选。(将正确答案的序号填在括号里)(每小题 1 分,共 5 分)

1. 下列交通标志中是轴对称图形的是()。



A.



B.



C.



D.

2. 18×15 的积的个位上的数字是()。

A. 0

B. 4

C. 5

D. 8

3. 一辆大卡车运了两次货物,第一次运了 4 吨,第二次运了 4000 千克,两次共运了()。

A. 4400 千克

B. 4040 千克

C. 8 吨

D. 6 吨

4. 下列算式中,商的中间有 0 的是()。

A. $630 \div 7$

B. $630 \div 6$

C. $603 \div 5$

D. $512 \div 2$

5. 有一种消毒水,4 瓶装一盒,6 盒装一箱,360 瓶消毒水可以装()箱。

A. 10

B. 12

C. 14

D. 15

得分	评卷人

四、看清题目,算一算。(共 33 分)

1. 直接写出得数。(每小题 1 分,共 8 分)

$20 \times 20 =$

$13 \times 10 =$

$11 \times 30 =$

$60 \div 3 =$

$28 \div 2 =$

$200 \div 5 =$

$404 \div 4 =$

$210 \div 7 =$

2. 用竖式计算。(带※的要验算)(10 分)

$11 \times 23 =$

$65 \times 64 =$

$850 \div 5 =$

$\text{※} 556 \div 6 =$

3. 仔细算一算。(脱式计算)(每小题 3 分,共 9 分)

$243 \div 3 \times 6$

$15 \times 20 \div 6$

$816 \div 4 \div 2$

4. 列式计算。(每小题 3 分,共 6 分)

(1) 507 里面有多少个 3?

(2) 被除数是 861,除数是 7,商是多少?

得分	评卷人

五、仔细观察,做一做。(共 14 分)

1. 填一填。(每空 1 分,共 2 分)

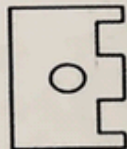





淘淘体重是 () 千克。

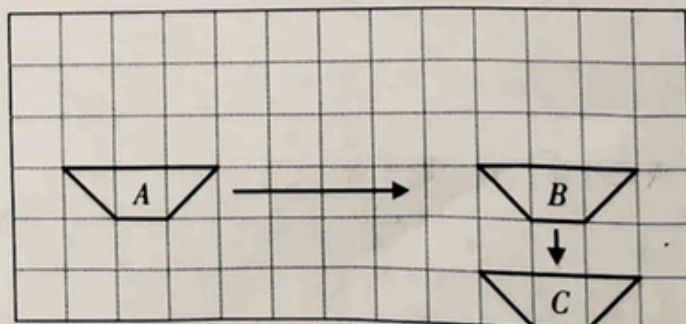


这些葡萄重 () 千克。

2. 下面上、下两排图形中,上面对折好的 3 个图形上下打开后分别会变成下面 3 个图形中的哪一个? 连一连。(6 分)



3. 填一填,画一画。(共 6 分)



(1) 如图,由图 A 到图 B 是向 () 平移了 () 格,由图 B 到图 C 是向 () 平移了 () 格。(每空 1 分,共 4 分)

(2) 将图 A 向上平移 3 格。(2 分)

得分	评卷人

六、走进生活,解一解。(共 24 分)

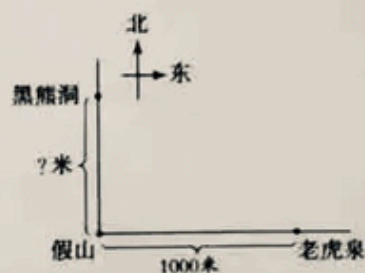
1. 停车场有面包车 24 辆,小汽车的辆数是面包车的 21 倍,小汽车有多少辆?(4 分)

2. 某文具店要装订日记本 984 本,装订了 6 天,还有 240 本没有装订,平均每天装订多少本?(5 分)

3. 一艘轮船 5 小时航行 255 千米,照这样航行下去,这艘轮船 8 小时可以航行多少千米?(5 分)

4. 小明每分走 54 米。(共 10 分)

(1) 如果小明从假山向北走,13 分后正好到达黑熊洞,黑熊洞距离假山有多远?(4 分)



(2) 小明从假山出发,向东走 16 分后,在老虎泉的东面还是西面? 距老虎泉有多少米?(6 分)

