

# 2021 年春学期期中学情调研一年级数学试卷

## (一) 基础部分 (70分)

卷首语: 亲爱的小朋友, 半学期下来, 你的收获一定不少吧! 下面就做好准备, 我们一起来享受成功的喜悦吧! 答题的时候, 一定要特别认真哦!

### 一、细心审题, 我会算。(20 分)

$10+7=$

$28+30=$

$40+37=$

$10-4=$

$18-9-9=$

$11-6=$

$6+6=$

$14-5=$

$36+20=$

$30+70-40=$

$24-20=$

$13-4=$

$5+6=$

$60+30=$

$7+6-8=$

$3+35=$

$41+7=$

$42+3=$

$3+9=$

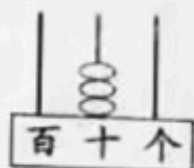
$10+80+6=$

### 二、用心思考, 我会填。(第 8 题 6 分, 其余每空 1 分, 共 33 分)

1. 看图写数。



( )



( )



( )

2. 5 个一和 6 个十组成的数是 ( ), 再添上 1 个十是 ( )。
3. 与 90 相邻的两个数是 ( ) 和 ( )。比 50 大 1 的数是 ( ), ( ) 比 60 小 1。

4. 在  $\bigcirc$  里填上 “<” “>” 或 “=”。

$98 \bigcirc 89$

$11-8 \bigcirc 3$

$100 \bigcirc 93+6$

$35-4 \bigcirc 35+4$

5. 按规律接着写。

(1) 60, 65, 70, ( ), ( )。

(2) 86, 84, 82 ( ), ( )。

(3) 100, 90, 80, ( ), ( )。

6. 一个加数是 8, 另一个加数是 40, 和是 ( ); 被减数是 16, 减数是 7, 差是 ( )。

7. 亮亮和方方看同一本故事书, 亮亮看了 34 页, 方方看了 30 页, ( ) 剩下的多, 多 ( ) 页。

8. 选择合适的数填在圈里。(6分)

42    74    47    84    49    93

十位上是4的数

单数

比50大的数

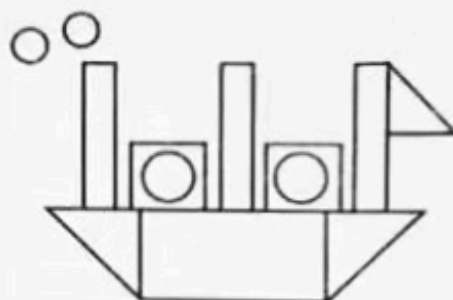


9. 右图中,有( )个三角形

( )个正方形


( )个长方形

( )个圆形



三、心灵手巧,我会画。(6分)


10. 在下面的方格纸上画一个长方形和一个三角形。(4分)



11. 在图中画一条线,按要求分成两个图形。(2分)



分成2个三角形



分成2个长方形

四、问题解决,我能行。(3+3+5=11分)

12. 岸上有40只鸭子,河里的鸭子和岸上同样多,一共有多少只鸭子?

$$\square \bigcirc \square = \square \quad ( )$$

13. 还有多少页没有看?

$$\square \bigcirc \square = \square \quad ( )$$

这本书共有85页,我已经看了20页。



14.



我们家养了 20 只公鸡, 66 只母鸡,



明明

(1) 明明家一共养了多少只鸡? (2 分)

$$\square \bigcirc \square = \square \quad ( \quad )$$

(2) 卖掉一些鸡后, 还剩 50 只。卖了多少只鸡? (3 分)

$$\square \bigcirc \square = \square \quad ( \quad )$$

### (二) 提高部分 (30 分)

五、仔细推敲, 我会选。(选择合适的答案, 在  $\square$  里打“ $\checkmark$ ”。)(10 分)

15. 22 左边的 2 表示什么意思?

2 个十  $\square$ 2 个一  $\square$ 22 个一  $\square$ 

16. 在计数器上用 4 颗算珠, 最多可以拨出几个不同的两位数?

6 个  $\square$ 5 个  $\square$ 4 个  $\square$ 

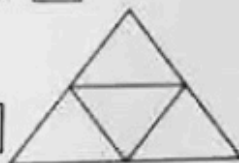
17. 小丽有 65 个彩色球, 小芳的彩色球比小丽多一些, 而且是个双数。小芳可能有多少个彩色球?

98 个  $\square$ 67 个  $\square$ 68 个  $\square$ 

18. 把一张正方形纸对折一次, 不可以折出下面的哪种图形?

长方形  $\square$ 正方形  $\square$ 三角形  $\square$ 

19. 右图中有几个三角形?

3  $\square$ 4  $\square$ 5  $\square$ 



六、问题解决, 我能行。(4+6+4+6=20 分)

20. 商店里运进一批跳绳, 5 天卖掉 30 根跳绳, 还剩下 13 根, 商店原来运进跳绳多少根?

$$\square \bigcirc \square = \square \quad ( \quad )$$

21.

	电冰箱	洗衣机	电视机
原有	56 台	( ) 台	45 台
卖出	30 台	20 台	( ) 台
还剩	( ) 台	18 台	4 台

22. 学校体育室有  58 个，一(1)班借走 14 个，一(2)班借走 20 个，两个班一共借走多少个  ?

$$\square \bigcirc \square = \square ( )$$

23.

		
46 人	16 人	30 人

- (1) 踢毽子和打乒乓球的一共有多少人?

$$\square \bigcirc \square = \square ( )$$

- (2) 跳绳的男生有 20 人，跳绳的女生有多少人?

$$\square \bigcirc \square = \square ( )$$



卷尾语：小朋友，恭喜你顺利完成了练习，可别忘了细心检查呀！