

苏教版小学一年级下册数学期中测试卷

考试时间：60 分钟、满分：100 分

一、填空。(每空 1 分，共 24 分)

1. 5 个十和 7 个一是() 3 个十和 7 个十合起来是()个十，也就是()。

2. 86 是由()个十和()个一组成的。

3. 63 个位上的数是()，表示()个() 十位上的数是()，表示()个()。

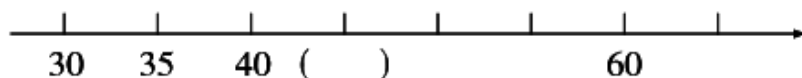
4. 最小的两位数是()，最小的三位数是()，它们的差是()。

5. 一个两位数，个位与十位上的数的和是 10，这个两位数最大是()，最小是()。

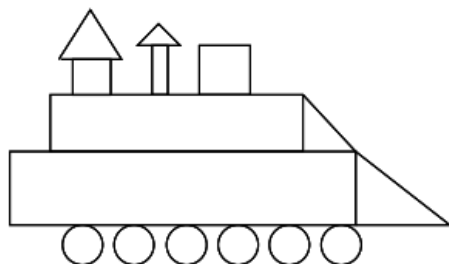
6. 最大的两位数比最大的一位数多()。

7. ()比 36 少 20，20 比()少 6。

8. 按规律填数。



9. 数一数，填一填。

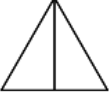


有()个△，
有()个□，
有()个○，
有()个□。

二、判断。(每题 2 分，共 10 分)

1. 35 比 86 少一些，比 20 多得多。()

2. 十位上是 9 的两位数有 9 个。()

3.  中有 3 个三角形。()

4. 25 比 38 少 13，也就是 38 比 25 多 13。()

5. 两个三角形一定可以拼成一个正方形。()

三、按要求完成下面各题。(22 分)

1. 口算。(每题 1 分, 共 8 分)

$$46-30=$$

$$97-6=$$

$$23+30=$$

$$51+18=$$




$$45+40=$$

$$12+7=$$

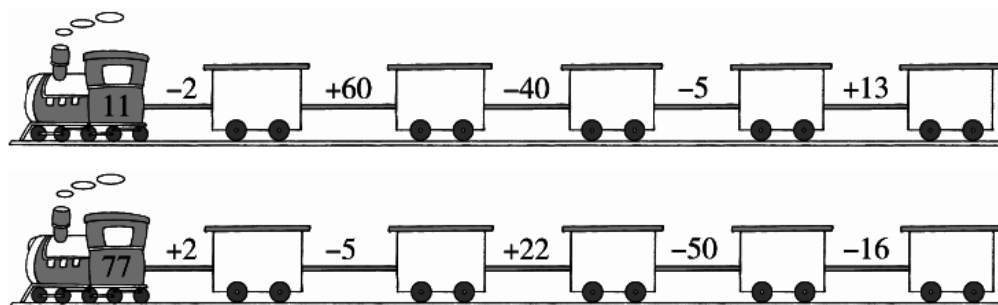
$$53-20=$$

$$28-14=$$

2. 把得数相同的算式连起来。(4 分)



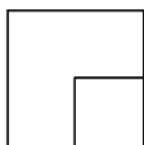
3. 小火车开起来了! (10 分)



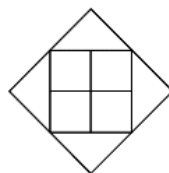
四、数一数, 填一填。(6 分)



()个三角形



()个正方形

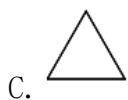


()个正方形

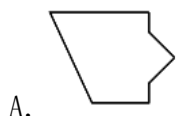
五、选图形，拼一拼。(每题 3 分，共 6 分)



选____可以拼成三角形。



选____可以拼成长方形。



六、解决问题。(32 分)

1. 小强比小丽少钓多少条鱼？(6 分)

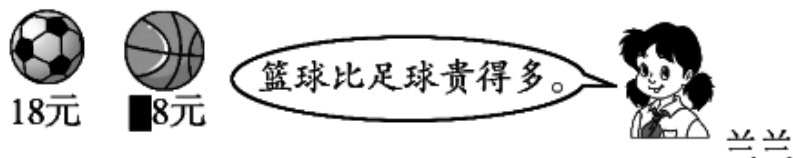


我钓了13条鱼。

我钓了8条鱼。



2. 篮球的标价看不清了，但是兰兰付出了一张 50 元的纸币，找回的钱比 5 元少。篮球的价格可能是多少呢？在你认为合适的答案下面画“√”。(5 分)



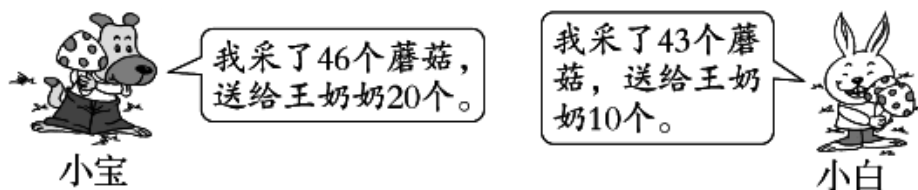
38 元	30 元	48 元	58 元

3. 学校合唱团。(6 分)



- (1) 合唱团一共有多少人？
- (2) 男生比女生多多少人？



4. 采蘑菇。(9 分)

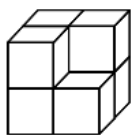


- (1) 小白比小宝少采了多少个蘑菇？

(2) 小宝和小白一共采了多少个蘑菇？

(3) 送给王奶奶后，谁剩下的蘑菇多？

5. 一共有 15 个 ，搭成下边的图形后，还剩下多少个 ？(6 分)



[参考答案]

一、

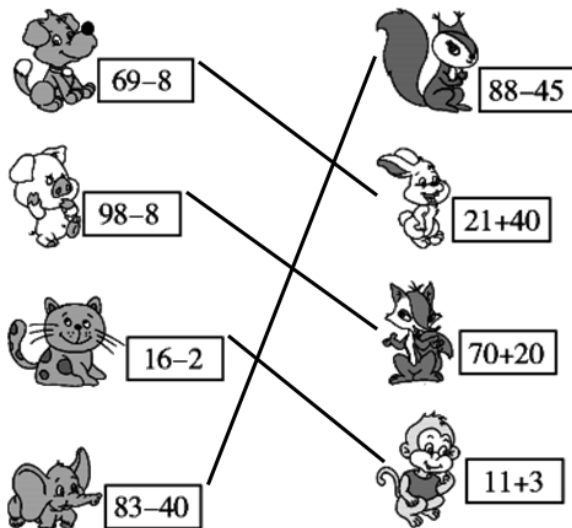
1. 57 10 100
2. 8 6
3. 3 3 一 6 6 十
4. 10 100 90
5. 91 19
6. 90
7. 16 26
8. 45
9. 4 2 6 3

二、

1. \times 2. \times 3. \checkmark 4. \checkmark 5. \times

三、

1. 16 91 53 69 85 19 33 14



2.

3. 9 69 29 24 37 79 74 96 46 30

四、 3 2 6

五、

1. B 2. B

六、

1. 5 条

48 元



2.

3. (1) 38 人 (2) 14 人

4. (1) 3 个 (2) 89 个 (3) 小白

5. 8 个